

Nombres et quantités: de 0 à 199




1 Ecris les nombres manquants:

183	186
-----	------	------	-----




....	126
------	------	------	-----



....
....
189	192

117
-----	------	------	------



155
-----	------	------	------

....	165
------	------	-----

....
....
....
149
....	159

....
....
....
....

2 Colorie les nombres identiques :

cent - quatre - vingt - quatre

123

$100 + 80 + 4$

$100 + 20 + 3$

$100 + 9$

109

$100 + 40 + 9$

cent - neuf

cent - quarante - neuf

184

149

cent - vingt - trois

3 Complète :

182	$100 + 80 + 2$
146	
187	
141	

	$100 + 40 + 5$
	$100 + 90 + 3$
	$100 + 50 + 7$
	$100 + 10 + 9$

Prénom : _____

Date: _____

Nombres et quantités : de 0 à 199



1 Complète le tableau:

nombre avant	nombre	nombre après
	145	
108		
		161
197		

2 Complète avec $<$, $>$ ou $=$:

3  15

165 195

110 101

119 91

90 109

167 176

98 185

141 114

111 88

3 Relie les nombres à leur place sur la droite graduée

99

112

108

134

127

100


110

120

130

140

4 Complète la bande numérique:



Nombres et quantités : de 0 à 199



1 Relie les nombres identiques :

125

cent - quatre - vingt - cinq

124

cent - vingt - cinq

185

cent - quatre

104

cent - cinquante - cinq

155

cent - vingt - quatre

105

cent - cinq

150

cent - cinquante

2 Compte en groupant par 10, puis par 100:

A collection of small toy car icons scattered across the page for counting practice. There are 10 groups of 10 cars each, totaling 100 cars. An empty rounded square box is provided for the student to write the total count.

A collection of small toy car icons scattered across the page for counting practice. There are 10 groups of 10 cars each, totaling 100 cars. An empty rounded square box is provided for the student to write the total count.

Prénom : _____

Date: _____

Nombres et quantités : de 0 à 199



1 Encadre le nombre avec les nombres de ton choix:

..... 112

..... 148

..... 58

..... 125

..... 185

..... 176

..... 95

..... 122

..... 198

2 Ecris les nombres dans l'ordre croissant, du plus petit au plus grand:


181 - 94 - 173 - 89 - 97 - 167 - 184

--	--	--	--	--	--	--	--

3 Ecris les nombres en lettres:

109	
125	
138	
164	
198	
155	

4 Complète la bande numérique:



Prénom : _____

Date: _____

Nombres et quantités : de 0 à 199



1 Encadre le nombre entre deux dizaines qui se suivent:

..... 152

..... 188

..... 78

..... 165

..... 145

..... 166

..... 85

..... 112

..... 178

2 Colorie en bleu les unités, en rouge les dizaines et en vert les centaines

192

198

9

19

119

89

79

86

67

199

167

99

3 Ecris les nombres dans l'ordre croissant, du plus petit au plus grand:

105 - 195 - 140 - 98 - 79 - 164 - 150

□ □ □ □ □ □ □

4 Dessine :

123		154
105		160

Prénom : _____

Date: _____

Nombres et quantités : de 0 à 199

3  15

1 Complète avec $<$, $>$ ou $=$:

102 $100 + 20$

167 $100 + 70$

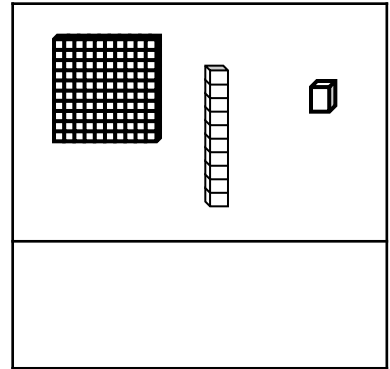
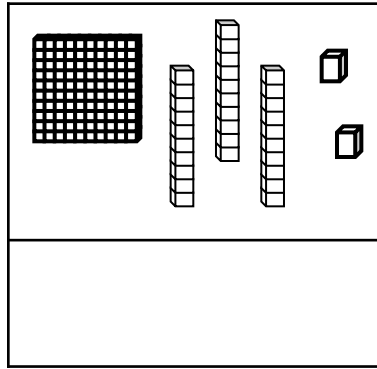
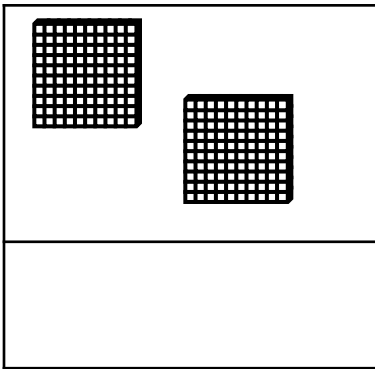
138 $100 + 30 + 8$

130 $100 + 30 + 1$

156 $100 + 60 + 5$

175 $100 + 100$


2 Compte et complète :



3 Ecris les nombres du plus grand au plus petit:

105 - 86 - 185 - 134 - 96 - 110 - 100

4 Complète :



Prénom : _____

Date: _____

Nombres et quantités : de 0 à 199

3  15

1 Complète avec $<$, $>$ ou $=$:

152 cent - deux

177 cent - dix - sept

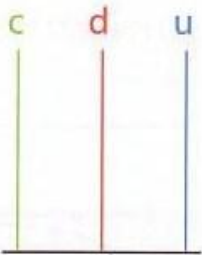
128 cent - dix - huit

103 cent - trois

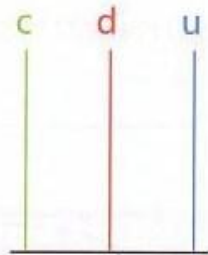
136 cent - cinquante

165 cent - soixante

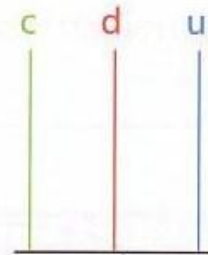
2 Complète les abaques :



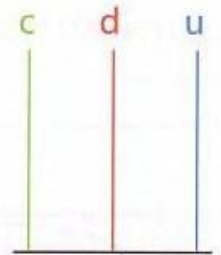
125



108



167




118

3 Complète le tableau :

127	$100 + 20 + 7$	$1c + 2d + 7u$
165		
149		
182		
109		

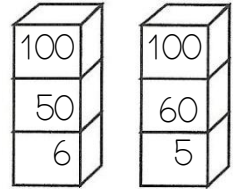
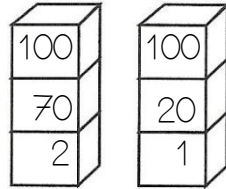
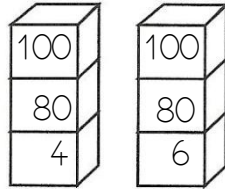
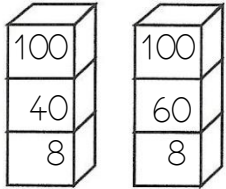
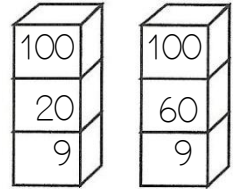
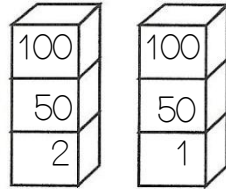
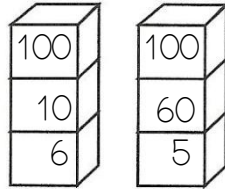
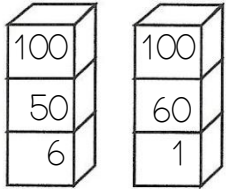
4 Complète :




Nombres et quantités : de 0 à 199



1 Colorie la pile qui représente le plus petit nombre:



2 Entoure les pièces et billets qu'il faut choisir pour avoir 136€ :



Pour avoir 136€, il faut :

.....	billets de 100 €
.....	billets de 10 €
.....	pièces de 1 €

3 Relie les nombres à leur place sur la droite graduée :

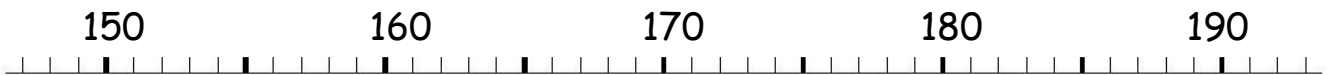
159

172


181

179

187



4 Complète :



Prénom : _____

Date: _____


Nombres et quantités : de 0 à 199



1 Complète les compteurs :

135	148	171	103	157	111
136	149	172	104	158	112

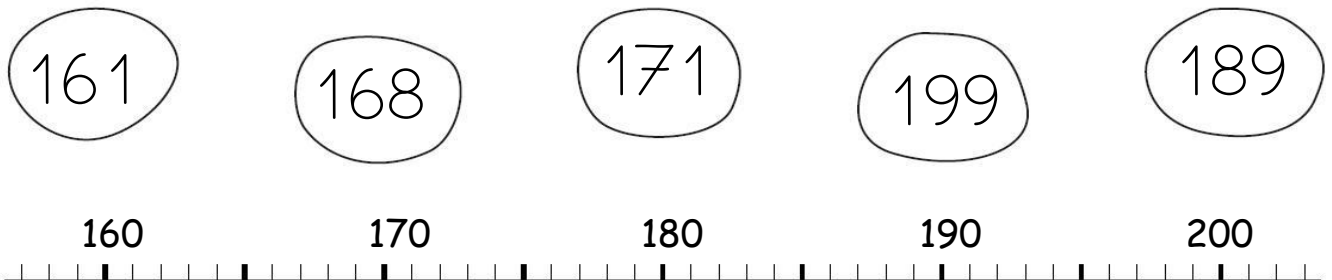
2 Entoure les pièces et billets qu'il faut choisir pour avoir 147€ :




Pour avoir 147€, il faut :

.....	billets de 100 €
.....	billets de 10 €
.....	pièces de 1 €

3 Relie les nombres à leur place sur la droite graduée :



4 Complète :



Prénom : _____

Date: _____

Nombres et quantités : de 0 à 199



1 Ecris en chiffres :

cent - cinquante - six :

cent - soixante - dix :

cent - cinquante - six :

cent - trois :


cent - quatre - vingt - dix :

cent - vingt - neuf :

cent - onze :

cent - quatre - vingt - deux :

2 Entoure les pièces et billets qu'il faut choisir pour avoir 106€ :



Pour avoir 106€, il faut :

.....	billets de 100 €
.....	billets de 10 €
.....	pièces de 1 €

3 Ecris les nombres à leur place dans les sacs :

199 - 177 - 187 - 174 - 168 - 163 - 183 - 193

