

Evaluation

Mathématiques
Fractions (1)

Compétences évaluées	1	2	3	4
Nommer les fractions simples et décimales en utilisant le vocabulaire : demi, tiers, quart, dixième, centième.				
Utiliser ces fractions dans des cas simples de partage ou de codage de mesures de grandeurs.				

1 : la notion est acquise 2 la notion est acquise mais il reste 1 ou 2 erreurs
3 la notion commence à être acquise 4 la notion n'est pas acquise

1. Ecris en lettres les fractions suivantes

$\frac{3}{4}$

$\frac{8}{3}$

$\frac{9}{2}$

$\frac{7}{10}$

$\frac{2}{12}$

2. Ecris en chiffre les fractions suivantes

sept demis

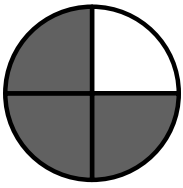
trois centièmes

douze quarts

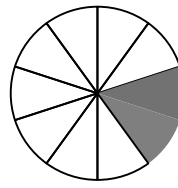
vingt-cinq tiers

dix-huit douzièmes


3. Ecris quelle fraction de l'unité représente la partie coloriée en gris.



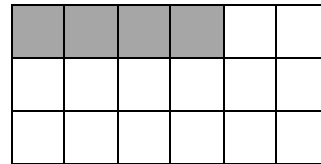
.....



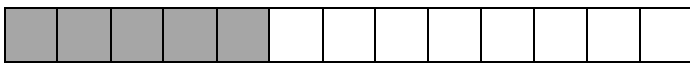
.....



.....

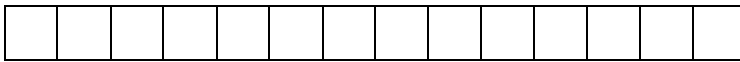


.....

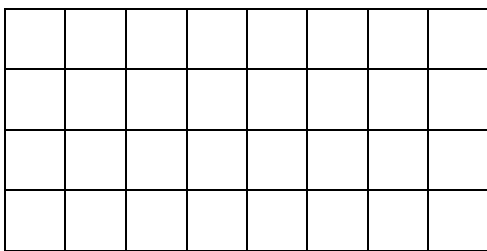


.....

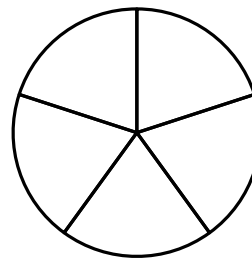
4. Colorie la fraction demandée.



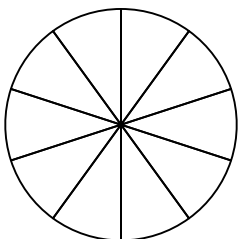
$$\frac{5}{14}$$



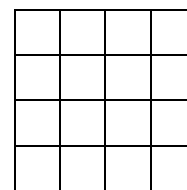
$$\frac{10}{32} u$$



$$\frac{2}{5} u$$



$$\frac{6}{10} u$$



$$\frac{1}{2} u$$