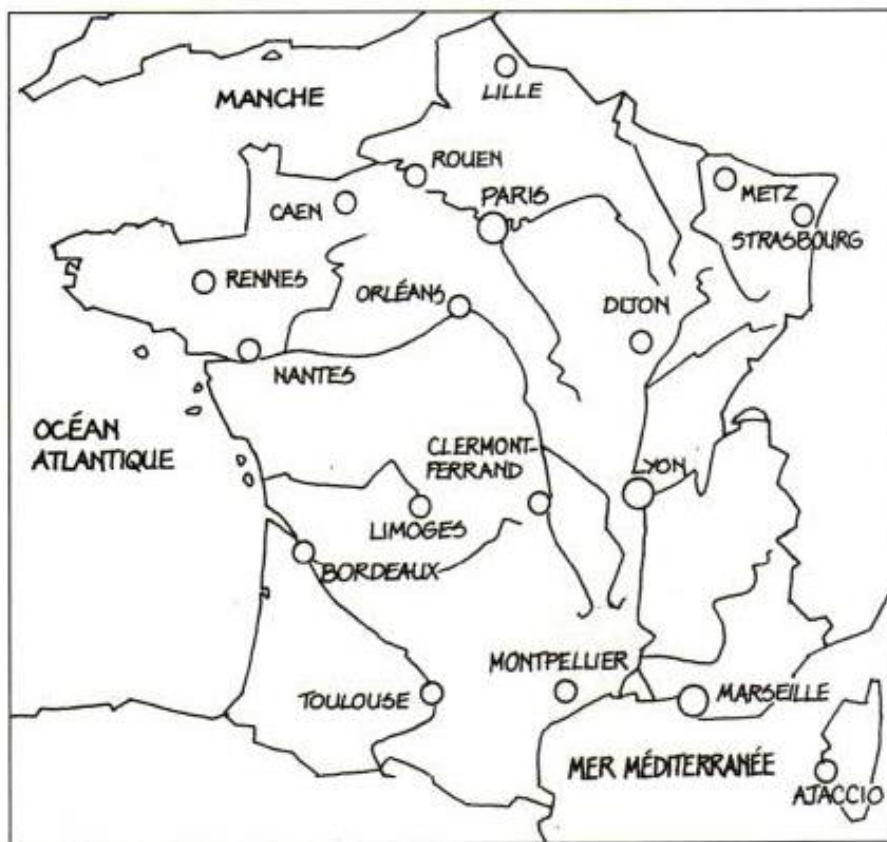
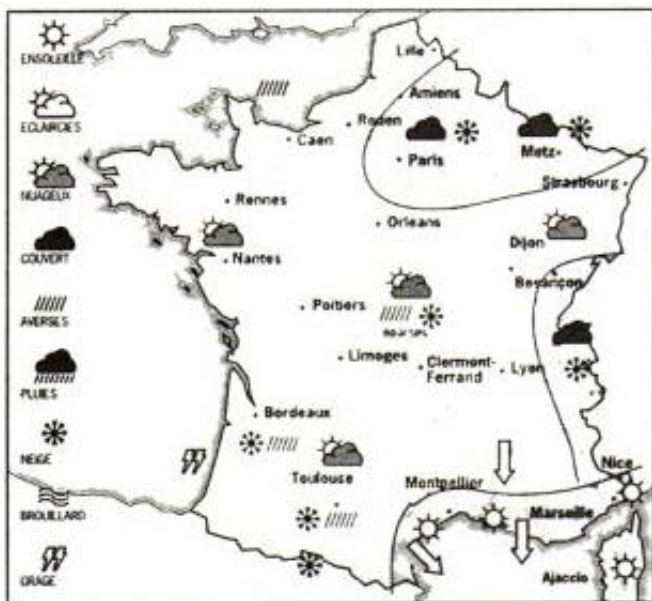


1 Voici une carte de France.



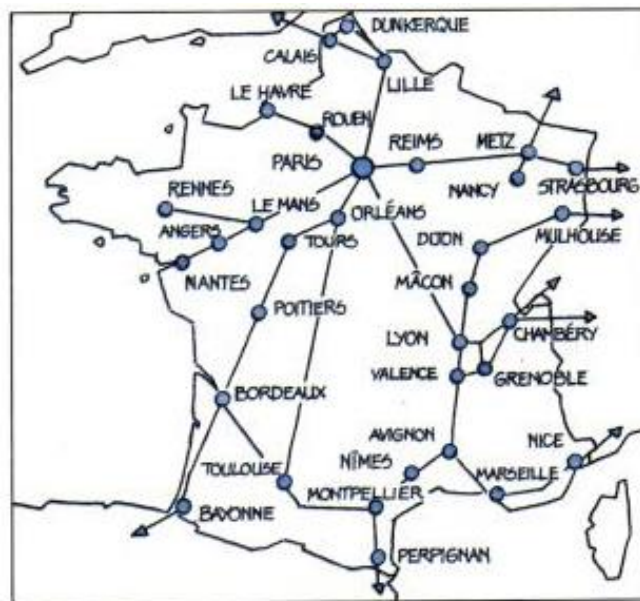
- a **Repasse** en noir les contours de la France.
- b **Colorie** en bleu, les mers et les océans.
- c **Colorie** les plus grandes villes de France :
 - en rouge la capitale : Paris
 - en jaune Marseille, Lyon, Toulouse, Nantes et Strasbourg
- d **Fais** une croix en orange à l'endroit où tu vis.

2 Voici deux cartes de France : une carte météo et une carte routière.



a **Ecris** le temps qu'il fait à Toulouse :

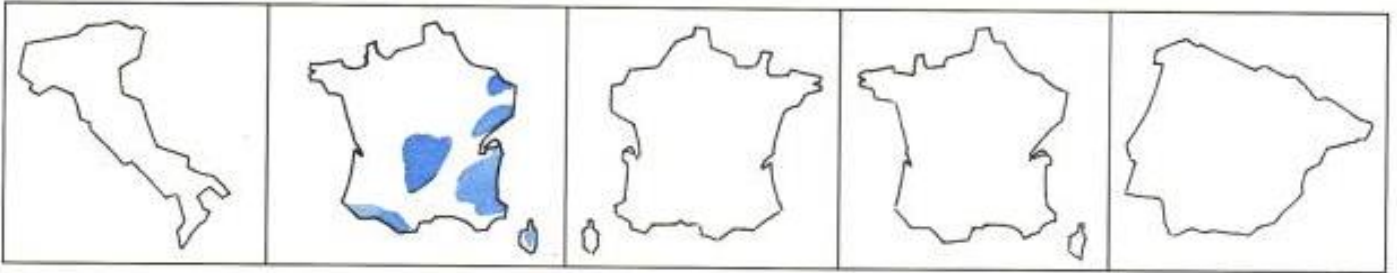
b **Fais** une croix orange à l'endroit où tu vis. Ecris le temps qu'il y fait :



c **Trace** en rouge un itinéraire pour te rendre de Paris à Nice.

d **Fais** une croix orange à l'endroit où tu vis.

1 Voici des pays : colorie les formes qui représentent la France.



2 Voici la carte de l'Europe.
L'Europe est un continent.

a Colorie en rouge la France

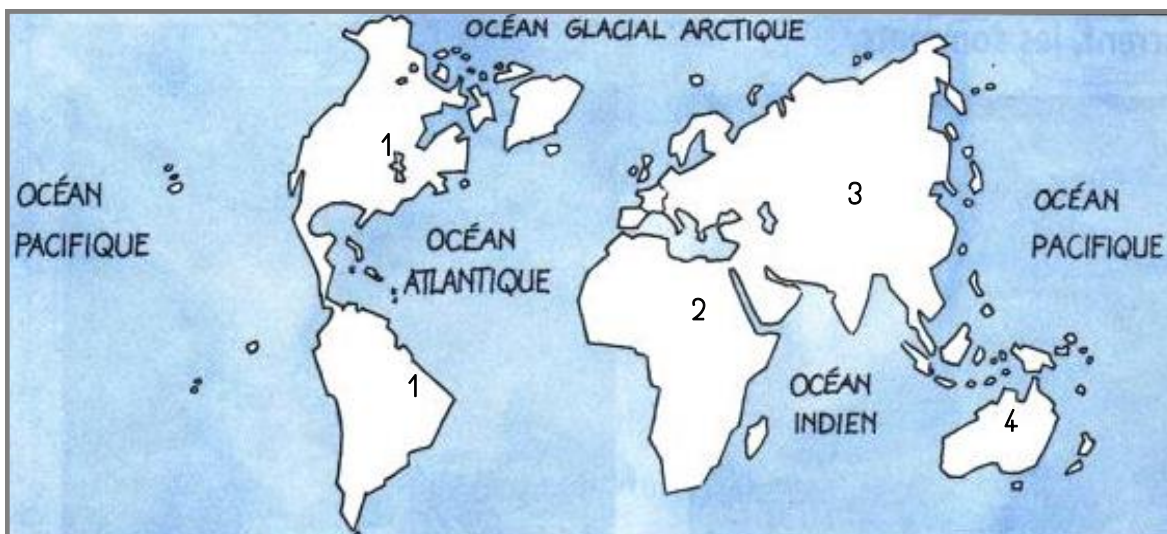
b Mets une croix là où tu habites.

c Ecris le nom du pays :

1.
2.
3.
4.



3 Voici un planisphère : c'est une carte du monde.

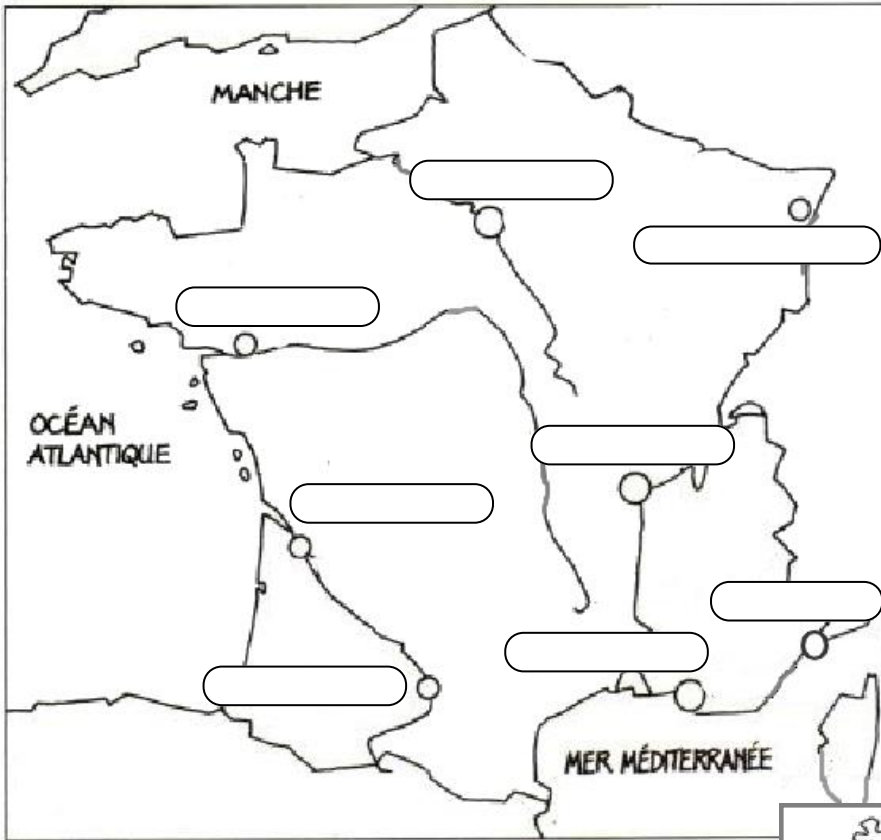


a Colorie en rouge la France et le reste de l'Europe en jaune.

b Ecris le nom des continents suivants :

1 :	2 :
3 :	4 :

1 Voici une carte de France.



En te servant de la carte de la fiche 1, **écris** le nom des villes suivantes au bon endroit sur la carte. Entoure en rouge la capitale.

- Paris
- Marseille
- Lyon
- Nantes
- Strasbourg
- Bordeaux
- Toulouse
- Nice

2 Voici une carte

Que représente-t-elle ? _____

Ecris F pour France en rouge au bon endroit.

Ecris Ang pour Angleterre, All pour Allemagne, E pour Espagne et I pour Italie en bleu aux bons endroits.



3 Complète

✓ La capitale de la France s'appelle _____.

✓ La France est un pays qui est entouré par 3 mers ou océans qui sont :

✓ Une carte de France peut servir à indiquer _____ ou _____.

✓ La France fait partie d'un continent qui s'appelle _____.