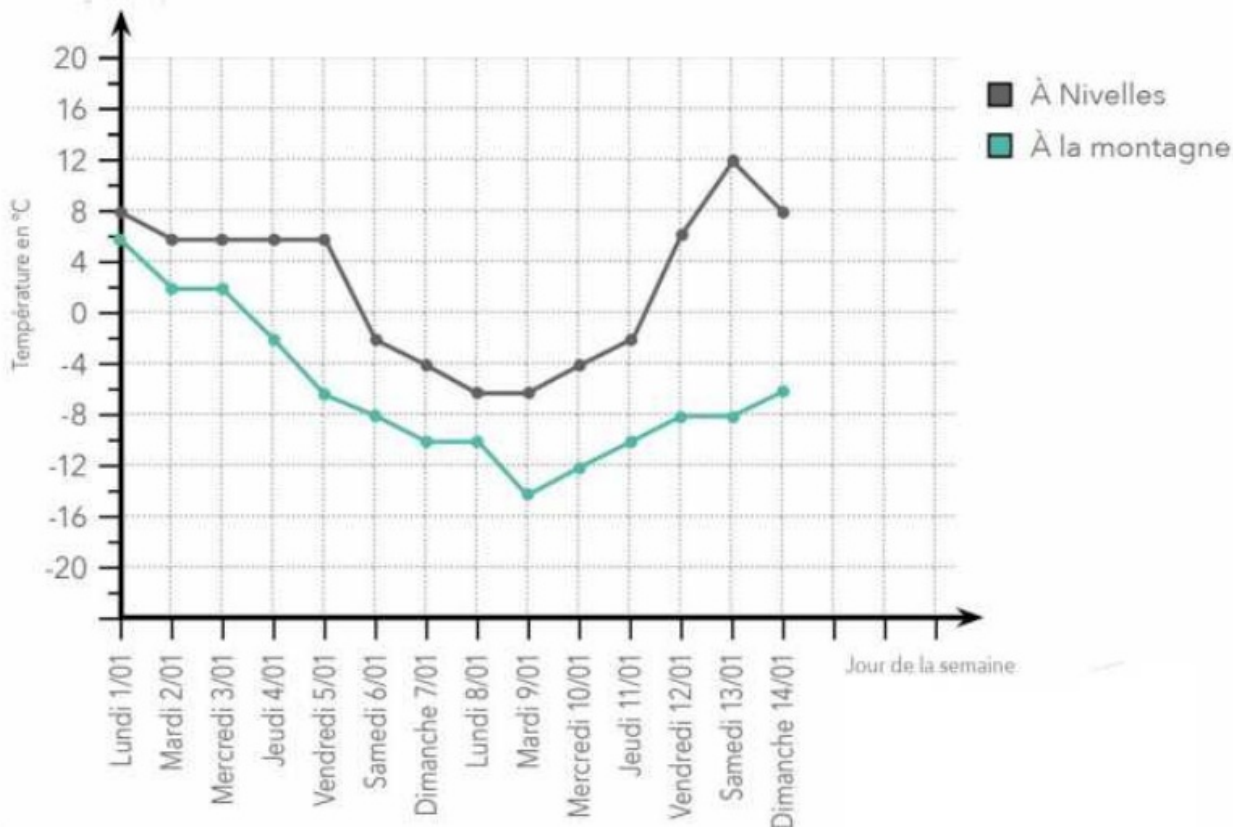


Les nombres positifs et négatifs : exercices

Voici un graphique des températures entre Nivelles et Les Arcs (station de ski française). **Observe-le.**



Réponds aux questions.

Quelle température faisait-il à Nivelles le jeudi 11/01 ? -2°C

Quelle température faisait-il à la montagne le samedi 6/01 ? -8°C

Quelle température faisait-il à Nivelles le mardi 9/01 ? -6°C

À quelle date la différence de température était-elle la plus importante ?

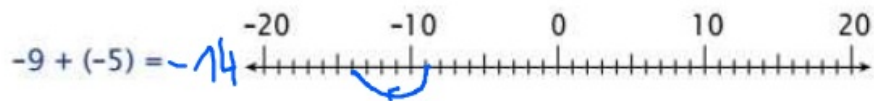


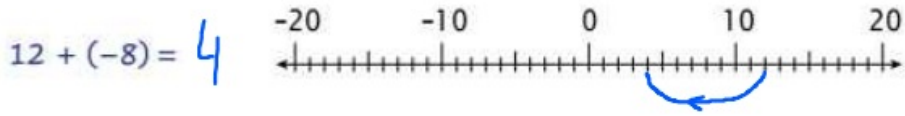
le samedi 13/01

Calcule cette différence. 20°C

À quelle date la différence de température était-elle de 12 °C ? 05/01

Calcule la température prélevée le jeudi 4/01 à l'île de la Réunion, sachant qu'elle était de 30 °C plus élevée que celle des Arcs. -2°C + 30°C = 28°C

Résous avec l'aide des droites des nombres.



Colorie la bonne réponse.

$5 + (-1) =$	4
	6
	-4

$1 + (-7) =$	8
	-8
	6

$-5 + (-4) =$	-1
	9
	-9

$-11 + (-6) =$	-5
	17
	-17

Complète cette pyramide d'additions de nombres relatifs.

