

# Défi calcul mental n°19





**Compétence travaillée** : Connaître la table de 4

...../ 20 points

1/ Ecris seulement le résultat.


2/ Problème : .....

3/ Calcule le plus rapidement possible.

<input type="checkbox"/>		<input type="checkbox"/>		<input type="checkbox"/>	
--------------------------	---	--------------------------	---	--------------------------	---

$4 \times \dots = 24$

$4 \times \dots = 12$

$4 \times \dots = 36$

$4 \times \dots = 28$

$4 \times \dots = 32$

$4 \times \dots = 40$

© Les trouvailles de KarINETTE

# Défi calcul mental n°19






**Compétence travaillée** : Connaître la table de 4

...../ 20 points

1/ Ecris seulement le résultat.


2/ Problème : .....

3/ Calcule le plus rapidement possible.

<input type="checkbox"/>		<input type="checkbox"/>		<input type="checkbox"/>	
--------------------------	---	--------------------------	---	--------------------------	---

$4 \times \dots = 24$

$4 \times \dots = 12$

$4 \times \dots = 36$

$4 \times \dots = 28$

$4 \times \dots = 32$

$4 \times \dots = 40$

© Les trouvailles de KarINETTE