

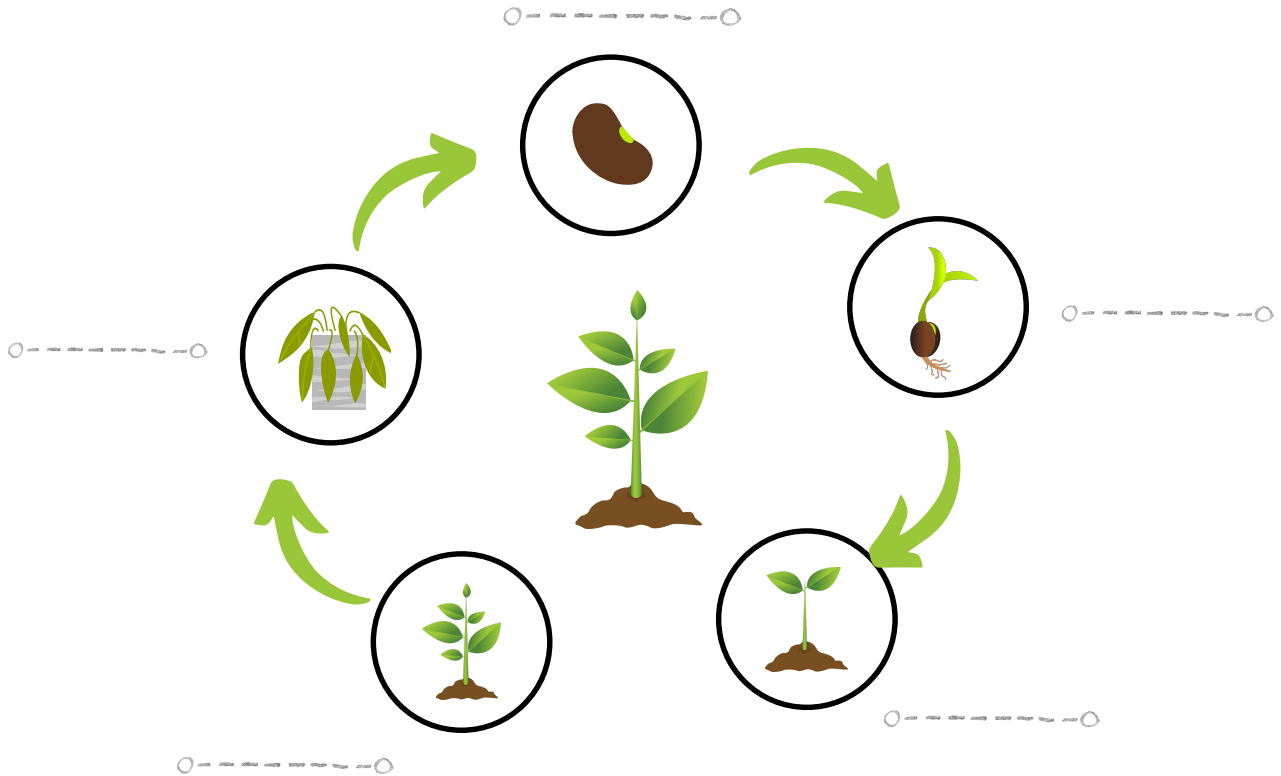
Prénom: ○- - - - - ○

Date: ○- - - - - ○

**EVALUATION DE SCIENCE**  
**CHAPITRE 1**

**LE CYCLE DE VIE D'UNE PLANTE**

1) Complète le schéma avec les mots bons



2) Réponds aux questions en cochant les bonnes cases

- Le cycle de vie des plantes c'est :

- Quand la plante meurt et disparaît
- Quand la plante meurt puis repousse
- Quand la plante grandit

- De quoi a besoin une plante pour pousser et se développer


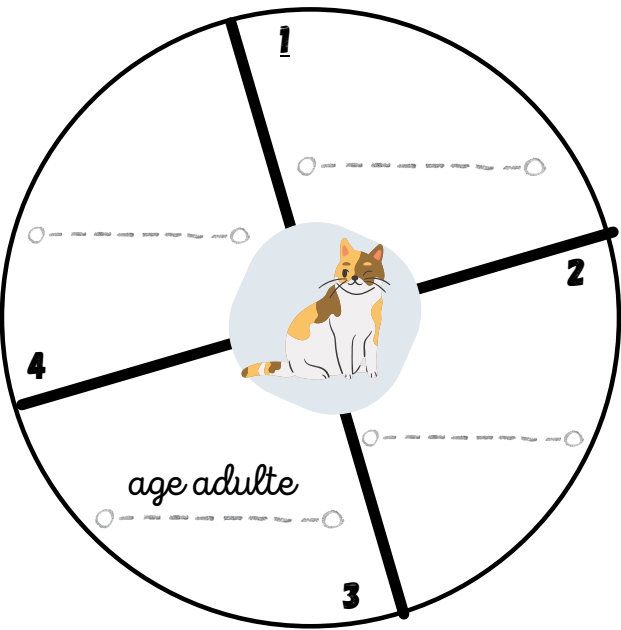
- De l'eau
- Du vent
- De l'air
- De la lumière

Prénom: ○ - - - - - ○

## LA VIE DES ANIMAUX

3) Complète les schémas avec les bons mots (écris sur les pointillés)

œuf - poussin - poule - reproduction - croissance - naissance



4) Réponds aux questions en entourant la bonne réponse

- Les animaux naissent tous de la même façon.      **VRAI**                      **FAUX**
- Il existe 2 types de croissance.                      **VRAI**                      **FAUX**
- Dans la croissance discontinue, comment s'appelle la transformation de l'animal?  
**MÉTAPHORE**                      **MÉTAMORPHOSE**

Prénom: ○ - - - - - ○

## LES RELATIONS ALIMENTAIRES

5) Complète le texte suivant :

Dans une chaîne alimentaire, le premier maillon est toujours un ○ - - - - - ○

Un animal mangé par un autre animal est une ○ - - - - - ○

L'animal qui mange un autre animal est un ○ - - - - - ○

6) Relie l'animal à ce qu'il mange puis au nom de son régime alimentaire (Utilise ta règle)



végétaux  
+  
viande

omnivore



végétaux

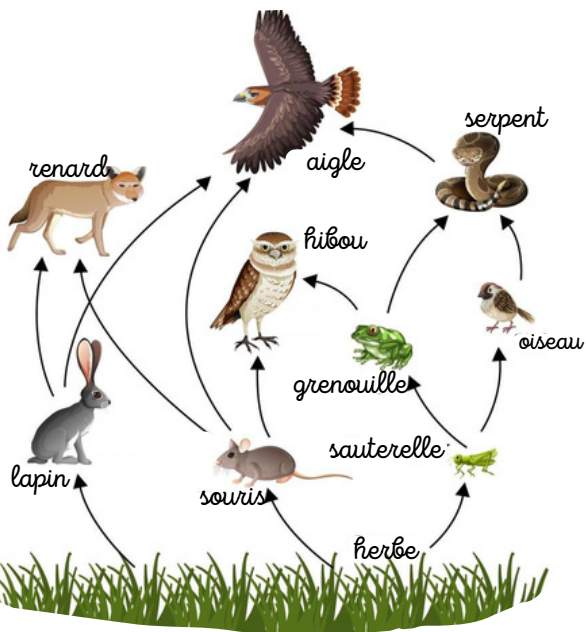
carnivore



viande

végétarien

7) Dessine et écris 2 chaînes alimentaires que tu vois sur le dessin :



○ - - - - - ○      ○ - - - - - ○      ○ - - - - - ○



○ - - - - - ○      ○ - - - - - ○      ○ - - - - - ○