

28 Poser l'addition en colonnes avec retenue (1)

➔ Manipulation
Guide p. 240

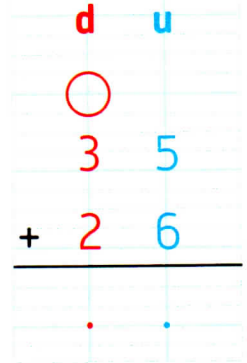
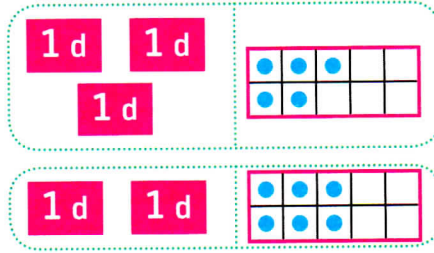

CALCUL MENTAL

Dictier des nombres sous différentes formes. ➔ Les élèves écrivent le nombre correspondant.



1 Lali a 35 images et Nino en a 26.
Combien d'images ont-ils en tout ?

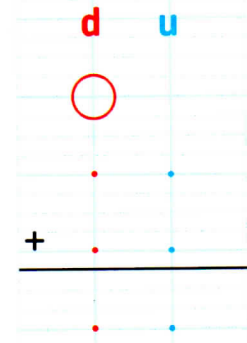
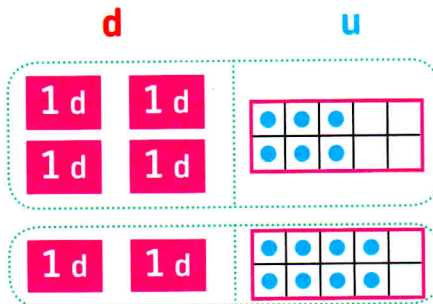
Je schématise ou je décompose :



$35 + 26 = \dots$ Lali et Nino ont images en tout.

2 Dans la mare, il y a 46 grenouilles et 28 crapauds.
Combien d'animaux y a-t-il en tout ?

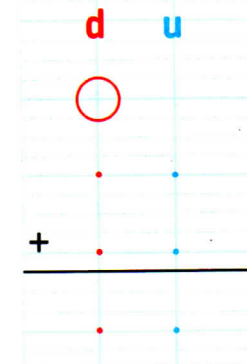
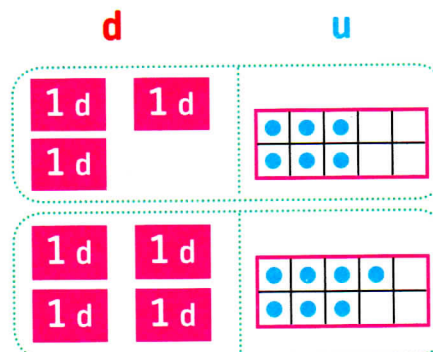
Je schématise ou je décompose :



$46 + 28 = \dots$ Il y a animaux en tout.

3 **Calcule :** $36 + 47$

Je schématise ou je décompose :



$36 + 47 = \dots$