

Je fais le point

Nom _____ Prénom _____ Date ____/____/____

<http://laclasselleve.fr/>

Les parallélogrammes




Exercice n° 1

Colorie selon la légende.

Gare à l'intrus!

| | | | |
|--------------|------------------|----------------|-----------------------------------|
| <u>carré</u> | <u>rectangle</u> | <u>losange</u> | <u>parallélogramme quelconque</u> |
| BLEU | VERT | JAUNE | ROUGE |



Reconnaitre les différents parallélogrammes.




Évaluation



Exercice n° 2

Coche la bonne réponse.

| | |
|--|---|
| 1) Les parallélogrammes sont <u>des quadrilatères particuliers</u> . | <input type="radio"/> Vrai <input type="radio"/> Faux |
| 2) Le carré est <u>le seul parallélogramme à avoir 4 angles droits</u> . | <input type="radio"/> Vrai <input type="radio"/> Faux |
| 3) Les <u>diagonales</u> du rectangle ont <u>même longueur</u> . | <input type="radio"/> Vrai <input type="radio"/> Faux |
| 4) Le losange a <u>4 côtés égaux</u> , comme le carré. | <input type="radio"/> Vrai <input type="radio"/> Faux |
| 5) Les diagonales d'un parallélogramme <u>ne se coupent pas en leur milieu</u> . | <input type="radio"/> Vrai <input type="radio"/> Faux |
| 6) Dans un carré ou un losange, les <u>diagonales</u> sont <u>perpendiculaires</u> . | <input type="radio"/> Vrai <input type="radio"/> Faux |
| 7) Dans un parallélogramme quelconque, les <u>4 côtés</u> sont <u>égaux</u> . | <input type="radio"/> Vrai <input type="radio"/> Faux |



Connaitre les propriétés des parallélogrammes.



Évaluation



Exercice n° 3

Construis les parallélogrammes suivants.



J'ai vérifié les mesures.

J'ai nommé les sommets.

J'ai codé les propriétés.

un
rectangle
EFGH de 4 cm de
large et 8 cm de long

J'ai vérifié les mesures.

J'ai nommé les sommets.

J'ai codé les propriétés.

un
losange
IJKL dont les
diagonales mesurent
6 cm et 10 cm

J'ai vérifié les mesures.

J'ai nommé les sommets.

J'ai codé les propriétés.

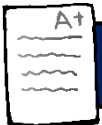
un
parallélogramme
MNOP de 5 cm
de large et 8 cm de long

J'ai vérifié les mesures.

J'ai nommé les sommets.

J'ai codé les propriétés.

Évaluation



Construire des parallélogrammes.



/12