



C...


Vers la multiplication



4



4



4

Combien y a-t-il d'étoiles ?

IL y a 3 groupes de 4 étoiles.

➤ Ce qui fait : $4 + 4 + 4 = 12$ étoiles.

Dans cette addition, le nombre 4 est écrit 3 fois.

On peut aussi dire qu'il y a 3 fois le nombre 4.

➤ Ce qui fait : $4 \times 3 = 12$ ou $3 \times 4 = 12$

La croix signifie fois. ➡ C'est la multiplication.



$$4 + 4 + 4 = 4 \times 3 = 3 \times 4 = 12$$

<http://tissearine.eklablog.com/>

C...

As-tu tout compris ?



Complète.

Il y a 5 groupes de 4.

$$4 + 4 + 4 + 4 + 4 = 20$$

... X ... = ... OU ... X ... = ...

Il y a 7 groupes de 3.

$$3 + 3 + 3 + 3 + 3 + 3 + 3 = 21$$

... X ... = ... OU ... X ... = ...

<http://tissearine.eklablog.com/>