


REVISION DE LA 5P

La multiplication



1

2

3

Pour chaque dessin, écris les additions et les multiplications qui te permettront de trouver la réponse.

Combien y a-t-il de voitures ?




Additions :

Multiplications :

Réponse :

Combien y a-t-il de bonbons ?



Additions :


Multiplications :

Réponse :

Colorie de la même couleur les calculs et leur réponse. Plusieurs calculs vont ensemble. Attention, il y a un intrus. A toi de le trouver.

$3 + 3 + 3 + 3 + 3 +$	$7 + 7 + 7 + 7$	5×10
4×5	16	6×3
6×8	$8 + 8 + 8 + 8 + 8 +$	50
4×7	20	$5 + 5 + 5 + 5$
$2 + 2 + 2 + 2 + 2 + 2 + 2 + 2 + 2$	5×4	64
$10 + 10 + 10 + 10 + 10$	28	18
	8×2	

Colorie le bon nombre de cases en fonction du calcul.



En jaune : 4×2

En bleu : 7×5

En vert : 3×3

En orange, colorie une 4^e forme et écris le calcul qui lui correspond :

Résous ces problèmes.

1. Tous les mois, Lucien reçoit 4 francs d'argent de poche. Après 8 mois, combien a-t-il reçu ?

Réponse :

2. Notre maîtresse a acheté 5 boîtes qui contiennent 12 crayons de papier. Combien a-t-elle acheté de crayons ?

Réponse :

3. Pour mon anniversaire, mon oncle m'a donné 8 pièces de 2 francs et 4 pièces de 5 francs. Combien d'argent ai-je reçu ?

Réponse :

4. Candice prépare des colliers de perles pour ses 6 amies. Sur chaque collier, elle a mis 9 perles. Combien de perles a-t-elle utilisées ?

Réponse :