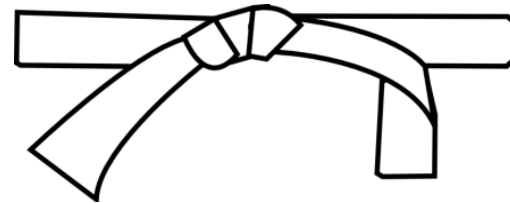




# Ceinture blanche

Repérage spatial



**JEU DE L'ARBRE**

DROITE

**Droite ou gauche ?**

1) Je lève la main si j'ai vu le bon personnage.

sur	sous	dans
sur	sous	dans

Cartes à pincettes sur-sous-dans

**T'es où toi ?**

6

**ENTRE**  
entre  
entre

T'es où toi ?

Je réussis en géométrie au CP

avec Bout de Gomme

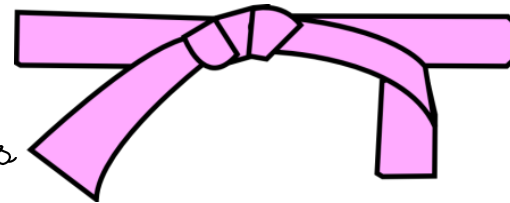
pages 1 à 9

Ceinture validée le

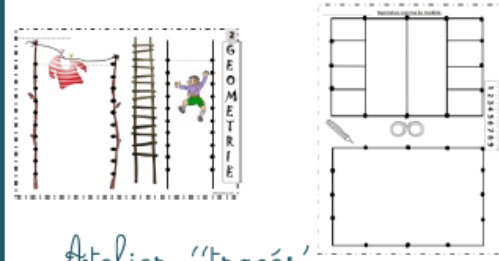


# Ceinture rose


Les tracés à la règle et les frises géométriques




Tracés libres sur feuille



Atelier "tracés"



Atelier relier les points



Atelier frises géométriques

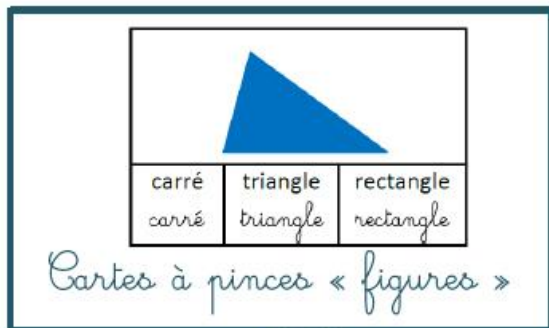

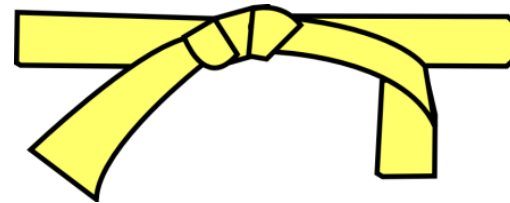
Ceinture validée le





# Ceinture jaune


Les figures planes



Ceinture validée le

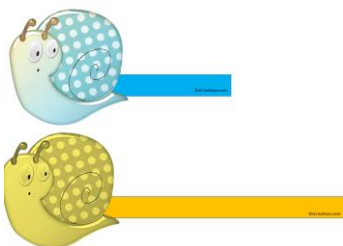
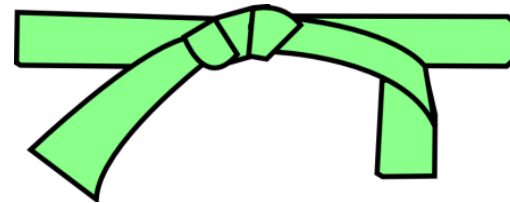






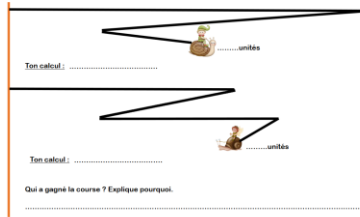
# Ceinture verte

Les longueurs



La course des escargots

Mesure les traces de Caracot et Grisette avec la règle en carton.



La course en escargot



12cm 13cm 15cm 16cm 14cm

Mesurer les chenilles

Trace des segments sur ton ardoise

ROUGE: 5cm

BLEU : 9cm

VERT : 18cm

NOIR : 12cm

Tracer des segments en cm

Je réussis en géométrie au CP


avec Bouli de Gomme



Pages .....

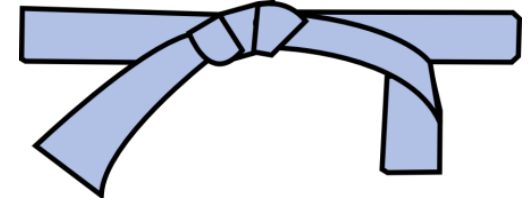
Ceinture validée le





# Ceinture bleue

Le repérage sur quadrillage



Déplacements sur quadrillage



	1	2	3	4	5
A					
B					
C					
D					
E					
F					
G					
H					

Coder les positions des animaux



Où est ma maison ?

	1	2	3	4	5
A					
B					
C					
D					
E					
F					
G					

Trouve le numéro de ma maison en colorant ces cases.

F1	E4	C3	E1
B4	F3	F5	G4
D2	F4	F2	

Où est ma maison ?




Je réussis en géométrie au CP avec Sout de Gomme

Pages .....



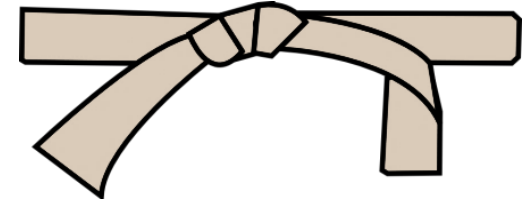
Ceinture validée le





# Ceinture marron

Reproduire des figures



QUADRILLAGE

Choisis la figure pour reproduire la.

Pixel Art

QUADRILLAGE

Choisis la figure pour reproduire la. Copie les les contours en rouge sur points.

Reproduire des figures

Si la symétrie dans tout ça

Niveau 1

Compléter des figures par symétrie

Je réussis en géométrie au CP


avec Sout de Gomme

KICATOR

Pages .....

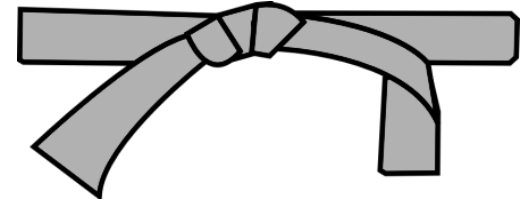
Ceinture validée le





# Ceinture noire

Les masses



1	Combien faut-il de balles ?	
1	3	5

Combien faut-il de balles ?



g	kg	

Gramme ou kilo ?



Je réussis en géométrie au CP  
avec tout de Gomme


Pages .....



Ceinture validée le

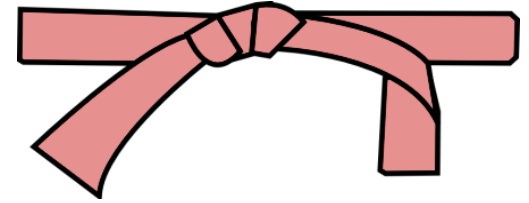






# Ceinture rouge

L'heure



Images et horloges à assembler



①

Il est 21h30.

Cartes à pincer



Pages .....



Ceinture validée le

