

CALCUL MENTAL

Écrire au tableau des additions.

Ex. : $2 + ? = 8$ ou $12 + 7 = ?$

→ Faire écrire le nombre mystère.

1 Entoure et souligne, comme dans l'exemple.

Il reste aux nageurs 7 longueurs de bassin à parcourir.
Le nageur a gagné trois courses.

Victor a mis 60 grammes de farine dans son gâteau.

Loane a mis ses vingt poussins dans un panier.

La collection de timbres de mon frère contient soixante-deux timbres d'Espagne.



2 Relie chaque question à sa réponse.

Combien d'animaux y a-t-il à l'école de magie ?

Combien de temps dure la classe le matin ?

Combien de formules magiques chaque élève doit-il apprendre ?

Les élèves vont à l'école pendant 3 heures le matin.

À l'école de magie, il y a un chat et quinze colombes.

Chaque élève doit apprendre 30 formules magiques.

3 Écris une question qui peut être posée.

Mélissa et Pedro comptent le nombre de pièces de 2 € qu'ils ont chacun.
Mélissa en a 13 et Pedro en a 15.



4 Range ces sommes d'argent de la plus petite à la plus grande.

56 €


61 €

28 €


47 €

39 €

50 €




<



<



<



<



<

