

Prénom :

Date :

Evaluation sur les climats européens

/ 0.5

	Exercice(s)	A	AR	ECA	NA
1. Connaitre les différents climats présents en Europe					
2. Savoir lire et compléter un diagramme ombrothermique					

Connaissances

1. Dans quelle zone climatique se trouve l'Europe ?

.....

2. Donne les noms des 3 climats principaux en Europe et associe-les à leur description :

..... ●	●	Ce climat se caractérise par des étés chauds et orageux et des hivers froids.
..... ●	●	Ce climat se caractérise par un grand nombre de jours de pluie, des hivers doux et des étés frais.
..... ●	●	des étés chauds et secs, des hivers doux et de fortes précipitations en automne.

Documents

3. Comment s'appellent les documents ci-dessous ?

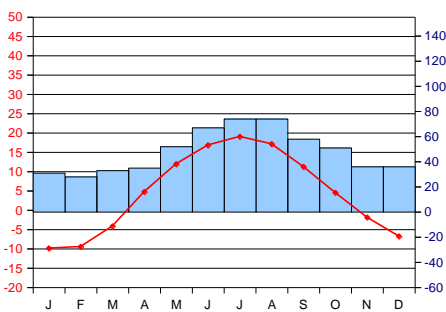
.....

4. Quelles informations sur le climat trouve-t-on dans ce document ? (donne en 2)

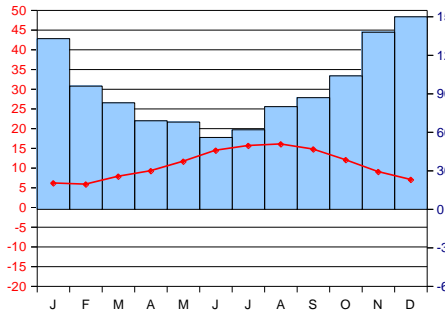
.....

5. Analyse ces 3 documents et indique le climat qui correspond à chaque graphique.

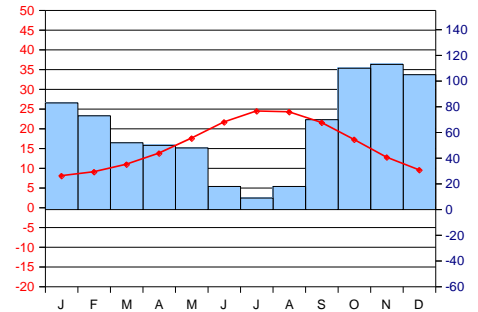
■ P (en mm)
◆ T (en °C)



.....



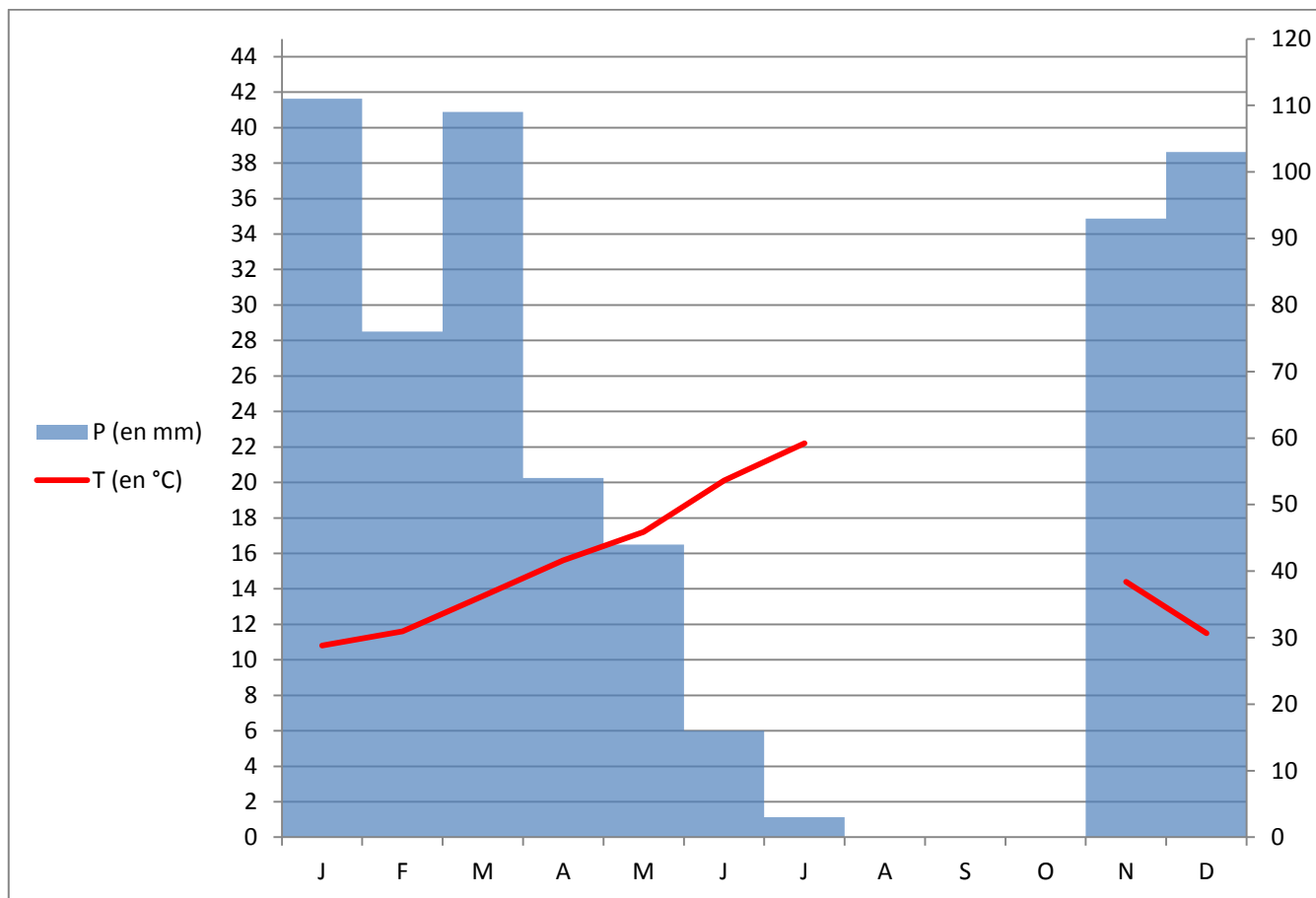
.....



.....

6. Complète avec les données manquantes

	J	F	M	A	M	J	J	A	S	O	N	D
T (en °C)	10,8		13,6	15,6	17,2	20,1	22,2	22,5	21,2	18,2		11,5
P (en mm)	111		109	54	44	16	3	4	33	62		103



7. Lecture de document :

Combien de millimètres sont tombés en novembre ?

Quelle température a-t-il fait en février ?

Question bonus :

Ce document concerne la ville de Lisbonne au Portugal. Dans quel climat cette ville se situe ?

.....