

CP

Comment faire l'ADDITION à RETENUE ?

CE1

$$36 + 18 = ?$$



1) Je repasse les **dizaines en rouge** et les **unités en bleu**.

$$\longrightarrow 36 + 18 =$$

Puis, j'écris les nombres l'un au-dessus de l'autre en mettant le plus grand en haut.

2) Je représente chaque nombre soit en les dessinant soit en utilisant mes barres et mes unités.

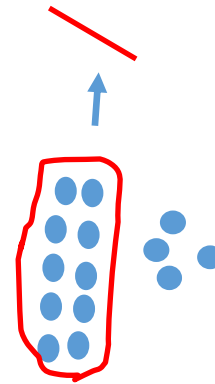
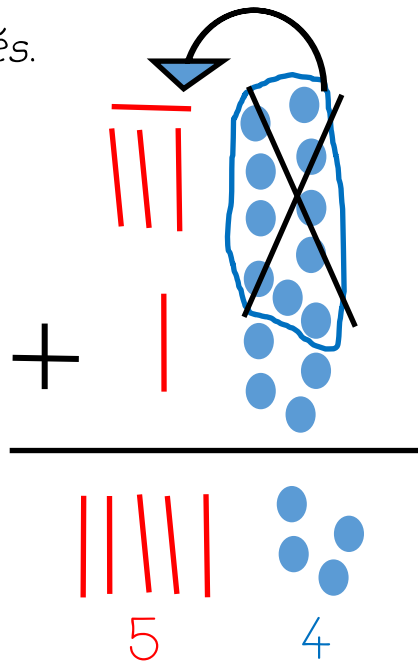
3) Je mets ensemble les unités.

Si j'ai 10 unités,

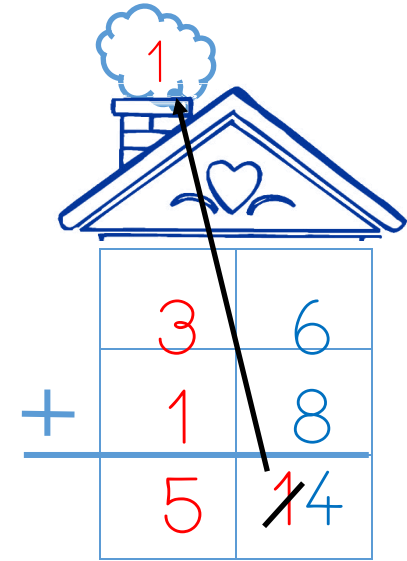
je transforme en 1 dizaine.

J'écris le nombre

d'unités qui restent, puis je compte les dizaines.



Je transforme.



Avec les nombres, j'additionne les unités toujours en premier.

$$6 + 8 = 14$$

Je garde les unités et je mets la dizaine avec les autres.

Puis, j'additionne toutes les dizaines.

$$1 + 3 + 1 = 5$$