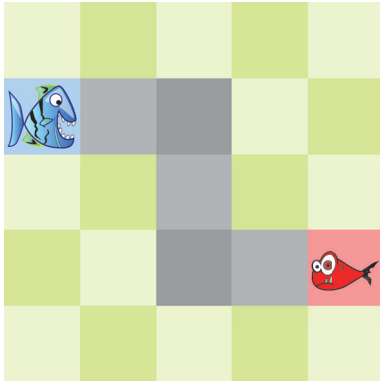



74 Déplacements et repérage (1)

1 Utilise les instructions nord (N), sud (S), est (E) et ouest (O) pour indiquer le déplacement du poisson bleu vers le poisson rouge en suivant le chemin gris.



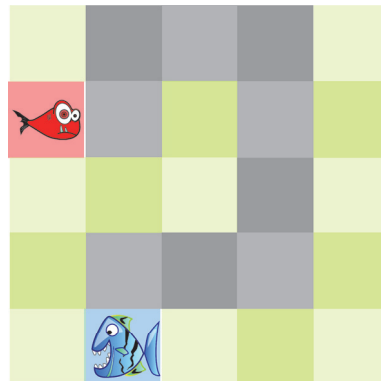
E E S S E E



O O N N O N

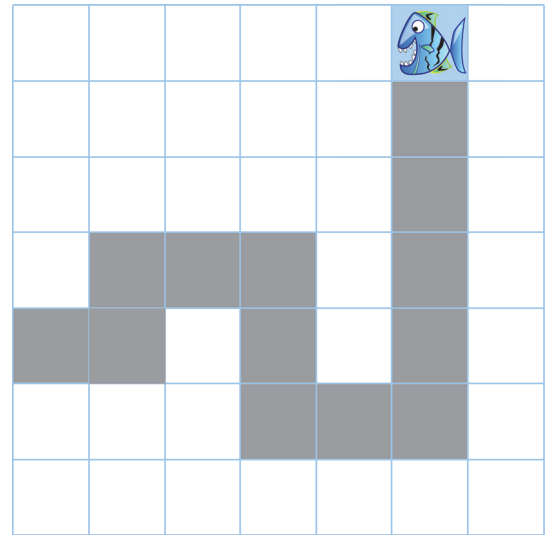


S E E S S O S

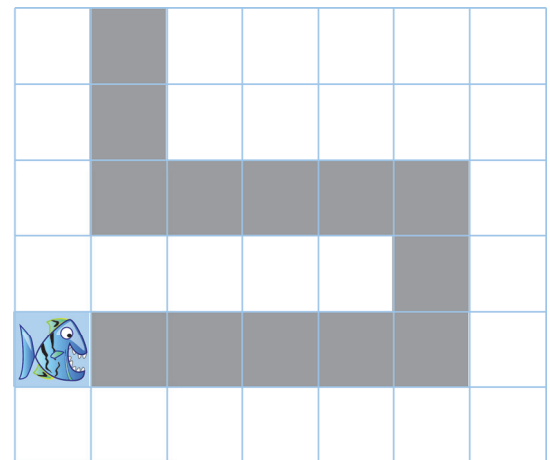


N E E N N
N O O S O

2 Colorie en gris le déplacement du poisson bleu en suivant les instructions sous chaque grille.



S S S S S O O N N O O S O

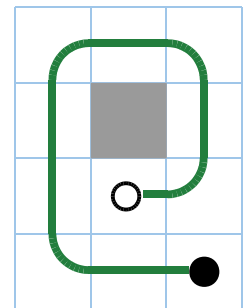
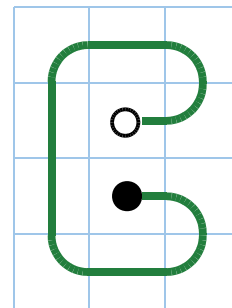
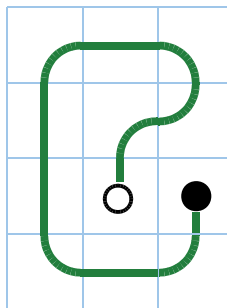


E E E E E N N O O O O N N

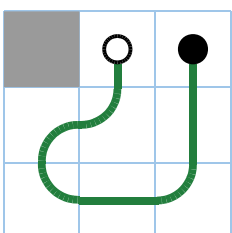
3 Dessine un chemin, au départ du point noir, qui passe une seule fois par toutes les cases blanches.



Attention, plusieurs solutions sont possibles.



Exemples :



ou

