

Le carré : exercices

1) Complète avec les mots suivants

polygone – latte – 4 – parallèles – égaux – losange – parallélogramme – rectangle – angles droits – quadrilatère.

Le carré est une figure entièrement tracée à la

⇒ C'est donc un

Le carré possède côtés

⇒ C'est donc un

Le carré possède deux paires de côtés

⇒ C'est donc un

Le carré possède 4 côtés

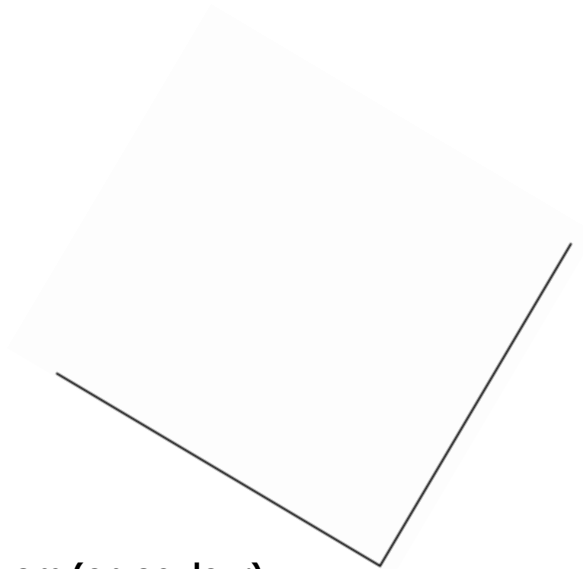
⇒ C'est donc un

Le carré possède 4

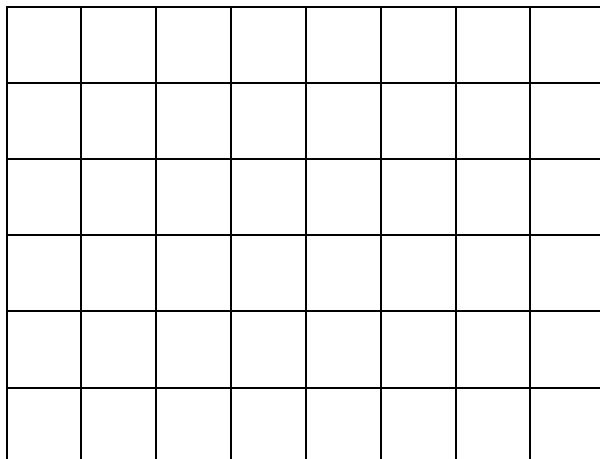
⇒ C'est donc un

2) Termine de tracer ces carrés

(A la latte !!! Attention à bien tracer les angles droits)



3) Dessine un carré dont le périmètre vaut 16 cm (en couleur).



4) Réfléchis...

Un carré a 20 cm de périmètre

⇒ 1 côté mesure donc

Un carré qui a 28 cm de périmètre

⇒ 1 côté mesure donc

Le rectangle : exercices

1) Complète avec les mots suivants

polygone – latte – 4 – parallèles – parallélogramme – quadrilatère.

Le rectangle est une figure entièrement tracée à la

⇒ C'est donc un

Le rectangle possède côtés


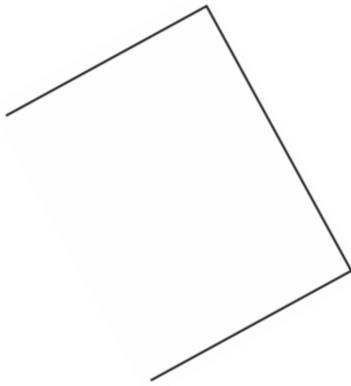
⇒ C'est donc un

Le rectangle possède deux paires de côtés

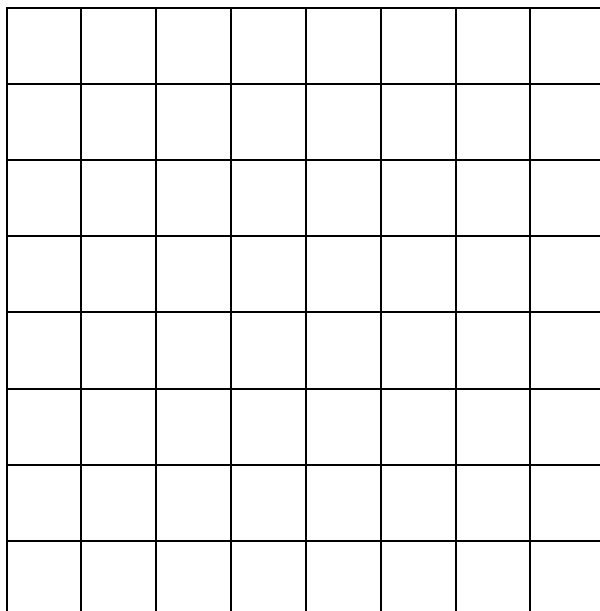
⇒ C'est donc un

2) Termine de tracer ces rectangles.

(A la latte !!! Attention à bien tracer les angles droits)



3) Dessine un rectangle dont le périmètre vaut 18 cm (en couleur).



4) Trace

Un rectangle avec :

$$L = 7 \text{ cm}$$

$$l = 3 \text{ cm}$$