

Défi : 50 calculs en 3 minutes (série 715)

(CE1 et CE2)

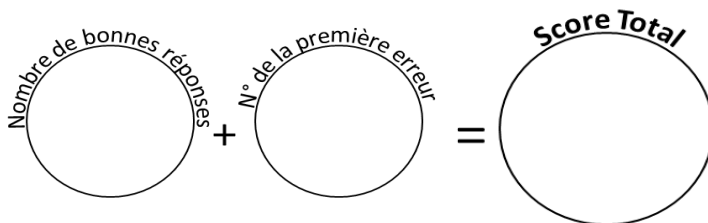


série 715

- | | |
|-----------------------------------|--------------------------------------|
| 1) Le double de 6 : ____ | 26) 7 unités et 8 dizaines : ____ |
| 2) 20 + 80 = ____ | 27) 80 - 10 = ____ |
| 3) La moitié de 6 : ____ | 28) 68 pour aller à 70 = ____ |
| 4) 1 pour aller à 10 = ____ | 29) 64 - 9 = ____ |
| 5) 10 + 22 = ____ | 30) Le double de 8 : ____ |
| 6) 5 dizaines et 3 unités : ____ | 31) 60 + 11 = ____ |
| 7) 3 + 3 = ____ | 32) 10 dizaines : ____ |
| 8) 54 - 9 = ____ | 33) La moitié de 26 : ____ |
| 9) 55 + 11 = ____ | 34) 120 - 10 = ____ |
| 10) 8 unités et 4 dizaines : ____ | 35) 10 + 94 = ____ |
| 11) 7 pour aller à 10 = ____ | 36) 14 + 42 = ____ |
| 12) 40 + 40 = ____ | 37) Le quart de 16 : ____ |
| 13) La moitié de 10 : ____ | 38) 12 dizaines et 1 unité : ____ |
| 14) 47 + 9 = ____ | 39) 239 + 9 = ____ |
| 15) Le double de 10 : ____ | 40) 13 + 13 = ____ |
| 16) 90 - 10 = ____ | 41) 7 centaines et 3 unités : ____ |
| 17) 5 dizaines : ____ | 42) 11 pour aller à 30 = ____ |
| 18) 62 + 11 = ____ | 43) Le quart de 12 : ____ |
| 19) 1 + 1 = ____ | 44) La moitié de 22 : ____ |
| 20) 54 + 23 = ____ | 45) 12 dizaines : ____ |
| 21) 20 + 69 = ____ | 46) 10 + 92 = ____ |
| 22) 70 unités : ____ | 47) 180 - 20 = ____ |
| 23) La moitié de 8 : ____ | 48) Le triple de 9 : ____ |
| 24) 28 pour aller à 30 = ____ | 49) 2 dizaines et 2 centaines : ____ |
| 25) 60 + 50 = ____ | 50) 196 - 9 = ____ |

Réponses

col 1	col 2
12	87
100	70
3	2
9	55
32	16
53	71
6	100
45	13
66	110
48	104
3	56
80	4
5	121
56	248
20	26
80	703
50	19
73	3
2	11
77	120
89	102
70	160
4	27
2	220
110	187



Reporte ton score sur ton graphique !

Défi : 50 calculs en 3 minutes (série 196)

(CE1 et CE2)

série 196



Réponses

		Réponses	
		col 1	col 2
1) Le double de 8 : _____	26) 8 unités et 9 dizaines : _____	16	98
2) 20 + 60 = _____	27) 70 - 10 = _____	80	60
3) La moitié de 8 : _____	28) 65 pour aller à 70 = _____	4	5
4) 5 pour aller à 10 = _____	29) 54 - 9 = _____	5	45
5) 10 + 86 = _____	30) Le double de 10 : _____	96	20
6) 5 dizaines et 3 unités : _____	31) 40 + 11 = _____	53	51
7) 4 + 4 = _____	32) 12 dizaines : _____	8	120
8) 54 - 9 = _____	33) La moitié de 40 : _____	45	20
9) 45 + 11 = _____	34) 180 - 10 = _____	56	170
10) 2 unités et 4 dizaines : _____	35) 10 + 97 = _____	42	107
11) 4 pour aller à 10 = _____	36) 54 + 42 = _____	6	96
12) 40 + 50 = _____	37) Le quart de 20 : _____	90	5
13) La moitié de 12 : _____	38) 11 dizaines et 1 unité : _____	6	111
14) 17 + 9 = _____	39) 153 + 9 = _____	26	162
15) Le double de 12 : _____	40) 20 + 20 = _____	24	40
16) 70 - 10 = _____	41) 3 centaines et 3 unités : _____	60	303
17) 5 dizaines : _____	42) 17 pour aller à 30 = _____	50	13
18) 42 + 11 = _____	43) Le quart de 16 : _____	53	4
19) 9 + 9 = _____	44) La moitié de 34 : _____	18	17
20) 44 + 23 = _____	45) 16 dizaines : _____	67	160
21) 20 + 76 = _____	46) 10 + 97 = _____	96	107
22) 19 unités : _____	47) 90 - 20 = _____	19	70
23) La moitié de 8 : _____	48) Le triple de 6 : _____	4	18
24) 21 pour aller à 30 = _____	49) 4 dizaines et 2 centaines : _____	9	240
25) 60 + 80 = _____	50) 116 - 9 = _____	140	107

Nombre de bonnes réponses + N° de la première erreur = **Score Total**

Reporte ton score sur ton graphique !

Défi : 50 calculs en 3 minutes (série 827)

(CE1 et CE2)

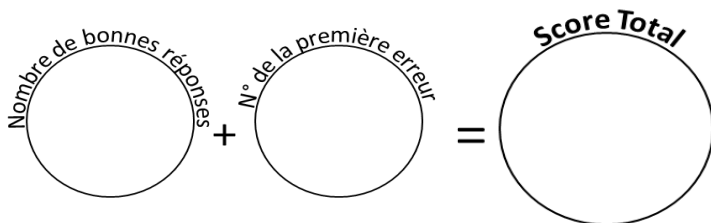


série 827

- | | |
|-----------------------------------|--------------------------------------|
| 1) Le double de 2 : ____ | 26) 4 unités et 5 dizaines : ____ |
| 2) 20 + 60 = ____ | 27) 60 - 10 = ____ |
| 3) La moitié de 2 : ____ | 28) 64 pour aller à 70 = ____ |
| 4) 4 pour aller à 10 = ____ | 29) 64 - 9 = ____ |
| 5) 10 + 59 = ____ | 30) Le double de 4 : ____ |
| 6) 5 dizaines et 3 unités : ____ | 31) 51 + 11 = ____ |
| 7) 1 + 1 = ____ | 32) 13 dizaines : ____ |
| 8) 44 - 9 = ____ | 33) La moitié de 36 : ____ |
| 9) 55 + 11 = ____ | 34) 180 - 10 = ____ |
| 10) 2 unités et 4 dizaines : ____ | 35) 10 + 94 = ____ |
| 11) 8 pour aller à 10 = ____ | 36) 24 + 42 = ____ |
| 12) 40 + 80 = ____ | 37) Le quart de 8 : ____ |
| 13) La moitié de 6 : ____ | 38) 12 dizaines et 1 unité : ____ |
| 14) 17 + 9 = ____ | 39) 186 + 9 = ____ |
| 15) Le double de 6 : ____ | 40) 13 + 13 = ____ |
| 16) 50 - 10 = ____ | 41) 9 centaines et 3 unités : ____ |
| 17) 4 dizaines : ____ | 42) 19 pour aller à 30 = ____ |
| 18) 62 + 11 = ____ | 43) Le quart de 8 : ____ |
| 19) 1 + 1 = ____ | 44) La moitié de 40 : ____ |
| 20) 34 + 23 = ____ | 45) 18 dizaines : ____ |
| 21) 20 + 70 = ____ | 46) 10 + 96 = ____ |
| 22) 74 unités : ____ | 47) 100 - 20 = ____ |
| 23) La moitié de 4 : ____ | 48) Le triple de 8 : ____ |
| 24) 24 pour aller à 30 = ____ | 49) 2 dizaines et 2 centaines : ____ |
| 25) 60 + 70 = ____ | 50) 146 - 9 = ____ |

Réponses

col 1	col 2
4	54
80	50
1	6
6	55
69	8
53	62
2	130
35	18
66	170
42	104
2	66
120	2
3	121
26	195
12	26
40	903
40	11
73	2
2	20
57	180
90	106
74	80
2	24
6	220
130	137



Reporte ton score sur ton graphique !

Défi : 50 calculs en 3 minutes (série 801)

(CE1 et CE2)

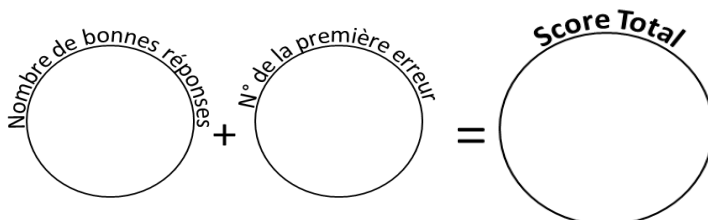


série 801

- | | |
|-----------------------------------|--------------------------------------|
| 1) Le double de 10 : ____ | 26) 6 unités et 7 dizaines : ____ |
| 2) $20 + 80 =$ ____ | 27) $50 - 10 =$ ____ |
| 3) La moitié de 10 : ____ | 28) 64 pour aller à 70 = ____ |
| 4) 6 pour aller à 10 = ____ | 29) $64 - 9 =$ ____ |
| 5) $10 + 75 =$ ____ | 30) Le double de 12 : ____ |
| 6) 2 dizaines et 3 unités : ____ | 31) $51 + 11 =$ ____ |
| 7) $2 + 2 =$ ____ | 32) 10 dizaines : ____ |
| 8) $34 - 9 =$ ____ | 33) La moitié de 38 : ____ |
| 9) $35 + 11 =$ ____ | 34) $190 - 10 =$ ____ |
| 10) 3 unités et 4 dizaines : ____ | 35) $10 + 91 =$ ____ |
| 11) 5 pour aller à 10 = ____ | 36) $14 + 42 =$ ____ |
| 12) $40 + 30 =$ ____ | 37) Le quart de 8 : ____ |
| 13) La moitié de 14 : ____ | 38) 15 dizaines et 1 unité : ____ |
| 14) $47 + 9 =$ ____ | 39) $110 + 9 =$ ____ |
| 15) Le double de 14 : ____ | 40) $11 + 11 =$ ____ |
| 16) $30 - 10 =$ ____ | 41) 7 centaines et 3 unités : ____ |
| 17) 3 dizaines : ____ | 42) 16 pour aller à 30 = ____ |
| 18) $42 + 11 =$ ____ | 43) Le quart de 16 : ____ |
| 19) $10 + 10 =$ ____ | 44) La moitié de 28 : ____ |
| 20) $54 + 23 =$ ____ | 45) 19 dizaines : ____ |
| 21) $20 + 69 =$ ____ | 46) $10 + 96 =$ ____ |
| 22) 15 unités : ____ | 47) $110 - 20 =$ ____ |
| 23) La moitié de 16 : ____ | 48) Le triple de 10 : ____ |
| 24) 23 pour aller à 30 = ____ | 49) 5 dizaines et 2 centaines : ____ |
| 25) $60 + 80 =$ ____ | 50) $136 - 9 =$ ____ |

Réponses

col 1	col 2
20	76
100	40
5	6
4	55
85	24
23	62
4	100
25	19
46	180
43	101
5	56
70	2
7	151
56	119
28	22
20	703
30	14
53	4
20	14
77	190
89	106
15	90
8	30
7	250
140	127



Reporte ton score sur ton graphique !