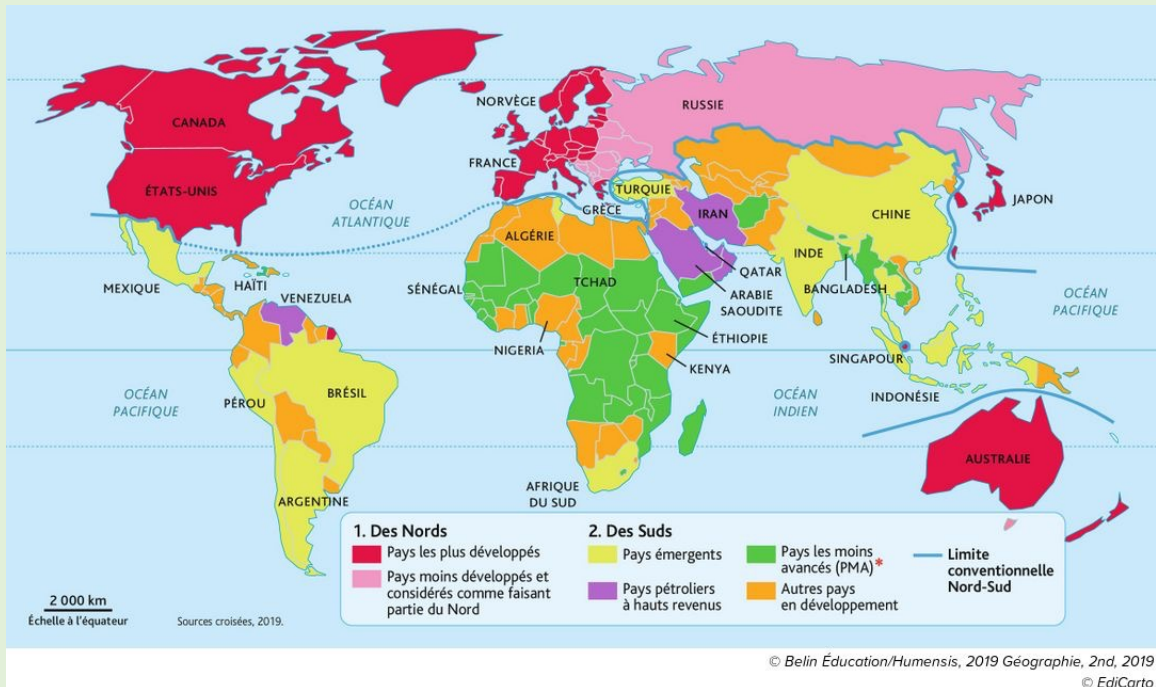



Les inégalités de richesse dans le monde et en France



Etude de documents

Source documents : Hatier

P'tit blog de Segpa



Comment se répartit la richesse dans le monde ?

Compétences:

Etudier des données statistiques

Etudier une carte et rédiger une réponse



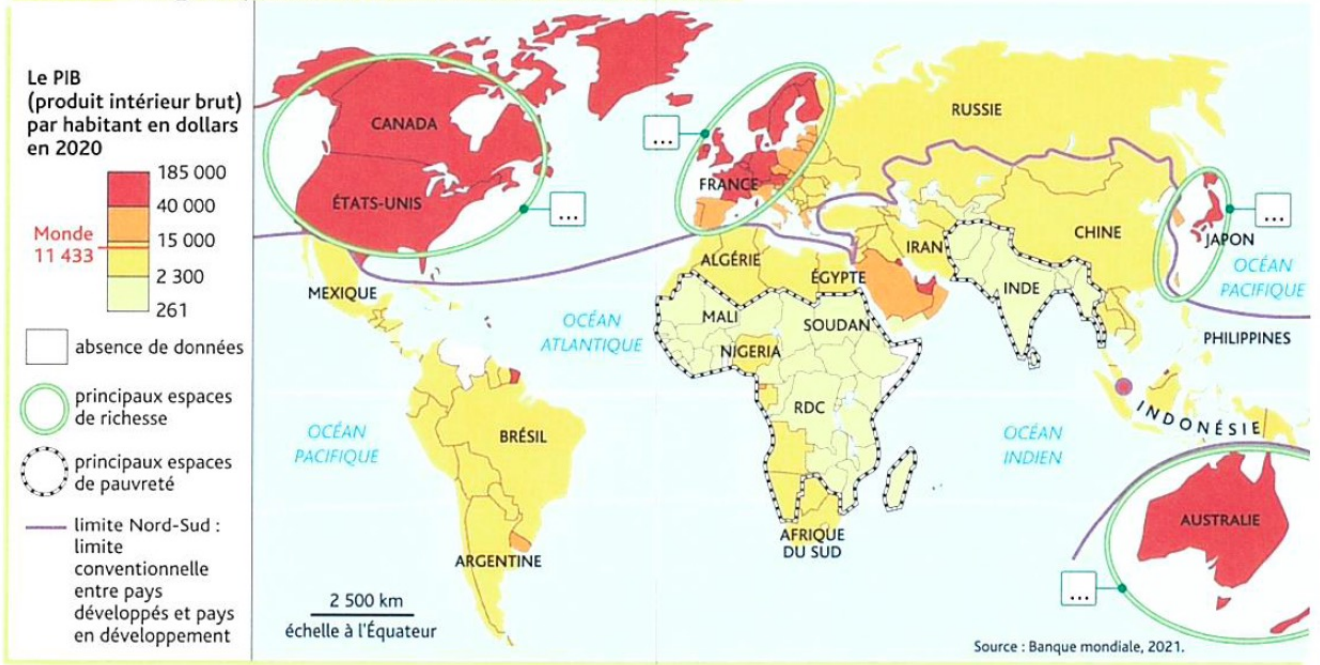
1). Entoure :

- en bleu, le nombre de milliardaires dont la richesse s'élève à 13 100 milliards.
- en rouge, le nombre de pauvres dont la richesse s'élève au même montant.

2). A quel pourcentage de la population mondiale cela correspond-il ?

.....

Doc. 2 L'inégale répartition de la richesse dans le monde en 2020



3). Dans la légende de la carte, entoure l'indicateur utilisé pour mesurer le niveau de vie moyen par habitant dans un pays.

4). Sur la carte, écris le numéro des principaux espaces de richesse:

1 Amérique du Nord **2** Asie orientale **3** Europe **4** Océanie

5). Hachure les espaces les plus pauvres.

6). Quel est le continent le plus pauvre ?

.....

7). Quelle catégorie de pays regroupe:

Le Nord ?

.....

Le Sud ?

.....

Comment se manifestent les inégalités de richesse en France ?

Compétences:

Etudier une carte, un texte et une photographie pour en extraire des informations



1). Nature du document:

.....

2). Thème:

.....

3). Dans la légende, encadre le PIB moyen par habitant.

4). Hachure la région la plus riche.

5). Entoure les trois régions les plus pauvres.

6). Quel est l'écart de PIB par habitant entre la région la plus riche et la région la plus pauvre ?

.....

Doc. 2 De fortes inégalités de richesse dans la métropole parisienne

« Paris et sa métropole constituent globalement une zone riche [...]. Mais ces revenus élevés se révèlent très inégalement répartis [...]. La région parisienne connaît de longue date cette coexistence parfois très rapprochée entre ultra-riches et ultra-pauvres. Malgré tous les efforts, les milliards d'euros injectés, les écarts ne cessent de se creuser entre les quartiers riches et les quartiers pauvres [...]. Dans de nombreux quartiers [...], les revenus ont [...] progressé plus vite que la moyenne au sein de la métropole. C'est [...] le cas des "beaux quartiers" parisiens du centre et de l'ouest [...]. À Paris, le prix du mètre carré a bondi de 35 % en cinq ans, et dépasse les 10 600 euros. Les salaires n'ont pas connu pareille progression. Si bien que les classes moyennes et populaires se retrouvent peu à peu chassées [...]. De façon symétrique, de nombreux quartiers déjà modestes ont encore décroché. Les revenus y ont progressé moins rapidement qu'en Île-de-France, voire diminué [...]. Cela concerne une grande partie de la Seine-Saint-Denis [...]. [Ces quartiers modestes] comptent beaucoup de logements sociaux, d'immigrés, de familles monoparentales, de chômeurs. »

Denis Cosnard, « Mixité sociale, revenus... les inégalités de plus en plus criantes en région parisienne », *Le Monde*, 19 septembre 2020.

7). Souligne le passage montrant que les écarts de richesse sont importants dans la métropole parisienne.

8). Entoure les conséquences de l'augmentation des prix de l'immobilier pour les classes moyennes et populaires.



9). Ecris le numéro des éléments suivants:

1 Habitat résidentiel **2** Bidonville **3** Immeubles de bureaux