

L'heure Complément à 60

⇒ *Entraînement n° 1*

Opération 1


48

⇒ 60



Opération 2

34




60



Opération 3

13




60



Opération 4

40



60



Opération 5

9h moins
le quart



Opération 6

8h et
demi



Opération 7

4h moins
vingt



Opération 8

5h et
quart



Problème 1

Pour arriver à l'heure
au collège, je dois
partir de chez moi à 8
heures moins dix.

*À quelle heure précise
cela correspond-il ?*



Problème 2

Une série commence
à 19h25 et se
termine à 20h00.

*Combien de temps
la série dure-t-elle ?*



Correction

Correction

12	26	47	20
8h45	8h30	3h40	5h15
7h50			
35 minutes			