



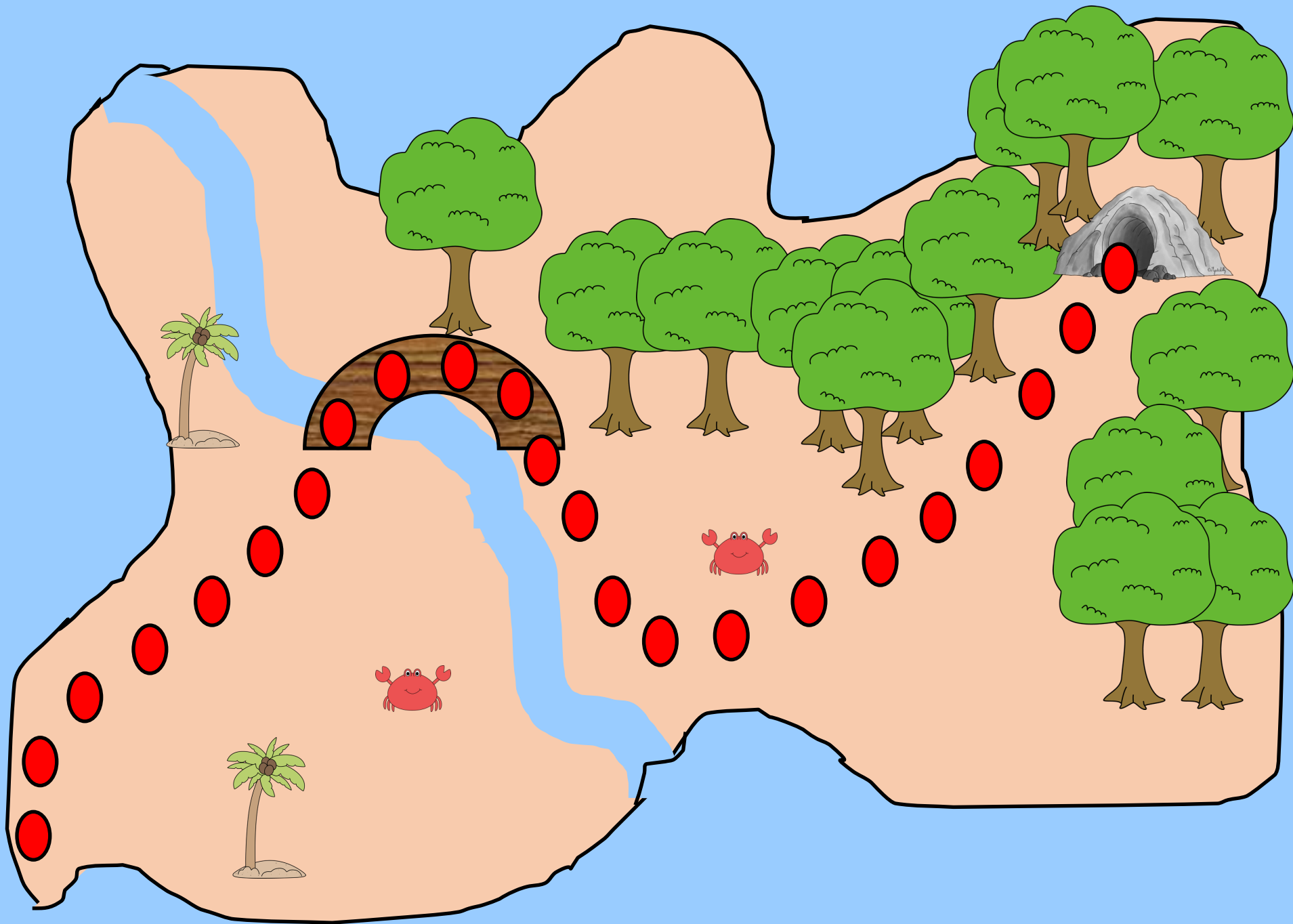


Partons à l'aventure!



La carte au trésor





*Vaici ta premiere enigme... Tu dois la resoudre pour debloquer l'entree de la grotte...*

Un pirate a dérobé à un navire 1 coffre au trésor, contenant 3 sacs de 7 pièces d'or, et 3 sacs de 7 pièces en argent...

Combien possède-t-il en tout de pièces?

Tu peux utiliser ton ardoise ou manipuler...

Un pirate a dérobé à un navire 1 coffre au trésor, contenant 2 sacs de 20 pièces d'or, et 3 sacs de 10 pièces en argent...

Combien possède-t-il en tout de pièces?

Tu peux utiliser ton ardoise ou manipuler...

Un pirate a dérobé à un navire 1 coffre au trésor, contenant 4 sacs de 5 pièces d'or, et 3 sacs de 8 pièces en argent...

Combien possède-t-il en tout de pièces?

Tu peux utiliser ton ardoise ou manipuler...

Un pirate a dérobé à un navire 1 coffre au trésor, contenant 4 sacs de 5 pièces d'or, et 3 sacs de 7 pièces en argent...

Combien possède-t-il en tout de pièces?

Tu peux utiliser ton ardoise ou manipuler...











