

Défi calcul mental n°7



Compétence travaillée : Ajouter 10

...../ 30 points

1/ Ecris seulement le résultat.

2/ Problème : _____

3/ Calcule le plus rapidement possible.

<input type="checkbox"/>		<input type="checkbox"/>		<input type="checkbox"/>	
--------------------------	---	--------------------------	---	--------------------------	---

$25 + 10 = \dots\dots\dots$ $10 + 62 = \dots\dots\dots$ $87 + 10 = \dots\dots\dots$ $7 + 10 = \dots\dots\dots$ $48 + 10 = \dots\dots\dots$

$10 + 16 = \dots\dots\dots$ $53 + 10 = \dots\dots\dots$ $10 + 8 = \dots\dots\dots$ $16 + 10 = \dots\dots\dots$ $70 + 10 = \dots\dots\dots$

Défi calcul mental n°7






Compétence travaillée : Ajouter 10

...../ 30 points

1/ Ecris seulement le résultat.

2/ Problème : _____

3/ Calcule le plus rapidement possible.

<input type="checkbox"/>		<input type="checkbox"/>		<input type="checkbox"/>	
--------------------------	---	--------------------------	---	--------------------------	---

$25 + 10 = \dots\dots\dots$ $10 + 62 = \dots\dots\dots$ $87 + 10 = \dots\dots\dots$ $7 + 10 = \dots\dots\dots$ $48 + 10 = \dots\dots\dots$

$10 + 16 = \dots\dots\dots$ $53 + 10 = \dots\dots\dots$ $10 + 8 = \dots\dots\dots$ $16 + 10 = \dots\dots\dots$ $70 + 10 = \dots\dots\dots$