

EX
N 05

Les nombres de 80 à 99 (1)

1- Complète le tableau.

84	quatre-vingt-quatre	8 d 4 u	$80 + 4$
		8 d o u	
86			
			$80 + 1$
	quatre-vingt-trois		
82			

2- Colorie en vert les étiquettes du nombre 87 et en jaune les étiquettes du nombre 89.

$40 + 40 + 9$

87

$40 + 30 + 10 + 7$

$10 + 10 + 10 + 10 + 10 + 10 + 10 + 8$

$20 + 20 + 20 + 20 + 9$

9 d 8 u

8 dizaines 7 unités

$10 + 10 + 10 + 10 + 10 + 10 + 10 + 10 + 7$

$70 + 19$

$50 + 30 + 7$

89

quatre-vingt-neuf

$20 + 20 + 20 + 10 + 10 + 7$


3- Complète les cases vides en écrivant dans l'ordre les nombres.

67 - 88 - 56 - 69 - 76 - 59 - 82 - 78 - 48 - 50 - 84.

40	45			53			62			70			80			86
----	----	--	--	----	--	--	----	--	--	----	--	--	----	--	--	----

4- Colorie :

- en jaune, les fleurs contenant des nombres plus grands que 78,
- en rouge, les fleurs contenant des nombres plus petits que 69.



5- Complète avec le signe qui convient < ou > ou =

$$20 + 20 + 20 + 20 + 6 \text{ ____ } 70 + 10 + 6$$

$$10 + 10 + 10 + 10 + 10 + 10 + 10 + 10 + 3 \text{ ____ } 60 + 14$$

$$60 + 15 \text{ ____ } 10 + 10 + 10 + 10 + 10 + 10 + 9$$

$$10 + 50 + 4 \text{ ____ } 20 + 20 + 20 + 3$$

$$60 + 12 \text{ ____ } 72$$

$$40 + 36 \text{ ____ } 66$$

$$70 + 18 \text{ ____ } 87$$

6- Complète le tableau.

quatre-vingt-onze	91	$90 + 1$
		$90 + 8$
	94	
quatre-vingt-dix-sept		
	90	
quatre-vingt trois		

EX
N 05

Les nombres de 80 à 99 (3)

7- Complète les égalités.

$80 + 6 = \underline{\quad}$

$80 + 14 = \underline{\quad}$

$90 + 3 = \underline{\quad}$

$80 + 19 = \underline{\quad}$

$\underline{\quad} + 6 = 96$

$\underline{\quad} + 1 = 81$

$50 + \underline{\quad} = 97$

$45 + \underline{\quad} = 95$

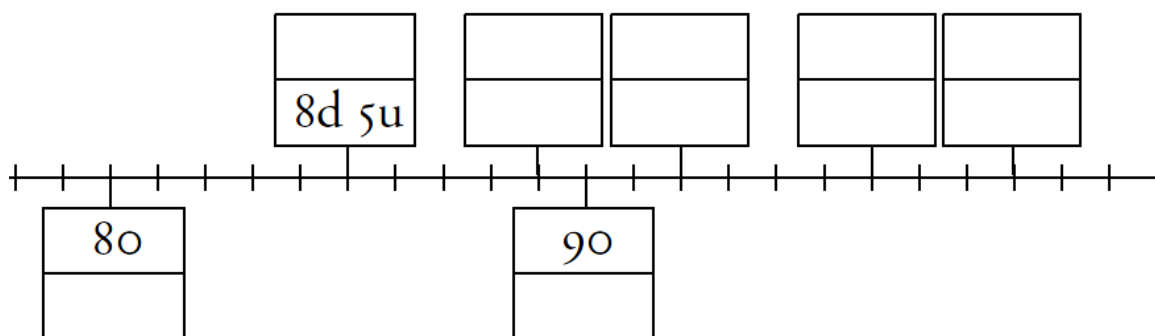
$80 + 10 + \underline{\quad} = 92$

$80 + \underline{\quad} = 95$

$98 = 40 + 40 + 10 + \underline{\quad}$

$96 = 40 + 40 + \underline{\quad}$

8- La droite numérique de 80 à 99



9- Classe les nombres :

A- du plus petit au plus grand ;

93 - 87 - 89 - 36 - 98 - 69 - 45 - 96

B- du plus grand au plus petit.

79 - 94 - 67 - 85 - 92 - 74 - 82 - 97

10- Calcule et complète avec le signe qui convient : <, > ou =.

$50 + 42 \underline{\quad} 80 + 12$

$20 + 20 + 20 + 20 + 15 \underline{\quad} 50 + 20 + 20 + 9$

$80 + 19 \underline{\quad} 60 + 20 + 10$

$70 + 14 \underline{\quad} 50 + 20 + 3$

$80 + 11 \underline{\quad} 20 + 20 + 20 + 20 + 10 + 6$

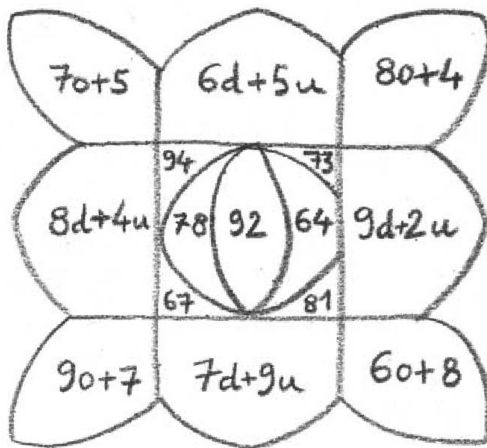
$80 + 10 + 3 \underline{\quad} 50 + 20 + 10 + 10 + 1$

EX
N 05

Les nombres de 80 à 99 (4)

11- Colorie :

- en bleu, les pétales des nombres compris entre 60 et 69 ;
- en rouge, les pétales des nombres compris entre 70 et 79 ;
- en vert, les pétales des nombres compris entre 80 et 89 ;
- en jaune, les pétales des nombres compris entre 90 et 99.



12- Complète

