

✚ Colorie le bus de droite en bleu et le bus de gauche en vert.

✚ Au total, combien de personnes peuvent partir dans ces deux cars ?

Réponse :	Recherches :
--	---------------------

✚ Il y a plus de place dans le car vert que dans le car bleu. Combien de plus ?

Réponse :	Recherches :
--	---------------------

✚ Dans le car bleu il y a 32 personnes. Le car s'arrête. Sept personnes descendent et 6 personnes montent. Combien de personnes y-a-t-il dans le bus quand il redémarre ?

Réponse :	Recherches :
--	---------------------



marguerites



tulipes



roses

Emilie a acheté 3 bouquets de marguerites. Combien a-t-elle de fleurs ?


Réponse :	Recherches :
--	---------------------

Antoine achète 4 bouquets de tulipes et 3 bouquets de roses. Combien a-t-il de fleurs ?

Réponse :	Recherches :
--	---------------------

Lisa veut 21 marguerites. Combien de bouquet de fleurs doit lui donner le fleuriste ?

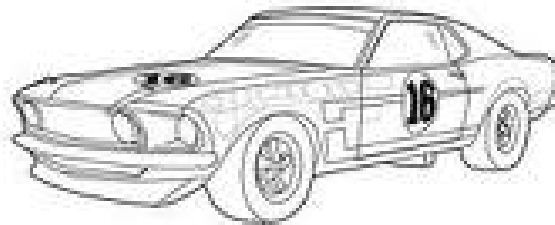

Réponse :	Recherches :
--	---------------------



Je sais qu'il y a 38 voitures au départ de la course.

Combien de voitures ne sont pas sur la photo ??

Réponse :	Recherches :
--	---------------------



La voiture n°24 a déjà fait 12 tours de circuit. Il ne lui reste donc que 18 tours à faire.

🚦 Combien de tours de circuit la voiture n°24 aura-t-elle faits à la fin de la course ?

Réponse :	Recherches :
--	---------------------

A la fin du 10^{ème} tour, 13 voitures ont abandonné. Combien reste-il de voitures en course ?

Réponse :	Recherches :
--	---------------------

Un tour de circuit fait 7 kilomètres. La voiture n°16 a déjà fait 4 tours. Combien de kilomètres a-t-elle parcourus ?

Réponse :	Recherches :
--	---------------------

Pour assister à la course, il faut payer 7 euros si on est un adulte et 3 euros si on est un enfant. Félix voit un groupe de 4 adultes et de 2 enfants qui arrivent ensemble. Combien vont-ils payer pour voir la course ?

Réponse :	Recherches :
--	---------------------