

Lundi 25 mai 2020

Dictée bilan

Demande à ton parent de te faire la dictée bilan.
As-tu bien revu tes mots et ta leçon d'orthographe ?

Dictée 23

La Joconde

Écrire -é ou -er

Attendus de fin de cycle 3 : Maitriser la forme des mots en lien avec la syntaxe.
Objectif : Distinguer l'infinitif du participe passé.

• Dictée bilan

Depuis son plus jeune âge, le talentueux <i>Léonard de Vinci</i> a toujours aimé dessiner et sculpter. Il est éduqué et influencé par les maîtres de la peinture de son époque.	30 mots
En 1515, il est invité en France par <i>François 1^{er}</i> . Il vient s'y installer. Il a apporté plusieurs œuvres avec lui, il y a parmi elles, <i>La Joconde</i> . Le portrait de <i>Monna Lisa</i> est peut-être le tableau le plus célèbre, grâce à son sourire mystérieux.	76 mots
Des touristes du monde entier viennent l'admirer au musée du Louvre, à Paris. C'est aussi le plus protégé car il a déjà été volé.	100 mots

• Aide pour la correction

On retire un point pour :

- les correspondances non respectées (dont s/ss, g/gu, g/ge, c/ç, é/è/e) ;
- les erreurs sur les mots terminés par -ail, -eil, -euil, -ouil ;
- les erreurs de ponctuation et de majuscule ;
- chaque mot en gras mal orthographié (mots à apprendre et à savoir accorder) ;
- les mots écrits au tableau (en italique) mal copiés ;
- les règles d'écriture des nombres non respectées ;
- les erreurs d'homophones : a/à, est/et, sont/son, ont/on, ce/se ;
- les accords non marqués (verbes, noms, adjectifs) ;
- les erreurs de lettres finales muettes ;
- les confusions entre participe passé et infinitif.

Grammaire

ACCORDER LE SUJET AVEC L'ADJECTIF ATTRIBUT

5 Relie chaque début de phrase à l'attribut du sujet correspondant.

Ce bébé paraît	●	●	énervés.
Ta petite sœur semble	●	●	rassurées.
Mes amis ont l'air	●	●	fatigué.
Les collégiennes sont	●	●	fâchée.

ACCORDER LE SUJET AVEC L'ADJECTIF ATTRIBUT

6 Réécris chaque phrase en mettant le sujet au masculin. Aide-toi de l'exemple.

Ex. : *Sa mère semble fatiguée.* → *Son père semble fatigué.*

Ma sœur est sportive.

→ Mon frère est sportif.

La directrice reste vigilante.

→ Le directeur reste vigilant.

Cette tigresse semble affamée.

→ Ce tigre semble énervé.

Elle paraît heureuse.

→ Il paraît heureux.



ÉCRIRE DES ATTRIBUTS DU SUJET

7 Complète les phrases à l'aide d'un attribut du sujet.

Correction à l'appréciation de l'enseignant.

Plus tard, je deviendrai

Mon frère est

Ta maison semble

Cette nouvelle élève paraît

DÉFI ÉCRITURE

MÉLI-MÉLO

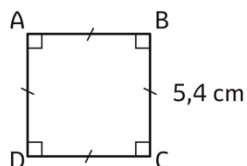
8 Construis des phrases à l'aide des groupes de mots suivants. Attention aux accords !

GROUPES SUJET + VERBE	ADJECTIF ATTRIBUT
Mia et Anna sont	agréable
Ces dessins animés semblent	excité
L'immeuble moderne paraît	souriant
Ma petite cousine a l'air	intéressant
Tous les enfants deviennent	timide

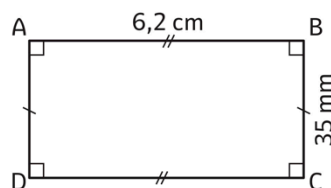
Mesure

UTILISER DES FORMULES POUR CALCULER DES PÉRIMÈTRES

5 Calcule le périmètre de ces figures.




$$\mathcal{P} = 5,4 \times 4 = 21,6 \text{ cm}$$




$$\mathcal{P} = 2 \times (6,2 + 3,5) = 2 \times 9,7 = 19,4 \text{ cm}$$

Pense à convertir !



TRACER DES POLYGONES EN FONCTION DE LEUR PÉRIMÈTRE

6 Construis un rectangle et un carré possédant chacun un périmètre de 20 cm.



LES MATHS DANS LA VIE

7 Quel est le périmètre de la figure grise ?

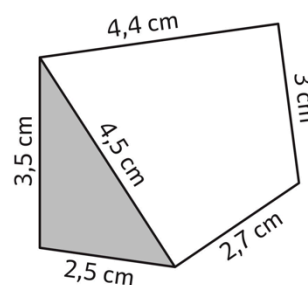
$$\mathcal{P}(\text{fig. grise}) = 3,5 + 4,5 + 2,5 = 10,5 \text{ cm}$$

Quel est le périmètre de la figure blanche ?

$$\mathcal{P}(\text{fig. blanche}) = 4,4 + 3 + 2,7 + 4,5 = 14,6 \text{ cm}$$

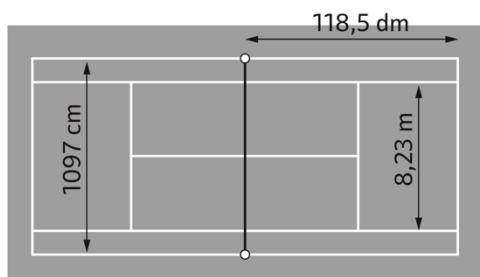
Quel est le périmètre du polygone formé par les deux figures ?

$$\mathcal{P}(\text{polygone}) = 4,4 + 3 + 2,7 + 2,5 + 3,5 = 16,1 \text{ cm}$$



DÉFI

8 Un joueur de tennis veut s'échauffer avant son match en effectuant trois tours du court de tennis. Quelle distance (en mètres) aura-t-il parcouru ?



$$\ell = 1097 \text{ cm} \quad 118,5 \text{ dm} = 1185 \text{ cm}$$

$$L = 2 \times 1185 = 2370 \text{ cm}$$

$$\mathcal{P}(\text{court}) = 2 \times (1097 + 2370) = 2 \times 3467 = 6934 \text{ cm}$$

$$d = 6934 \times 3 = 20802 \text{ cm} = 208,02 \text{ m}$$

Il a parcouru 208,02 m.

Mesure

Tu peux t'aider de la calculatrice

73 Un hippopotame pèse 1,5 tonnes. L'éléphant pèse 4 fois plus que l'hippopotame. Mais c'est 25 fois moins que la baleine bleue.

- a Combien pèse l'éléphant ?
- b Combien pèse la baleine bleue ?



Tes réponses

Opération(s) posée(s)

a $1,5 \times 4 = 6$

L'éléphant pèse 6 tonnes.

b $25 \times 6 = 150$

La baleine bleue pèse 150 tonnes.

$$\begin{array}{r} \textcircled{2} \\ 1,5 \\ \times 4 \\ \hline 6,0 \end{array}$$

$$\begin{array}{r} \textcircled{3} \\ 25 \\ \times 6 \\ \hline 150 \end{array}$$

Lecture

52. Où Hermès fait son entrée au royaume des morts

Où se trouvent les Enfers ?

Dans les profondeurs de la terre.

Que se passe-t-il si l'on boit l'eau de la rivière de Léthé ?

On perd la mémoire de sa vie.

Relie les lieux d'accueil des ombres.

Actions ni bonnes ni mauvaises



Les plaines d'Asphodèle

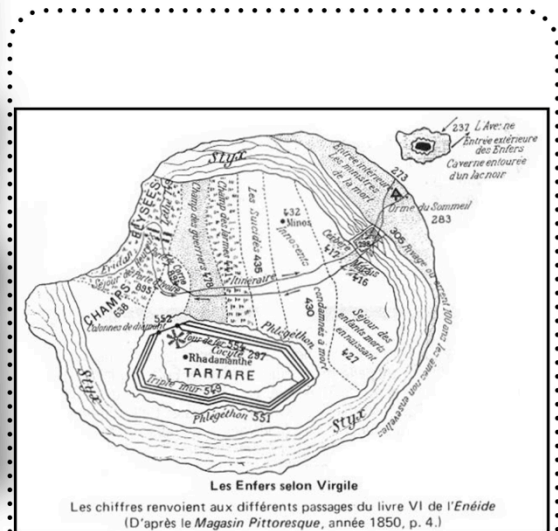
Exploits



Les champs Élysées

D'après-toi, quelle est la dernière région ?

La région pour ceux qui ont mal agit



Les enfers

Vocabulaire

MOT ÉTIQUETTE

Dans chaque liste, encrer le mot étiquette. Exemple : fauteuil - siège - tabouret - chaise



1
Planète
étoile
espace
lune

2
Poisson
écaille
nageoire
nager

3
Racine
arbre
feuille
liane

4
Bec
plume
oiseau
aile

5
Heure
horloge
minute
seconde

6
Feuille
pousse
plante
tige

7
Cheminée
porte
maison
salon

8
Vase
trousse
objet
pot

9
Ring
gant
combat
protection

10
Cochon
vache
poule
ferme

11
Spore
chapeau
champignon
pied

12
Cercle
hexagone
forme
triangle

13
Un
nombre
vingt
trois

14
Bateau
aviron
cordage
équipage

15
Villa
maison
bâtiment
appartement

16
Passé
présent
futur
temps

17
Arbre
chêne
figuier
pêcher

18
Donner
prendre
verbe
faire

19
Dauphin
poisson
mer
eau

20
Bonbon
caramel
carambar
régisse

21
Selle
équitation
bombe
cravache

22
Anglais
matière
orthographe
mathématique

23
barre
gymnase
poutre
Sol

24
Dessin
feuille
crayon
gomme

Coloriage magique

Fais ce coloriage à ton rythme cette semaine.

FICHE 20

