

19

Dizaines et unités : valeur des chiffres en fonction de leur position

✓ Je sais que, dans un nombre à deux chiffres, le chiffre des dizaines est à gauche et le chiffre des unités est à droite.

37

3 dizaines et 7 unités seules

40

4 dizaines et 0 unité seule

Dessine le bon nombre de points.

28

2 dizaines et 8 unités

52

5 dizaines et 2 unités

Complète à 7.

$7 = 4 + 3$

$7 = 6 + \dots$

$7 = 2 + \dots$

$3 + \dots = 7$

$5 + \dots = 7$

$1 + \dots = 7$

Barre les écritures fausses.

2

→

23

~~30~~

~~2~~

→

26

64

46

→

5

32

23

Barre les billes en trop.

3

17

→

54

→



36

→


15 Organiser sa recherche (1)

✓ J'ai appris à résoudre un problème en organisant ma recherche.

1 Sami a cherché le plus possible de tours différentes qu'il peut construire avec un cube rouge, un cube jaune et un cube bleu. Aide-le à terminer sa recherche.



2 Le marchand de glaces propose 3 parfums: vanille, fraise, chocolat. Colorie le bac «vanille» en jaune, le bac «fraise» en rose et le bac «chocolat» en marron.



Lola voudrait un cornet avec 2 boules. Colorie le plus possible de glaces différentes qu'elle pourrait acheter.

