

Compétences évaluées :

- Comprendre les notions de parallèle, méridien et équateur
- Connaître le nom des lignes imaginaires qui permettent de se repérer
- Identifier les différentes façon de se représenter le monde
- Reconnaître et comparer les représentations globales du globe terrestre
- Situer sur un planisphère les continents et les océans.

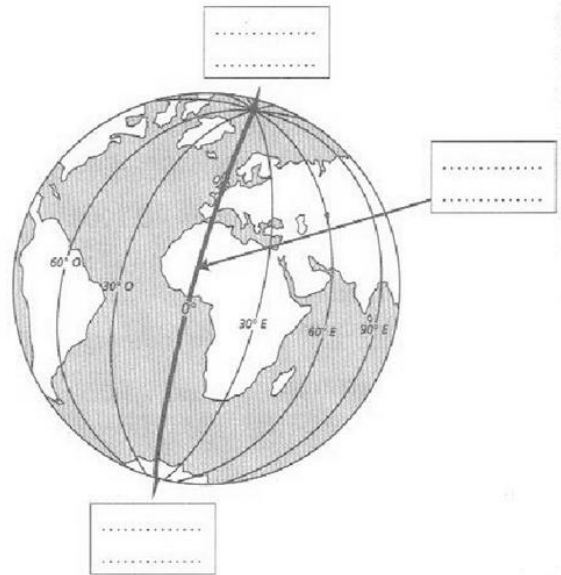
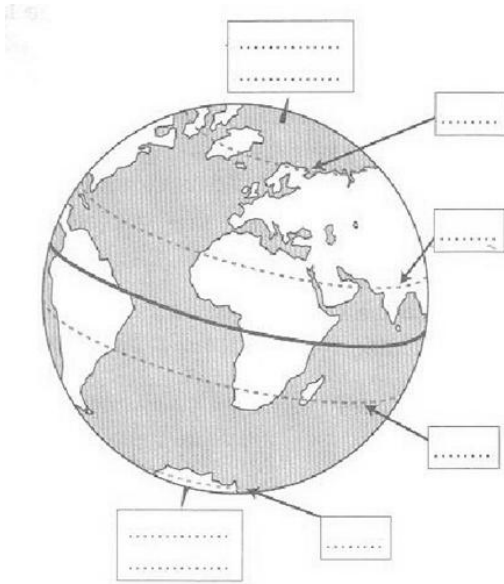


Prénom : _____
Date : _____

NOTE :

Les représentations de la Terre

1- Complète les schémas suivants avec les noms de lignes imaginaires créés par les hommes



2- Coche les bonnes réponses

- | | Vrai | Faux |
|---|--------------------------|--------------------------|
| 1. Un parallèle peut passer par deux hémisphères. | <input type="checkbox"/> | <input type="checkbox"/> |
| 2. Les tropiques peuvent exprimer une latitude. | <input type="checkbox"/> | <input type="checkbox"/> |
| 3. L'équateur est le plus court des parallèles. | <input type="checkbox"/> | <input type="checkbox"/> |
| 4. Les méridiens se rejoignent à chaque pôle | <input type="checkbox"/> | <input type="checkbox"/> |

3- La Terre peut être représentée de deux façons différentes. Quelles sont-elles ?

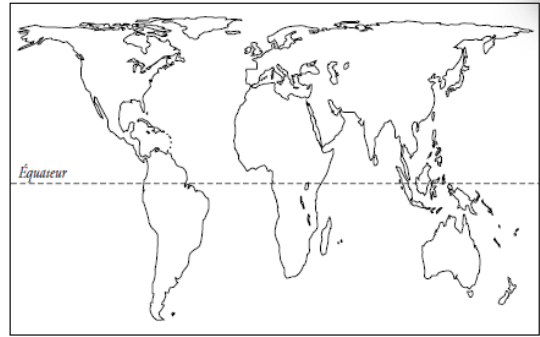
4- Quel est l'inconvénient du planisphère ?



5- Compare le planisphère de Mercator et celui de Peters.



Doc1 - Planisphère de Mercator



Doc2 - Planisphère de Peters

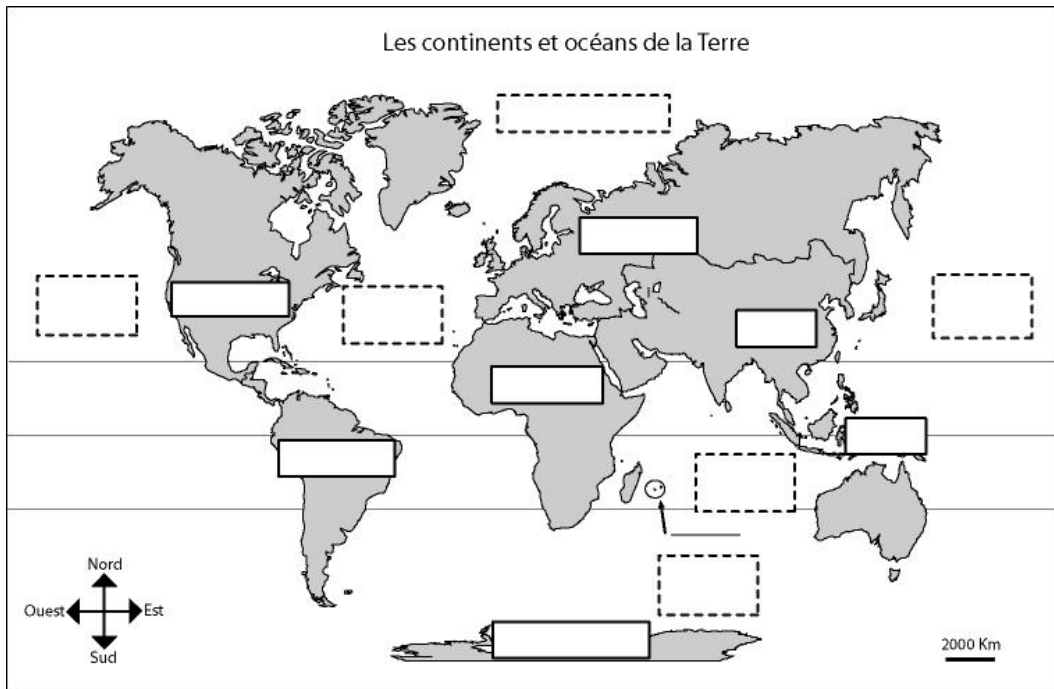
a- Quels continents ont été agrandis en passant du document 1 au document 2 ?

b- Quels continents ont été rétrécis en passant du document 1 au document 2 ?

Les continents et océans

1- Combien y a-t-il de continents et d'océans ? Ecris leurs noms sur le planisphère ci-dessous.

Il y a _____ continents et _____ océans.





2- Explique pourquoi on surnomme la Terre la « planète bleue ».

3- Donne la définition des deux mots suivants :

Un continent :

Un océan :
