

# Numération (1)

**1** Ecris les nombres dictés.

\_\_\_\_\_ - \_\_\_\_\_ - \_\_\_\_\_ - \_\_\_\_\_ - \_\_\_\_\_ - \_\_\_\_\_ - \_\_\_\_\_ - \_\_\_\_\_

\_\_\_\_\_ - \_\_\_\_\_ - \_\_\_\_\_ - \_\_\_\_\_ - \_\_\_\_\_ - \_\_\_\_\_ - \_\_\_\_\_ - \_\_\_\_\_

**2** Lis les nombres (individuellement, à côté de la maîtresse).

**21 - 55 - 34 - 18 - 51 - 47 - 60 - 28 - 16 - 39 - 44 - 23**

**3** Relie les nombres en chiffres avec leur écriture littérale.

|      |                   |      |                  |
|------|-------------------|------|------------------|
| 25 . | . cinquante-neuf  | 13 . | . cinquante-sept |
| 59 . | . trente-et-un    | 66 . | . treize         |
| 31 . | . vingt-cinq      | 42 . | . soixante-six   |
| 64 . | . quarante        | 57 . | . quarante-deux  |
| 40 . | . soixante-quatre | 28 . | . vingt-huit     |

**4** Range les nombres du plus petit au plus grand.

**47 - 15 - 32 - 29 - 65 - 58 - 7**

\_\_\_\_\_ - \_\_\_\_\_ - \_\_\_\_\_ - \_\_\_\_\_ - \_\_\_\_\_ - \_\_\_\_\_ - \_\_\_\_\_ - \_\_\_\_\_

# Numération (2)

1 Range les nombres du plus grand au plus petit.

14 - 59 - 36 - 25 - 40 - 8 - 61

\_\_\_\_\_ - \_\_\_\_\_ - \_\_\_\_\_ - \_\_\_\_\_ - \_\_\_\_\_ - \_\_\_\_\_ - \_\_\_\_\_

2 Compare les nombres en utilisant < , > , =.

14  41

36  43

22  51

25  25

62  26

32  44

12  51

53  39

46  46

3 Ecris le nombre précédent et le nombre suivant pour chaque nombre.


| Nombre précédent | Nombre | Nombre suivant |
|------------------|--------|----------------|
|                  | 25     |                |
|                  | 59     |                |
|                  | 31     |                |
|                  | 44     |                |
|                  | 67     |                |

4 Colorie les nombres pairs en bleu et les nombres impairs en rouge.


4 - 9 - 6 - 2 - 7 - 8 - 1 - 3 - 5

# Numération (3)


**1** Ecris le nombre d'objets qu'il y a dans chaque ensemble.



|   |   |
|---|---|
| d | u |
|   |   |



|   |   |
|---|---|
| d | u |
|   |   |



|   |   |
|---|---|
| d | u |
|   |   |

**2** Ecris les dizaines dans l'ordre et jusqu'à 100.

0 - 10 - \_\_\_\_\_ - \_\_\_\_\_ - \_\_\_\_\_ - \_\_\_\_\_ - \_\_\_\_\_ -  
\_\_\_\_\_ - \_\_\_\_\_ - \_\_\_\_\_ - 100

**3** Calcule et écris le résultat.

$8 + 3 = \dots\dots$

$11 + 5 = \dots\dots$

$6 + 6 = \dots\dots$

$9 + 7 = \dots\dots$

$12 + 3 = \dots\dots$

$3 + 15 = \dots\dots$

$12 - 4 = \dots\dots$

$15 - 8 = \dots\dots$

$7 - 2 = \dots\dots$