


NUMERATION et CALCULS


Manon a donné 2 fraises à Charlotte.
Maintenant il lui reste 3 fraises.

Combien Manon avait de fraises au départ ?



NUMERATION et CALCULS

Trouve la réponse.



5

NUMERATION et CALCULS


Avant la récréation,
Théo a 20 billes dans sa poche
A la récréation, il en gagne 50.

Combien a-t-il de billes après la récréation ?



NUMERATION et CALCULS

Trouve la réponse.



70

NUMERATION et CALCULS


J'ai 8 billes
je joue à la récréation
et après il m'en reste 4 dans ma poche.

Combien j'en ai perdu ?



NUMERATION et CALCULS

Trouve la réponse.




4

NUMERATION et CALCULS


Damien achète 43 pommes rouges
et 56 pommes vertes.

Combien a-t-il de pommes ?



NUMERATION et CALCULS

Trouve la réponse.

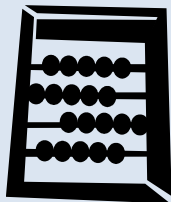


99

NUMERATION et CALCULS


Léa a 30 perles.
Elle en donne 14 à son amie Noémie.

Combien lui en reste-t-il ?



NUMERATION et CALCULS

Trouve la réponse.



16

NUMERATION et CALCULS


J'ai acheté 10 crayons ;
j'en ai donné 5 à ma copine
et 1 à mon copain.



Combien j'ai de crayons maintenant ?

NUMERATION et CALCULS


Trouve la réponse.



4

NUMERATION et CALCULS


Ratus a 90 jetons, mais Mina lui en a volé 64 pendant la récréation.



Combien lui en reste-t-il ?

NUMERATION et CALCULS

Trouve la réponse.



26

NUMERATION et CALCULS


Belo a 100 livres et il en offre 43 à Marou.



Maintenant Belo a livres

NUMERATION et CALCULS

Trouve la réponse.



57

NUMERATION et CALCULS


Papa va au marché, il achète :
des chips pour 5€ ;
de l'eau gazeuse à 12€
une petite voiture à 50€.



Combien d'argent doit dépenser papa ?

NUMERATION et CALCULS

Trouve la réponse.



67€

NUMERATION et CALCULS

Arwen a 20€.
Elle veut acheter une poupée qui
coûte 30€.

A-t-elle assez d'argent?

oui non


Il lui manque reste de l'argent

Combien ?€



NUMERATION et CALCULS

Trouve la réponse.



Non – il lui manque 10€

NUMERATION et CALCULS


Marie va à la fête foraine avec ses
parents. Sa maman lui achète 8 tours
de manège et son papa 5 tours.

Combien de tours Marie fait-elle?



NUMERATION et CALCULS

Trouve la réponse.



13 tours

NUMERATION et CALCULS


Maman va au marché et elle achète
du pain à 2€,
des raviolis à 3€
de la farine à 4€

Combien paye maman?



NUMERATION et CALCULS

Trouve la réponse.



9€

NUMERATION et CALCULS


Maman va aux courses et elle achète
des bonbons pour 5€
de la pizza pour 6€
de la glace pour 7€.

Combien paye maman?



NUMERATION et CALCULS

Trouve la réponse.



18€

NUMERATION et CALCULS


Maman va au marché et elle achète
des bananes pour 9€,
de l'ananas pour 8€
des fraises pour 10€

Combien paye maman?



NUMERATION et CALCULS

Trouve la réponse.



27€