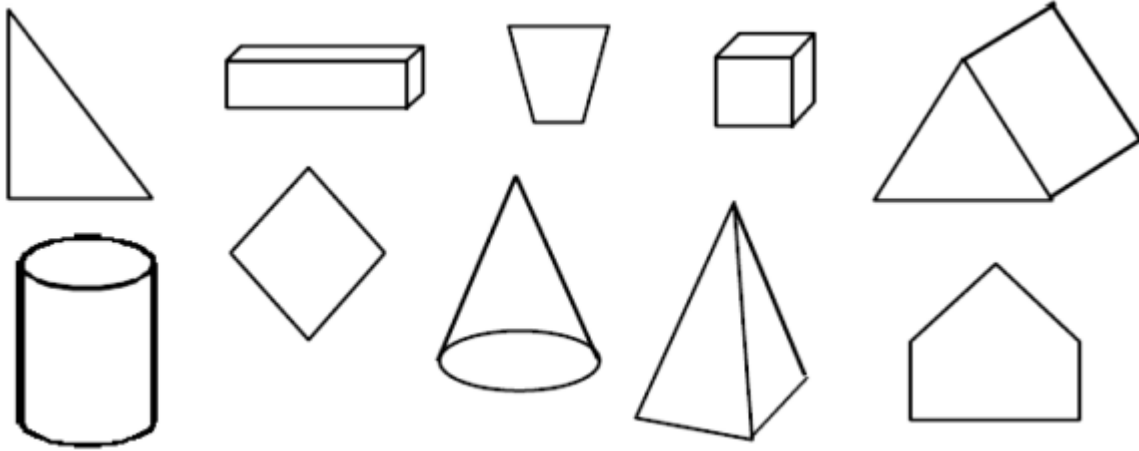


## Les solides

1. Entoure les figures qui sont des solides



2. Relie chaque solide à son nom

cube



cylindre



cône



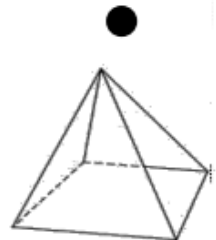
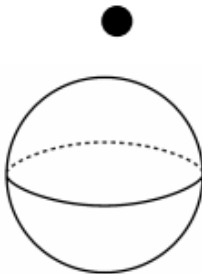

sphère



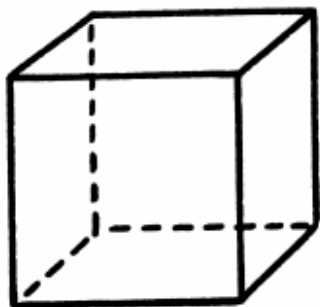
pyramide



paré



3. Complète la description du cube



Nombres de faces : \_\_\_\_\_

Nombre de sommets : \_\_\_\_\_

Nombre d'arêtes: \_\_\_\_\_

Un cube a \_\_\_\_\_ faces, \_\_\_\_\_ sommets et \_\_\_\_\_ arêtes.

Toutes ses faces sont des \_\_\_\_\_.