

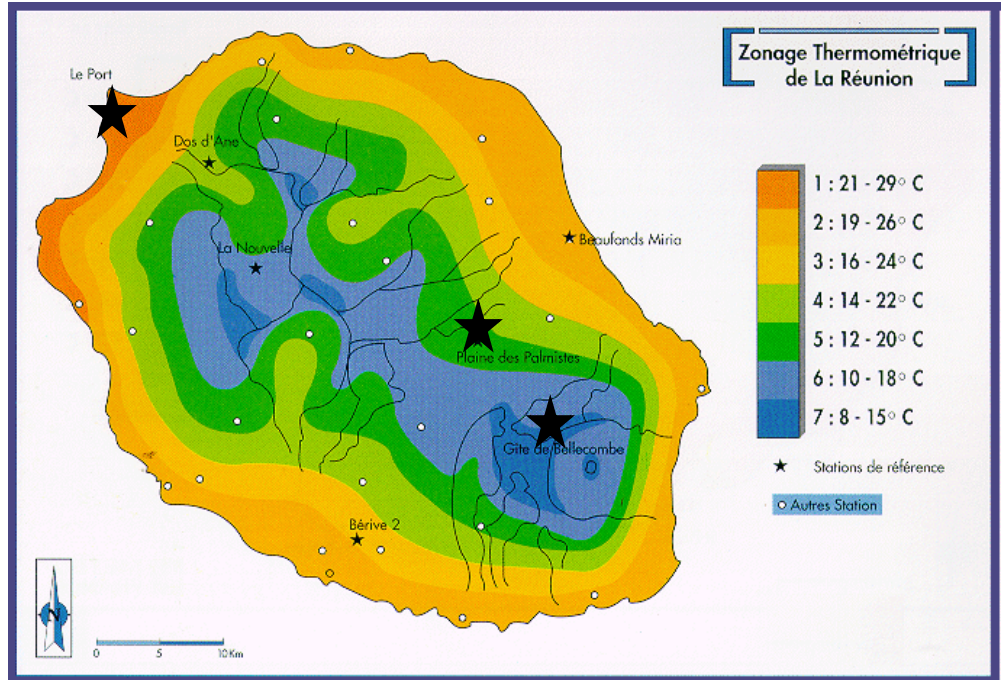
Nom : _____ Prénom : _____ Date : ____/____/____	Évaluation géographique	<table border="1"> <tr><td>Acquis</td></tr> <tr><td>En cours d'acquisition</td></tr> <tr><td>Non acquis</td></tr> </table>	Acquis	En cours d'acquisition	Non acquis
	Acquis				
En cours d'acquisition					
Non acquis					
Signature : _____	Compétences évaluées : » Identifier les caractéristiques de mon lieu de vie. - Nommer, localiser et caractériser des espaces. - Situer des lieux et des espaces les uns par rapport aux autres. - S'approprier et utiliser un lexique géographique approprié - Utiliser des cartes des photographies de paysages ou de lieux.				

Exercice 1 : Lire et comprendre une carte

1. Entoure en **vert** la légende, en **rouge** la rose des vents, en **bleu** l'échelle.

2. Complète les phrases suivantes en t'aidant de la légende.

a. Cette carte donne des informations sur la répartition de la _____ à La Réunion.




- b. A la station du **Port**, les températures sont comprises entre _____ °C et _____ °C.
- c. A la station de la **Plaine des Palmistes**, les températures sont comprises entre _____ °C et _____ °C.
- d. A la station du **gîte de Bellecombe**, les températures sont comprises entre _____ °C et _____ °C.
- e. Les zones les plus froide se trouvent dans les zones _____.
- f. Les zones les plus chaudes se trouvent dans les zones _____.






Exercice 2 : Entoure VRAI ou FAUX :

- a. Les zones littorales se trouvent en haute altitude : VRAI FAUX
- b. A la Réunion, il y a plus d'habitants dans les zones littorales : VRAI FAUX
- c. Il fait plus froid dans les zones de montagnes : VRAI FAUX
- d. Il y a plus de pluie à l'Ouest de l'île de la Réunion : VRAI FAUX
- e. Il est plus facile de construire des immeubles dans les zones de montagnes : VRAI FAUX
- f. On retrouve davantage d'immeubles dans les espaces urbains : VRAI FAUX
- g. Les espaces ruraux sont plus verdoyants que les espaces urbains : VRAI FAUX
- h. La Côte-sous-le-vent se trouve à l'Est de l'île : VRAI FAUX

Exercice 3 : Colorie en rouge les photos d'un espace urbain et en vert celles d'un espace rural.



Exercice 4 : Colorie en jaune les photos de la Côte-sous-le-vent de l'île et en bleu celles de la Côte-au-vent de l'île.



Exercice 5 : Réponds aux questions suivantes

a. Qu'est-ce que la pluviométrie ? _____

b. Comment s'appellent les vents venant de l'Est qui arrivent sur la côte au vent de la Réunion ? _____

c. Qu'est-ce qui empêche les vents venant de l'Est d'atteindre la côte ouest de l'île ? _____