




Ton prénom : \_\_\_\_\_

1  Ecris les réponses.

●     ■     ★     ☾     ♥     ▲

2  Ecris les nombres qui manquent


21 22             25             29             31             35 36

3  Ecris les résultats.

$5 + 4 = \dots$	$5 + 3 = \dots$	$5 + \dots = 9$	$3 + \dots = 7$	$\dots + 1 = 8$
$6 + 4 = \dots$	$2 + 7 = \dots$	$4 + \dots = 8$	$\dots + 2 = 9$	$\dots + 0 = 5$

4  Complète.


$10 + 2 = \dots$	$20 + 2 = \dots$	$10 + 8 = \dots$	$20 + 9 = \dots$
$20 + 4 = \dots$	$30 + 7 = \dots$	$30 + 1 = \dots$	$10 + 1 = \dots$
$30 + 3 = \dots$	$20 + 8 = \dots$	$10 + 5 = \dots$	$30 + 6 = \dots$

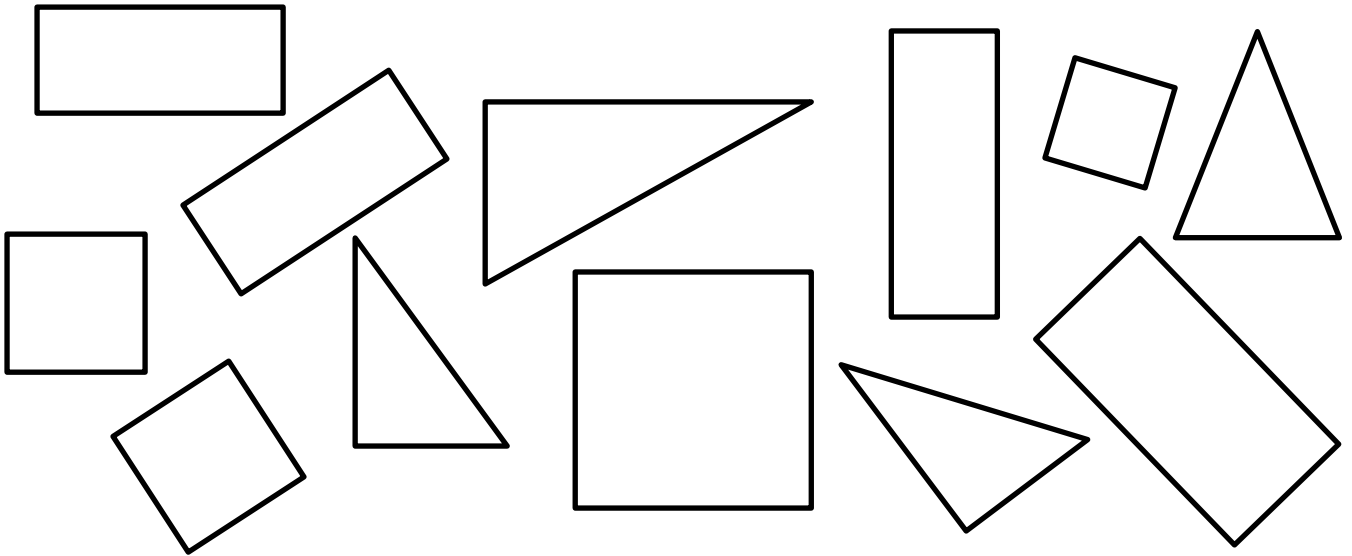
5  Ecris le nombre de points.


.....

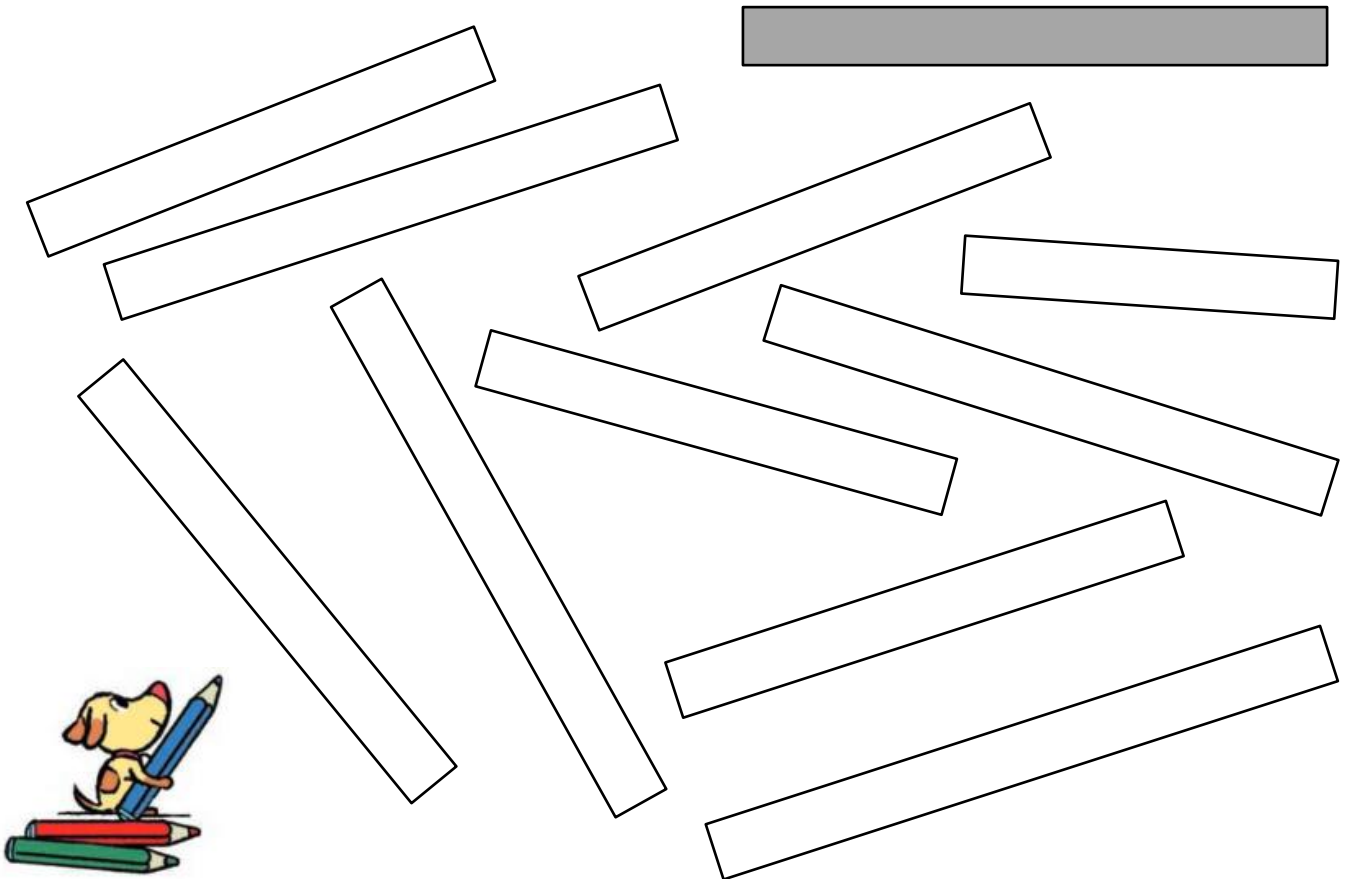
.....




6  Colorie en jaune les rectangles, en rouge les carrés, en vert les triangles.



7  Colorie les bandes qui ont la même longueur que la bande grise.



8  Colle une ou plusieurs bandes pour faire un chemin qui a une longueur double de celle du chemin de Gribouille.

