


# PROBLÈME DU JOUR

Un problème du quotidien à résoudre par jour !



Crédits images : Freepik



# PROBLÈME DU JOUR

Hugo prépare un gâteau au chocolat. Il lui faut 3 œufs. Il en a une boîte de 10.


Combien lui en restera-t-il ?



# PROBLÈME DU JOUR

Marina a 14 billes rouges et 17 billes bleues.

Combien a-t-elle de billes au total ?




# PROBLÈME DU JOUR

Rémi avait 42 trombones.

Il lui en reste 32.

Combien a-t-il donné de trombones à Cécile ?



# PROBLÈME DU JOUR

Un escargot avance de 26 centimètres et encore de 12 centimètres.

Combien de centimètres a-t-il parcourus en tout ?



# PROBLÈME DU JOUR

Dans une animalerie il y a 26 souris. Il y a 14 souris grises et 3 souris blanches. Les autres sont marron.

Combien de souris marron y a-t-il ?



# PROBLÈME DU JOUR

Séverine peut planter 3 érables japonais dans une jardinière.

Elle a 3 jardinières.

Combien va-t-elle planter d'érables ?



# PROBLÈME DU JOUR

Devant la porte du vestiaire de la piscine il y a 48 chaussures.

Combien d'enfants ont déposé leurs chaussures ?





# PROBLÈME DU JOUR

Éric range ses photos dans un album.  
Il peut placer 8 photos par page et a rempli  
6 pages.

Combien de photos Éric a-t-il ?



# PROBLÈME DU JOUR

Il y a 67 places dans le car.

46 passagers se sont déjà installés.

Combien de places libres reste-t-il ?



# PROBLÈME DU JOUR

Lucas a 12 bonbons.

Il en distribue 3 à chacun de ses camarades.

Combien de camarades a Lucas ?



# PROBLÈME DU JOUR

Cathy achète un livre à 5€ et un stylo à 2€.

Elle donne un billet de 10€.

Combien lui rend-on ?



# PROBLÈME DU JOUR

Sami veut acheter un bouquet de roses à 17€ pour sa maman.

Il n'a que 9€.

Combien manque-t-il d'argent à Sami ?



# PROBLÈME DU JOUR

Jules achète une casquette à 7€. La vendeuse lui rend 13€.

Combien Jules avait-il donné ?



# PROBLÈME DU JOUR

Les élèves sont rangés dans la cour. Il y a 4 groupes de 2 élèves.

Combien y a-t-il d'élèves en tout ?



# PROBLÈME DU JOUR

La semaine dernière il y avait 13 chevaux dans le pré. Aujourd'hui il n'y en a plus que 7.

Combien de chevaux sont partis ?





# PROBLÈME DU JOUR

Jolène a fait 36 raviolis.

Elle en a mangé 13.

Combien lui en reste-t-il ?



# PROBLÈME DU JOUR

Dans la classe il y a 23 élèves.  
Il y a 11 garçons.

Combien de filles y a-t-il ?



# PROBLÈME DU JOUR

Nina et Anaïs vont cueillir des fraises.  
Elles remplissent 4 barquettes de 18 fraises.

Combien ont-elles ramassé de fraises ?



# PROBLÈME DU JOUR

J'achète une chemise à 14€ et un pantalon.  
Je paye au total 25€.

Quel est le prix du pantalon ?



# PROBLÈME DU JOUR

Papa avait 5€ ce matin.

Il a gagné 22€ en vendant des fruits au marché.

Combien Papa a-t-il d'argent ce soir ?



# PROBLÈME DU JOUR

J'avais 27€ ce matin.

J'ai acheté le petit-déjeuner à la boulangerie pour 16€.

Combien me reste-t-il d'argent maintenant ?



# PROBLÈME DU JOUR

Au bowling, Céline marque 25 points.

Evie en marque 12 de plus.

Combien Evie a-t-elle marqué de points ?



# PROBLÈME DU JOUR

La factrice distribue 2 lettres dans 14 boîtes aux lettres.

Combien de lettres distribue-t-elle ?





# PROBLÈME DU JOUR

Aurélia et Julien ont fait une nouvelle fournée de 12 cookies.

Il y en a maintenant 25.

Combien y avait-il de cookies avant ?



# PROBLÈME DU JOUR

Le fermier traite sa vache tous les jours et obtient 2 litres de lait.

Au bout de combien de jours obtiendra-t-il 10 litres ?



# PROBLÈME DU JOUR

Au marché, maman achète 4 bananes pour 3€, 6 pommes pour 4€, une pastèque à 9€ et 5 poires. Elle paie 20€ en tout.

Quel est le prix des poires ?



# PROBLÈME DU JOUR

Un apiculteur récolte 6 pots de miel lundi puis 7 pots mardi.

Combien de pots a-t-il récoltés en tout ?



# PROBLÈME DU JOUR

Sofia et Aïden se partagent équitablement 40 timbres.

Combien de timbres aura Sofia ?



# PROBLÈME DU JOUR

Un magicien fait apparaître 5 lapins et 8 colombes puis il fait disparaître 2 colombes.

Combien d'animaux reste-t-il ?



# PROBLÈME DU JOUR

Adeline achète une montre à 45€ et un collier à 33€.

Combien Adeline paye-t-elle au total ?



# PROBLÈME DU JOUR

Ce matin j'avais 6 figurines de dinosaures. Mon camarade m'en a donné 3.

Combien ai-je de figurines à présent ?





# PROBLÈME DU JOUR

Jade a 18 bagues. Sa copine Eva en a 23.

Combien ont-elles de bagues au total ?



# PROBLÈME DU JOUR

Julia range 17 cahiers sur l'étagère.

Marine lui en donne 9 de plus.

Combien de cahiers Julia a-t-elle rangés en tout ?



# PROBLÈME DU JOUR

Un phare s'éclaire toutes les 2 minutes.

Combien de fois s'éclaire-t-il en 30 minutes ?



# PROBLÈME DU JOUR

La baleine bleue parcourt 20 kilomètres en une heure.

Combien de kilomètres parcourt-elle en 3 heures ?



# PROBLÈME DU JOUR

Au zoo, il y a 6 éléphants dans un enclos.

Combien de pattes et d'oreilles y a-t-il en tout ?



# PROBLÈME DU JOUR

Emy joue au jeu de l'oie. Elle est sur la case 16 et doit reculer de 4 cases.

Sur quelle case va-t-elle poser son pion ?



# PROBLÈME DU JOUR

Tom a 35€. Lola a 54€.

Combien Lola a-t-elle de plus que Tom ?



# PROBLÈME DU JOUR

Maman a cueilli 19 tulipes. Elle en a jeté 2 qui étaient fanées.

Combien de tulipes reste-t-il à maman ?





# PROBLÈME DU JOUR

Louna et Milann ont construit un château de sable. Ils remplissent maintenant les douves avec de l'eau. Il leur faut 12 litres. Ils ont chacun un seau contenant 1 litre et se partagent le travail équitablement.

Combien de fois doivent-ils remplir leur seau ?

