

NUMERATION ET CALCULS

Trouve la réponse




Jean achète 3 pains à 1€50 chacun.

Combien dépense-t-il ?

NUMERATION ET CALCULS

Trouve la réponse.



$$3 \times 1.5 = 4 \text{ € } 50$$

NUMERATION ET CALCULS

Trouve la réponse


Elie lit un livre qui comporte 108 pages, il est à la page 31.



Combien lui reste-t-il de pages à lire ?

NUMERATION ET CALCULS

Trouve la réponse.



$$108 - 31 = 77 \text{ pages}$$

NUMERATION ET CALCULS

Trouve la réponse


Mon copain achète des chips à 10€ et un gâteau à 20 €.

Combien dépense-t-il ?



NUMERATION ET CALCULS

Trouve la réponse.




$$30 \text{ €}$$

NUMERATION ET CALCULS

Trouve la réponse


Elodie a un billet 50€. Elle part acheter une tablette de chocolat à 10€



Combien la caissière va-t-elle lui rendre ?

NUMERATION ET CALCULS

Trouve la réponse.




40 €

NUMERATION ET CALCULS

Trouve la réponse


Noël a 145€ dans son porte-monnaie, il achète un jeu DS à 45 € et 3 BD à 4€ chacune.



Combien dépense-t-il ?

NUMERATION ET CALCULS

Trouve la réponse.




$45 + (3 \times 4) = 57€$

NUMERATION ET CALCULS

Trouve la réponse


Noël a 145€ dans son porte-monnaie, il achète un jeu DS à 45 € et 3 BD à 4€ chacune.



Combien d'argent lui reste-t-il ?

NUMERATION ET CALCULS

Trouve la réponse.



$45 + (3 \times 4) = 57€$ et $145 - 57 = 88€$