

EVALUATION MATHÉMATIQUES

PERIODE 1

Nombres






Prénom :

Compétences : Ecrire sous la dictée les nombres inférieurs à 5

A

ECA

NA



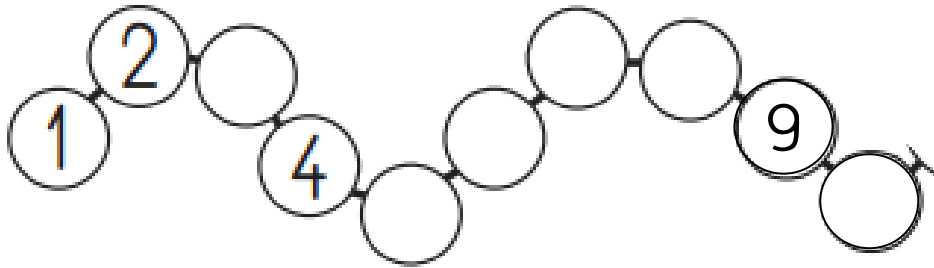
Compétences : Connaître la suite numérique des nombres jusqu'à 10

A

ECA

NA

Complète avec les nombres manquants





Compétences : dénombrer des collections inférieures à 10

A

ECA

NA

Ecris le nombre d'objet dans chaque nuage



Compétences : faire correspondre une collection à une écriture chiffrée

A

ECA

NA

Colorie **8** doigts.



Colorie **6** doigts.



Colorie **10** doigts.



EVALUATION MATHÉMATIQUES

PERIODE 1

Nombres






Prénom :

Compétences : Ecrire sous la dictée les nombres inférieurs à 5

A

ECA

NA



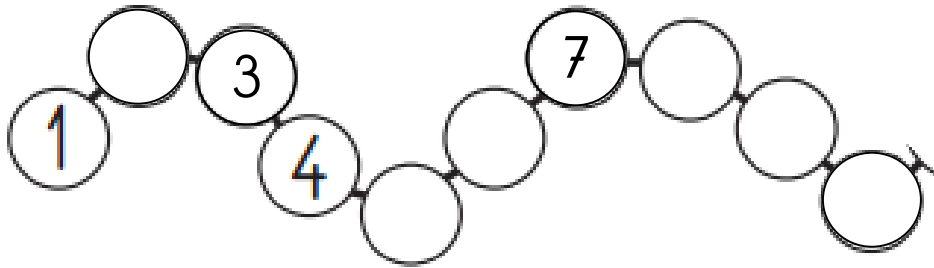
Compétences : Connaître la suite numérique des nombres jusqu'à 10

A

ECA

NA

Complète avec les nombres manquants





Compétences : dénombrer des collections inférieures à 10

A

ECA

NA

Ecris le nombre d'objet dans chaque nuage



Compétences : faire correspondre une collection à une écriture chiffrée

A

ECA

NA

Colorie **10** doigts.



Colorie **8** doigts.

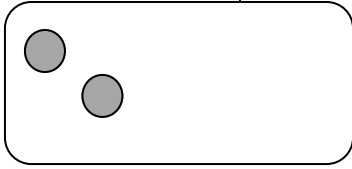


Colorie **6** doigts.

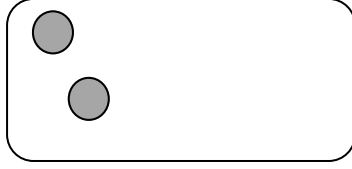


Dessine les billes qui manquent

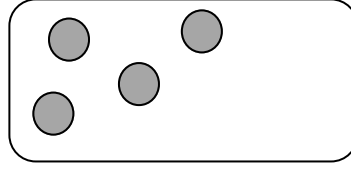
3



5



7




4

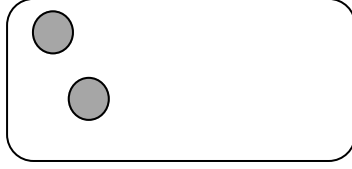


Dessine les billes qui manquent

4



3



5



7

