

Date : ___ / ___ / ___

Correction : ○

Range dans l'ordre croissant.

★ a) $126 - 87 - 231 - 400$

Range dans l'ordre décroissant.

★ b) $61 - 211 - 151 - 440 - 391 - 56$

Range dans l'ordre croissant.

★★★ c) $52 - 466 - 64 - 248 - 62 - 331 - 217 - 428$

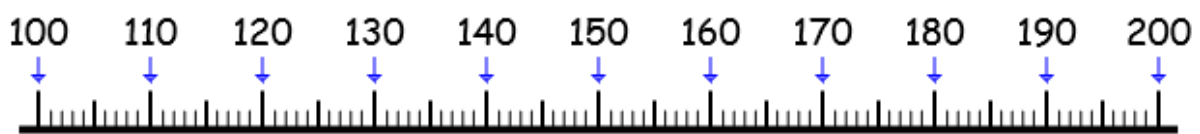
Complète la suite

★ a) $10 - 20 - \dots - \dots - \dots - \dots - 70 - \dots - \dots - \dots - 110$

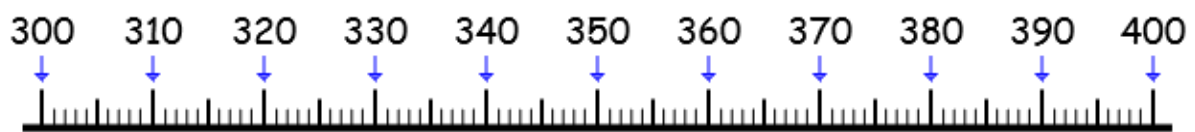
★★ b) $2 - 4 - 6 - \dots - \dots - \dots - \dots - \dots - \dots - 20 - \dots - \dots$

★★★ c) $115 - 125 - 135 - \dots - \dots - \dots - \dots - \dots - 195 - \dots - \dots$

Indique les nombres marqués par la flèche rouge.



★ a)



★★ b)



★★★ c)

Date : ___ / ___ / ___

Correction : ○

Range dans l'ordre décroissant.

★ a) $451 - 12 - 239 - 324$

Range dans l'ordre croissant.

★ b) $161 - 32 - 215 - 443 - 309 - 156$

Range dans l'ordre décroissant.

★★★ c) $52 - 146 - 264 - 424 - 62 - 233 - 321 - 428$

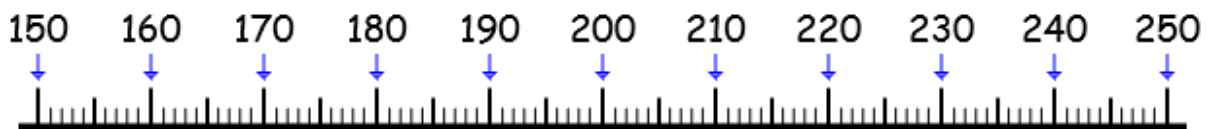
Complète la suite

★ a) $230 - 220 - 210 - \dots - \dots - \dots - \dots - 160 - \dots - \dots$

★★ b) $30 - 27 - 24 - \dots - \dots - \dots - \dots - \dots - \dots - \dots$

★★★ c) $60 - 55 - 50 - \dots - \dots - \dots - \dots - \dots - \dots - \dots$

Indique les nombres marqués par la flèche rouge.



★ a)



★★ b)



★★★ c)

Date : ___ / ___ / ___

Correction : ○

Range dans l'ordre décroissant.

★ a) $189 - 340 - 237 - 48$

Range dans l'ordre croissant.

★ b) $52 - 113 - 426 - 207 - 134 - 69$

Range dans l'ordre décroissant.

★★★ c) $51 - 403 - 162 - 219 - 360 - 436 - 214 - 414$

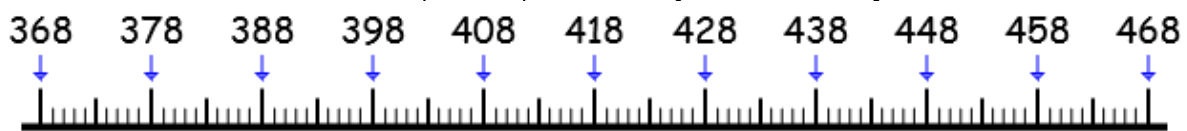
Complète la suite.

★ a) $7 - 17 - 27 - \dots - \dots - \dots - \dots - \dots - \dots - \dots - \dots$

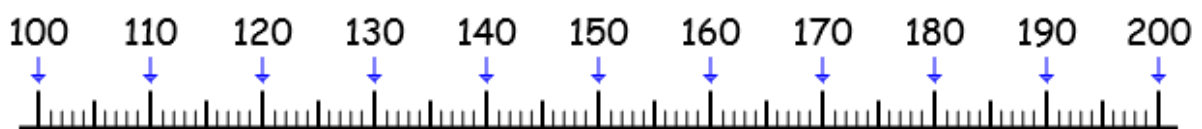
★★ b) $222 - 224 - 226 - \dots - \dots - \dots - \dots - \dots - \dots - \dots$

★★★ c) $100 - 200 - \dots - \dots - \dots - \dots - \dots - \dots - \dots - \dots$

Indique les nombres marqués par la flèche rouge.



★ a)



★★ b)



★★★ c)

Date : ___ / ___ / ___

Correction : ○

Range dans l'ordre croissant.

★ a) $69 - 241 - 315 - 435$

Range dans l'ordre décroissant.

★ b) $150 - 115 - 51 - 225 - 367 - 37$

Range dans l'ordre croissant.

★★★ c) $189 - 54 - 420 - 361 - 53 - 416 - 126 - 462$

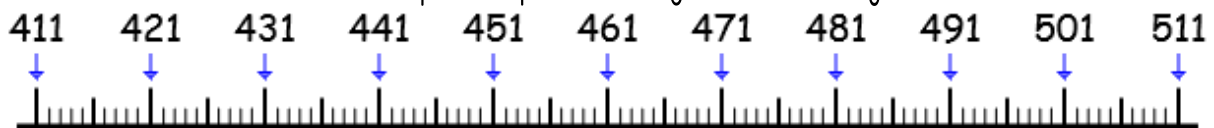
Complète la suite.

★ a) $44 - 46 - 48 - \dots - \dots - \dots - \dots - \dots - \dots - \dots - \dots$

★★ b) $900 - 800 - \dots - \dots - \dots - \dots - \dots - \dots - \dots$

★★★ c) $50 - 100 - 150 - \dots - \dots - \dots - \dots - \dots - \dots$

Indique les nombres marqués par la flèche rouge.



★ a)



★★ b)



★★★ c)

Date : ___ / ___ / ___

Correction : ○



Compétence : Ranger les nombres / Compléter des suites / Placer des nombres sur une frise numérique (jusqu'à 500)

Ranger dans l'ordre décroissant.

a) $369 - 417 - 367 - 28$

Ranger dans l'ordre croissant.

b) $337 - 161 - 198 - 482 - 66 - 37$

Ranger dans l'ordre décroissant.

c) $415 - 54 - 424 - 187 - 302 - 64 - 221 - 77$

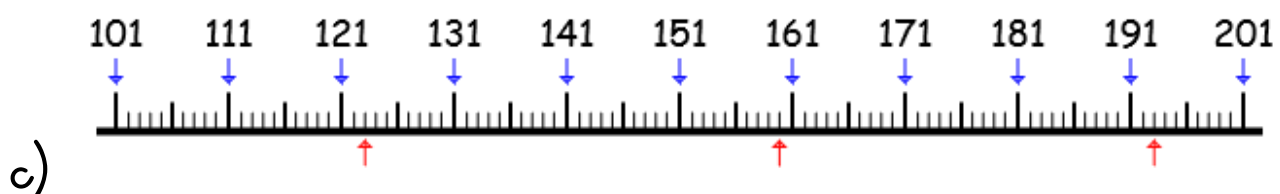
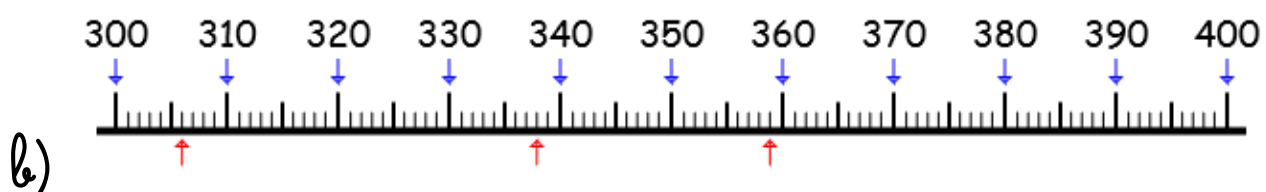
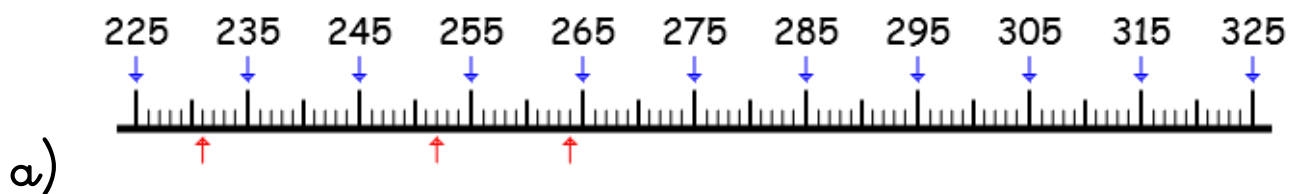
Complète la suite.

a) $550 - 560 - \dots - \dots - \dots - \dots - \dots - \dots - \dots - \dots$

b) $350 - 355 - 360 - \dots - \dots - \dots - \dots - \dots - \dots$

c) $62 - 64 - 66 - \dots - \dots - \dots - \dots - \dots - \dots - \dots$

Indique les nombres marqués par la flèche rouge.



Date : ___ / ___ / ___

Correction : ○

Range dans l'ordre décroissant.

★ a) $267 - 168 - 37 - 491$

Range dans l'ordre croissant.

★ b) $246 - 455 - 500 - 492 - 87 - 7$

Range dans l'ordre décroissant.

★★★ c) $55 - 360 - 414 - 231 - 195 - 467 - 157 - 63$

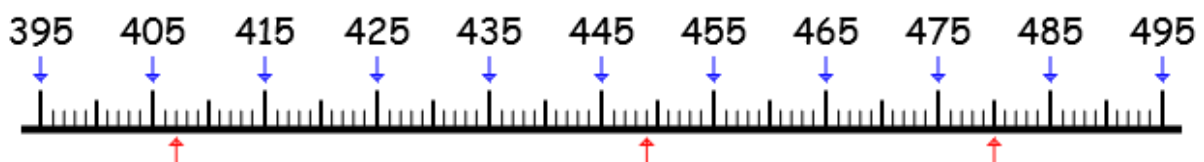
Complète la suite

★ a) $99 - 109 - 119 - \dots - \dots - \dots - \dots - \dots - \dots - \dots$

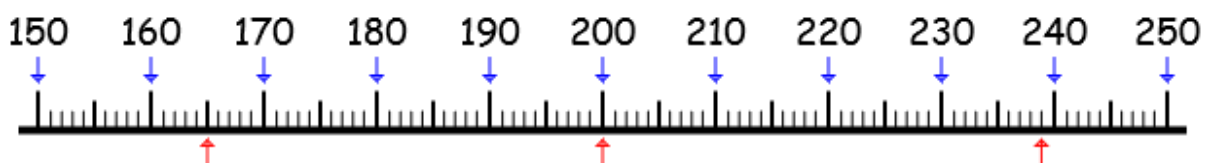
★★ b) $320 - 340 - 360 - \dots - \dots - \dots - \dots - \dots - \dots$

★★★ c) $390 - 380 - 370 - \dots - \dots - \dots - \dots - \dots - \dots$

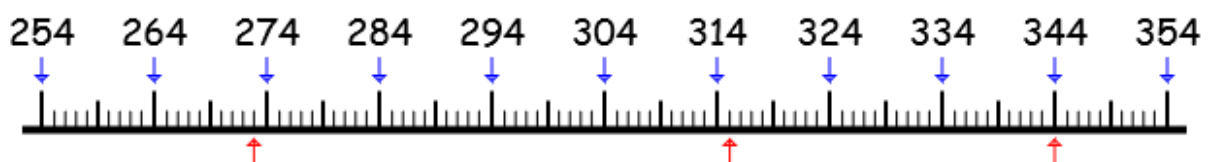
Indique les nombres marqués par la flèche rouge.



★ a)



★★ b)



★★★ c)

Date : ___ / ___ / ___

Correction : ○

Range dans l'ordre croissant.

★ a) $67 - 342 - 304 - 366$

Range dans l'ordre décroissant.

★ b) $341 - 109 - 444 - 11 - 251 - 166$

Range dans l'ordre croissant.

★★★ c) $329 - 435 - 129 - 134 - 246 - 460 - 220 - 14$

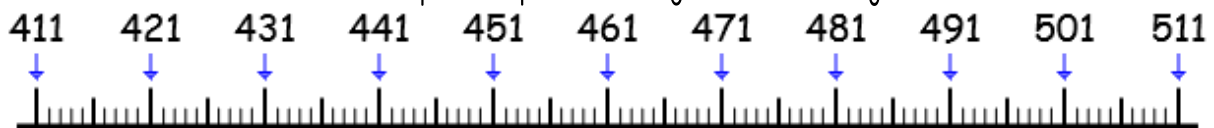
Complète la suite.

★ a) $6 - 12 - 18 - \dots - \dots - \dots - \dots - \dots - \dots - \dots - \dots$

★★ b) $412 - 414 - 416 - \dots - \dots - \dots - \dots - \dots - \dots - \dots$

★★★ c) $560 - 550 - 540 - \dots - \dots - \dots - \dots - \dots - \dots - \dots$

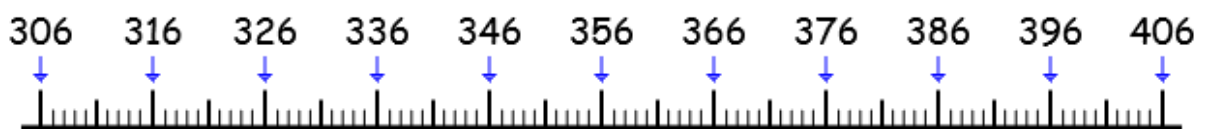
Indique les nombres marqués par la flèche rouge.



★ a)



★★ b)



★★★ c)

Date : ___ / ___ / ___

Correction : ○



Compétence : Ranger les nombres / Compléter des suites / Placer des nombres sur une frise numérique (jusqu'à 500)

Ranger dans l'ordre croissant.

a) $208 - 411 - 67 - 82$

Ranger dans l'ordre décroissant.

b) $633 - 166 - 89 - 284 - 65 - 73$

Ranger dans l'ordre croissant.

c) $514 - 45 - 244 - 107 - 203 - 46 - 122 - 77$

Complète la suite.

a) $45 - 50 - 55 - \dots - \dots - \dots - \dots - \dots - \dots - \dots$

b) $392 - 382 - 372 - \dots - \dots - \dots - \dots - \dots - \dots - \dots$

c) $502 - 504 - 506 - \dots - \dots - \dots - \dots - \dots - \dots - \dots$

Indique les nombres marqués par la flèche rouge.

