



Date :

CM2

43

À sa naissance, la nièce de Robotine pesait 3,45 kg. À un an, elle pèse 12 kg.
Combien de kilogrammes a pris la nièce de Robotine en un an ?




Ta réponse

Opération(s) posée(s)


44

Le papa de Tirobot achète des billets de train pour partir à Paris avec sa famille. Le billet coute 76 €.
Avec sa carte de réduction, il va payer 4 fois moins cher que le prix normal. Il achète 6 billets de train.

- a Combien dépense-t-il pour l'achat d'un billet avec la réduction ?
b Combien dépense-t-il pour l'achat des 6 billets ?



Tes réponses



Opération(s) posée(s)




45 Tirobot et Robotine ont récolté 1 200 tomates.
Le magasin de fruits et légumes bio veut leur en acheter 35 caisses de 25.

- a** Combien de tomates le magasin bio veut-il acheter ?
- b** Tirobot et Robotine auront-ils assez de tomates à vendre ?



Tes réponses


Opération(s) posée(s)



46 Le Blu-ray de « Robette sur Mars » coûte 21 €. Le DVD sur les Jeux olympiques coûte 2 fois moins cher. Tirobot achète le DVD des Jeux olympiques. Il donne un billet de 20 € à la caisse.

- a** Combien coûte le DVD des Jeux olympiques ?
- b** Combien d'argent la caissière lui rendra-t-elle ?

Tes réponses





Date :

47 En sport, Robotine lance le javelot à 11,75 m.
Tirobot lance le sien à 3,20 m de moins que Robotine.
À quelle longueur Tirobot lance-t-il son javelot ?

Ta réponse

Handwritten answer box for question 47.



Opération(s) posée(s)

Handwritten operation box for question 47.

48



Tirobot a 195 photos sur son téléphone.
Il en a 4 fois plus sur son ordinateur à la maison.

- a** Combien Tirobot a-t-il de photos sur son ordinateur ?
- b** Combien Tirobot a-t-il de photos en tout ?

Tes réponses

Large handwritten answer box for question 48.

Opération(s) posée(s)

