

Bilan mathématiques unité 7 - cm1


Signature :

Prénom : _____ Ton estimation : A / ECA+ / ECA / AR _____ Date : _____

1,2,3	utiliser des fractions simples pour exprimer (ou réaliser) des longueurs et des aires	
4	Trouver des fractions égales	
5	utiliser l'alignement pour reproduire une figure	
6	calculer des durées en heures et minutes	
7, 8	calculer le périmètre d'un carré et d'un rectangle	

1 - Trouve deux façons d'exprimer la longueur de chaque segment avec l'unité u.

Pour cela, tu peux découper dans une feuille une bande unité.



2 - A l'aide de la bande unité, trace des segments de longueur $\frac{1}{4}$ u et $\frac{3}{2}$ u.


3 - Utilise une autre unité comme celle-ci.

a) Trace une surface d'aire $\frac{5}{4}$ u.

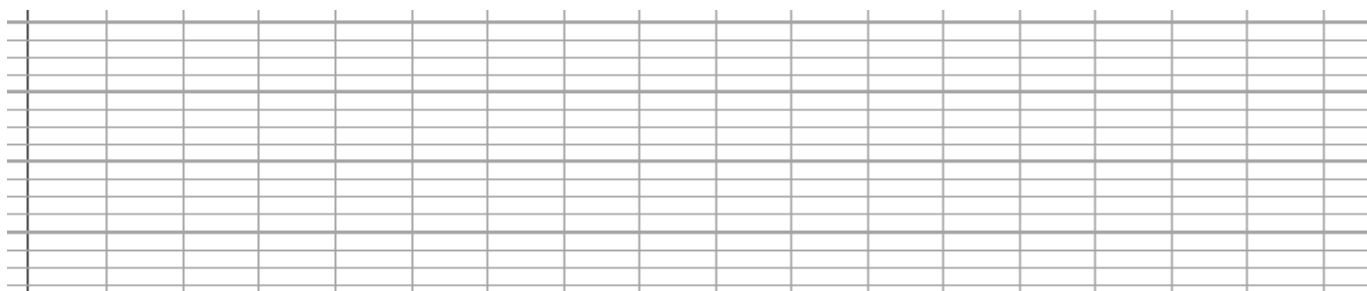
b) Trace une autre surface d'aire $\frac{7}{2}$ u.

Explique ta méthode

.....
.....
.....
.....
.....



4 – En utilisant toujours l'unité u, exprime d'une autre façon la longueur de chacun des segments que tu as tracés dans la question 2.



5 – Reproduis cette figure.

