

Le calendrier des maths



Aujourd'hui, nous sommes

le _____

On peut aussi écrire _____ / _____ / _____

C'est le _____ jour d'école.



Le grand nombre

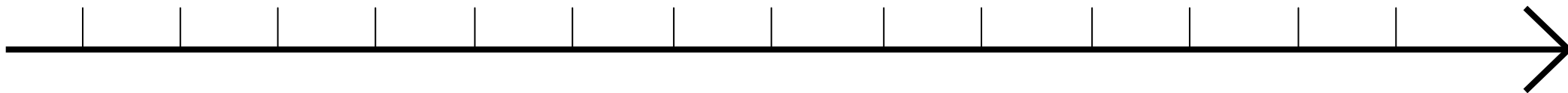
- 1) Je l'écris sur l'ardoise en chiffres et en lettres
- 2) Je le dis tout fort.

CP :

CE1

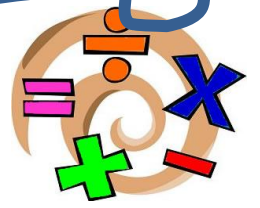
CM :

Je place ces nombres sur la file



L'opération

du jour



CE1

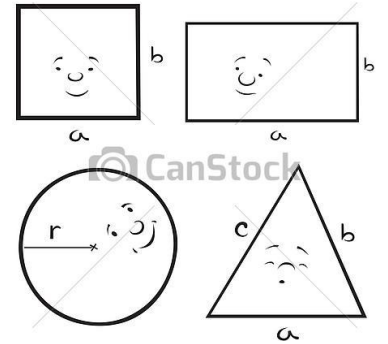
CP

CM


Les mesures du jour.

P : Périmètre

A : Aire



L'heure du jour. CP / CE



Les fractions du jour.



$$\frac{\quad}{\quad} + \frac{\quad}{\quad} =$$

$$\frac{\quad}{\quad} + \frac{\quad}{\quad} =$$

$$\frac{\quad}{\quad} + \frac{\quad}{\quad} =$$

$$\frac{\quad}{\quad} + \frac{\quad}{\quad} =$$

$$\frac{\quad}{\quad} = \frac{\quad}{\quad}$$

$$\frac{\quad}{\quad} = \frac{\quad}{\quad}$$

Les mesures du jour.



(conversions)

Transforme en

..... =

