

Mission ours polaire

Description



L'ours polaire, aussi appelé **ours** blanc, est un **animal** pouvant vivre sous l'eau ou sur terre. Les ours vivent seuls, ils sont solitaires.

Le mâle **pèse** 800 kilos. La femelle, elle, pèse 300 kilos. Leur taille debout est de 2,5 m à 3,3 m. Sa **fourrure** possède deux

épaisseurs : la première est faite de poils courts et épais, la seconde de poils longs et cirés sur lesquels **glisse** la neige. La couleur blanche de son pelage lui assure un camouflage idéal sur la **banquise**.

Habitat


Il **vit** au niveau du pôle Nord. Son habitat se limite quasiment à la banquise.


Alimentation

L'ours blanc est un animal carnivore. Les **phoques** sont presque toute son alimentation, mais il peut se **nourrir** de poissons, de crabes, de petits œufs et parfois de cadavres de baleines.

Un animal en danger

L'ours polaire est une espèce en voie de disparition. Les ours blancs **utilisent** habituellement la banquise comme plateforme pour **chasser** leur principale proie : le phoque. Mais la banquise **fond** à cause du réchauffement climatique. L'ours blanc se fait aussi chasser par des **braconniers** pour sa **peau** ou sa fourrure.

	1	2	3	4	5
---	---	---	---	---	---

 à cause / aussi / c'est / comme / deux / leur / mais / parfois / pour / presque / sous / sur / toute



Colorie chaque chemin orthographique d'une couleur.

Un	ours	polaires	mange	du	poisson.
Les	ours	blanc	mangent	des	phoques.









① Cache le texte, ② écris les verbes avec la bonne terminaison, ③ corrige avec le texte.

pès	e	Les ours seuls.
viv	t	La femelle 300 kilo.
utilis	d	L'ours blanc se chasser.
fai	ent	La banquise très vite.
fon		Les ours la banquise.



① Cache le texte, ② écris les mots, ③ corrige avec le texte.

		
	ei	
		
rr	qu	

Exercice :

Complète avec : *le double de* ou *la moitié de*

10 est5

8 est16

20 est10

14 est7

100 est 50

Exercice :

Calcule :


$238 + 10 = \dots$ $525 + 40 = \dots$ $750 + 40 = \dots$

$540 + 20 = \dots$ $250 + 50 = \dots$ $820 + 60 = \dots$

Exercice :

*Trouve la règle et continue :

$234 - 244 - 254 - \dots - \dots - \dots - \dots$

	Mission	1	2	3	4	5	6	7	8
	Indice								



A faire quand tu en as envie.

