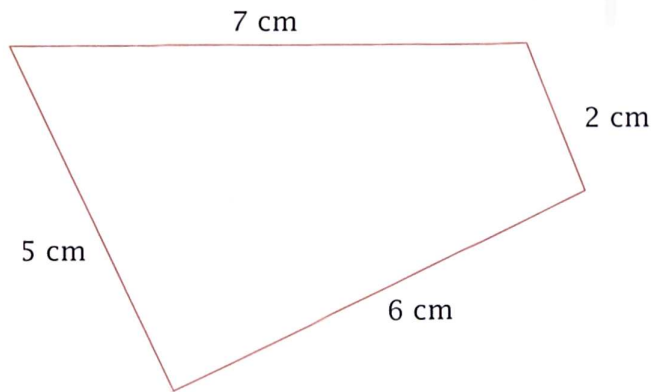


Calculer un périmètre

Je révise


1) Calcule le périmètre de cette figure.



$$P = \dots + \dots + \dots + \dots = \dots$$


2) Trouve le périmètre des figures ci-dessous.

a




$$P = \dots$$

b



$$P = \dots$$

3) Trace un carré dont le périmètre sera de 16 cm.



4) Calcule le périmètre d'un :

carré de 8 cm de côté : _____

rectangle de 12 cm de longueur et de 8 cm de largeur : _____