

Prénom : _____

date : _____

EVALUATION de Géométrie Avril 2013

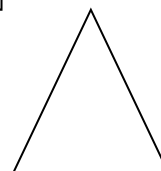

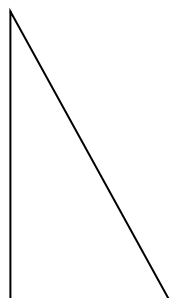


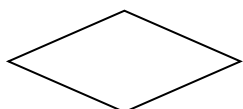
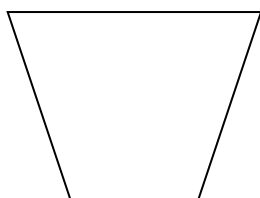
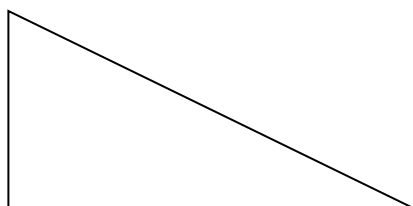
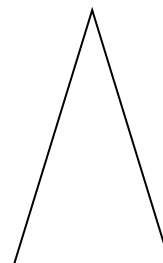
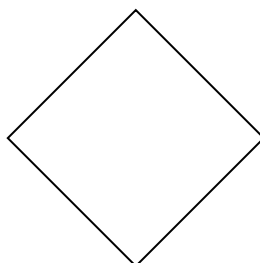
- Je sais reconnaître un carré, rectangle et triangle.
- Je connais les caractéristiques des polygones tels que le carré, rectangle et triangle.
- Je sais tracer un carré, un rectangle et un triangle. (avec ou sans quadrillage)

Note : /10
/10

Moyenne de la classe :

1) Parmi les figures suivantes je colorie en rouge les triangles, en bleu les rectangles et en vert les carrés.

/10




2) Complète le tableau par vrai ou faux.

/8

Un triangle a 4 côtés.	
Un rectangle a 4 côtés.	
Un carré a 3 côtés.	
Un rectangle a des angles droits.	
Un triangle a des angles droits.	
Un carré n'a pas d'angle droit.	
Les côtés du carré sont tous égaux.	
Les côtés d'un rectangle sont égaux 2 à 2.	

3) Je dessine un carré, un rectangle et un triangle.

/6



4) Je dessine un carré, un rectangle et un triangle.

/6

Prénom : _____

date : _____

EVALUATION de Géométrie Avril 2013




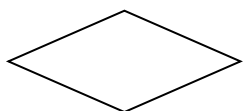
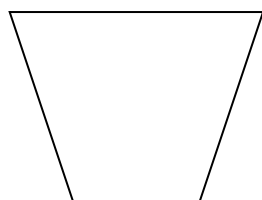





- Je sais reconnaître un carré, rectangle et triangle.
- Je connais les caractéristiques des polygones tels que le carré, rectangle et triangle.
- Je sais tracer un carré, un rectangle et un triangle. (avec ou sans quadrillage)

Note : /10
/10

Moyenne de la classe :

1) Parmi les figures suivantes je colorie en rouge les triangles, en bleu les rectangles et en vert les carrés.

/10




2) Complète le tableau par vrai ou faux.

/8

Un triangle a 4 côtés.	faux
Un rectangle a 4 côtés.	Vrai
Un carré a 3 côtés.	Faux
Un rectangle a des angles droits.	Vrai
Un triangle a des angles droits.	Vrai
Un carré n'a pas d'angle droit.	Faux
Les côtés du carré sont tous égaux.	Vrai
Les côtés d'un rectangle sont égaux 2 à 2.	vrai

3) Je dessine un carré, un rectangle et un triangle.

/6



4) Je dessine un carré, un rectangle et un triangle.

/6