

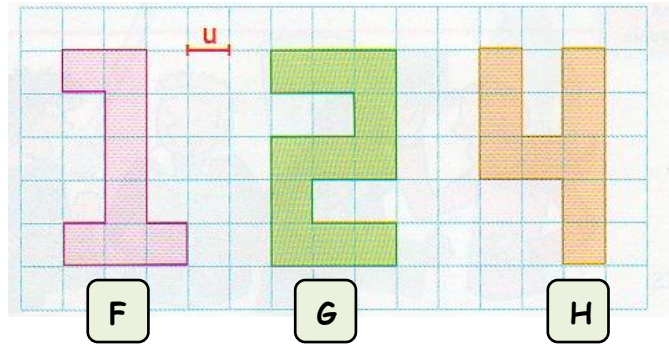
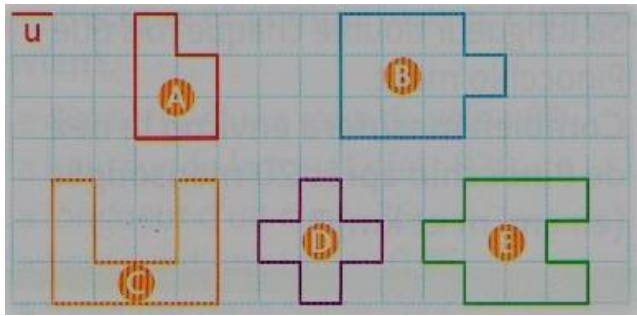


Grandeurs et mesures : Le périmètre
 Comparer et calculer des périmètres de polygones

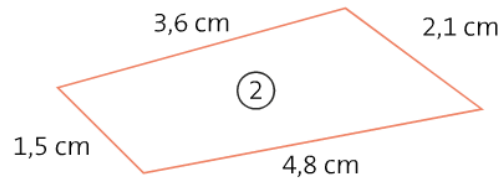
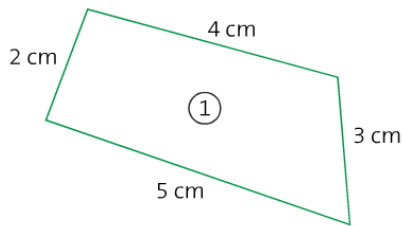
CM2

Fiche d'exercices n°3
 Leçon 2

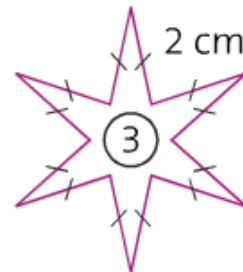
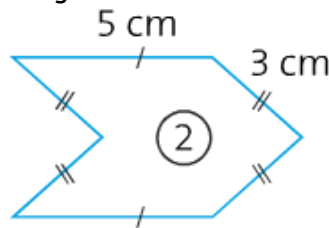
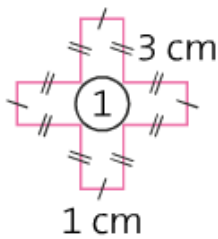
➔ **Exercice 1** : Calcule le périmètre de chaque polygone à l'aide de l'unité **u**.



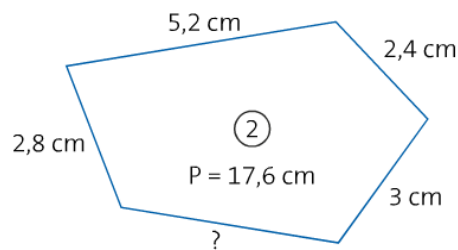
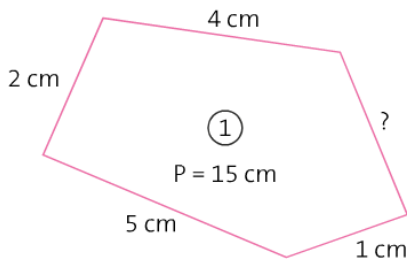
➔ **Exercice 2** : Calcule le périmètre de ces figures.



➔ **Exercice 3** : Calcule le périmètre de ces figures.



➔ **Exercice 4** : Trouve la mesure manquante pour chaque figure.



Pour aller plus loin !

➔ **Exercice 5** : Calcule le périmètre de chaque figure.

