


1. Voici les tarifs d'entrée de la piscine municipale. A partir du tableau, construis le graphique des entrées.

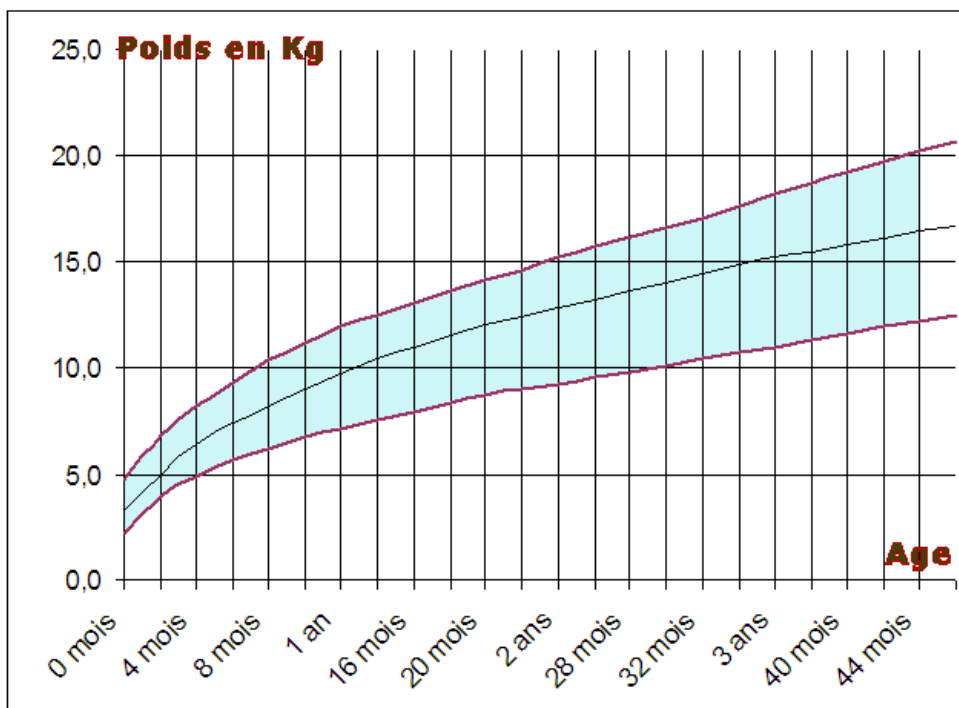
Nombre d'entrées	1	2	3	4	5	6	7	8	9	10
Prix entrée enfants	3	6	9	12	15	18	21	24	27	30

Nombre d'entrées



Prix

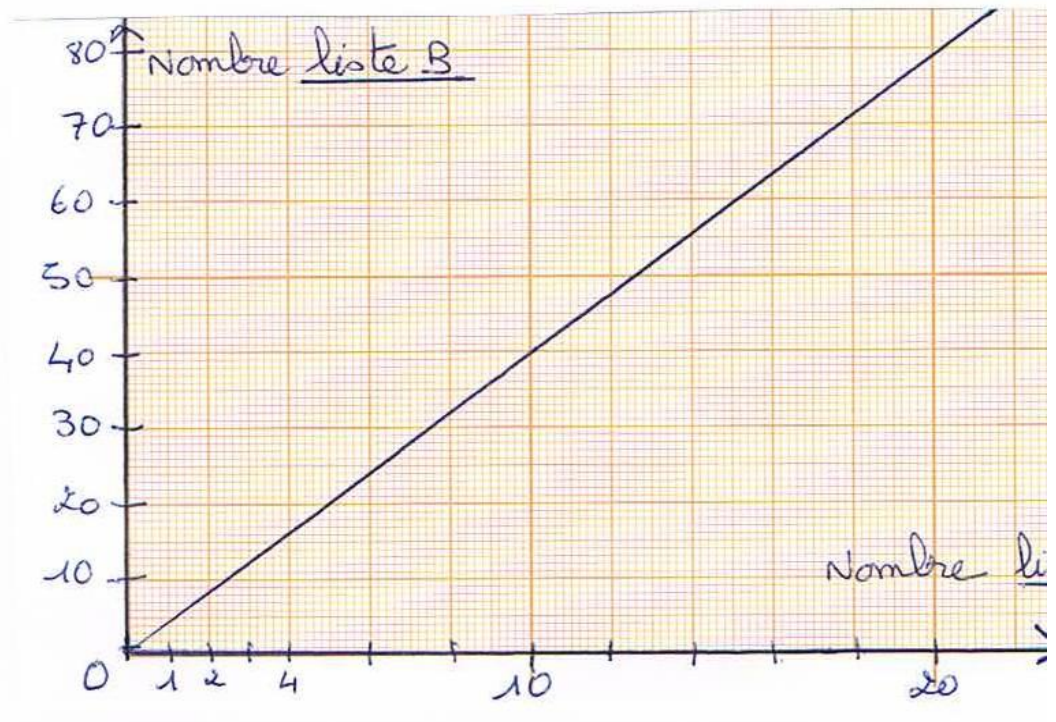
2. Voici le graphique d'un poids moyen d'un enfant en fonction de son âge.



Que peux-tu dire de ces 2 graphiques ? Sont -ils proportionnels ? Justifie tes réponses.

3. En t'aidant du graphique, complète les listes de nombres du tableau.

Liste A	Liste B
10	
15	
	24
	48
1,5	
	32
17	
	36
0	



Dans un magasin on vend le sachet de graines 1€50

- Peux-tu dire immédiatement combien on paie pour 0 sachets ? 1 sachet ? 10 sachets ?

- à l'aide de ces renseignements, construis un graphique qui te permettra de trouver le prix à payer selon le nombre de sachets achetés :

Trace un repère (unité 2 carreaux)

Place les points correspondant aux prix de 0, 1, 10 sachets

Relie ces points