

**Évaluation formative / révisions**

➤ Si on bloque mes articulations du coude (avec une attelle par exemple) est-ce possible de...

Mouvements	oui	non
- se toucher le bout du nez ?		
- marcher tranquillement ?		
- prendre un crayon sur un pupitre et écrire ?		
- boire un verre d'eau ?		
- s'asseoir et se relever seul-e ?		

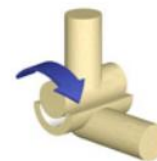
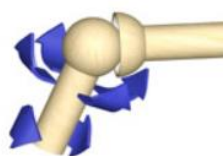


Imagine les bras d'un jouet playmobil

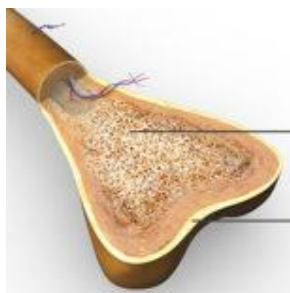
➤ Entoure la meilleure représentation du coude :

articulation sphérique

articulation charnière



➤ Comment s'appellent ces deux parties d'un os ?  
Complète le schéma :

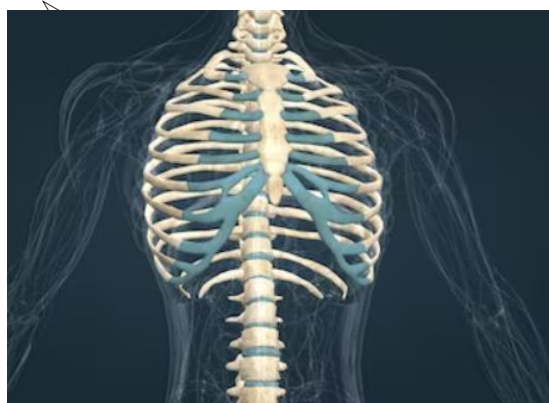


\_\_\_\_\_

\_\_\_\_\_

Le sternum est un des os de la cage thoracique.

➤ Cette partie de ton squelette joue un rôle important. Explique :



\_\_\_\_\_

\_\_\_\_\_

\_\_\_\_\_

\_\_\_\_\_

➤ Termine en donnant un exemple. \_\_\_\_\_

## Radiographie d'un genou:

Numérote à côté des points rouges:

1. Fémur , 2. Tibia, 3. Péroné, 4. Rotule aux deux radiographies

Genou plié:  
vu de côté

Genou tendu:  
vu de devant

palpe ton genou et trouve la rotule, le fémur et le tibia.

