
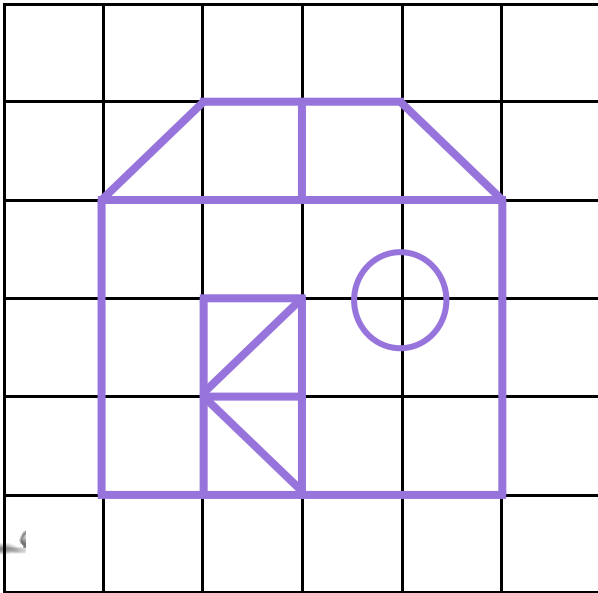


Défi

1

Reproduisez la même chose :




Défi

2

Coloriez comme ceci :

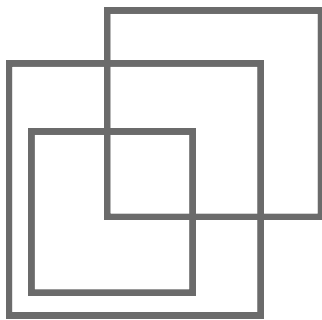
Le plus grand cadeau est bleu.
 Le plus petit est rouge.
 Le cadeau à droite est vert.
 Le cadeau à gauche est gris.
 Le dernier cadeau est violet.



Défi

3

Combien y a-t-il de carrés ?



Défi

4

Dans une classe, il y a 20 élèves.

Pour faire un jeu,
 la maîtresse demande
 de former des équipes
 de 5 enfants.



Combien d'équipes y aura-t-il ?

Défi

5

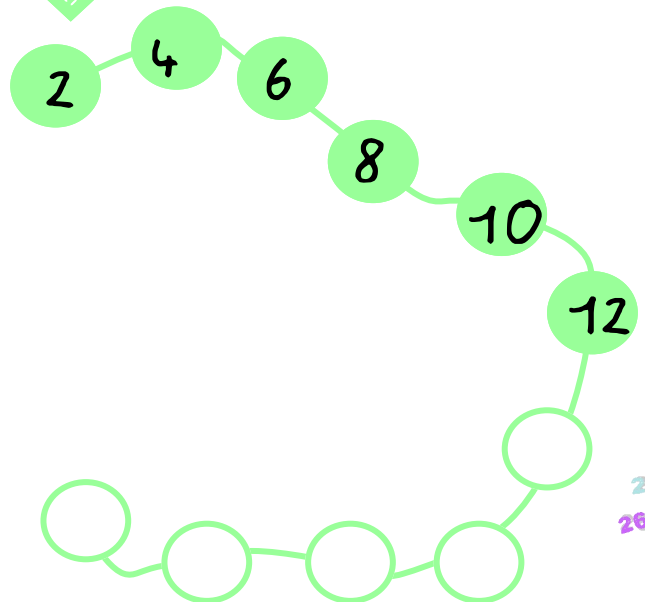
Quelle est la bande la plus longue ?
 Quelle est la bande la plus courte ?



Défi

6

Continuez la suite...



Défi
7

Les 4 chiffres doivent se trouver sur chaque ligne, dans chaque colonne et dans chaque carré.
Ecrivez-les à leur place.

| | | | | |
|---|---|---|---|---|
| | 1 | 2 | 3 | 4 |
| 2 | 1 | | | |
| 3 | | | 1 | |
| | 2 | | | 4 |
| | | | 2 | 1 |



Défi
10

Après le passage du Père Noël, voici le contenu de la tirelire de Toma.
Combien a-t-il d'argent ?




Défi
8

Après-demain, nous serons dimanche.
Quel jour étions-nous avant-hier ?



Défi
11

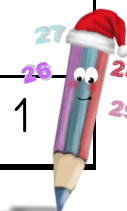
Combien y a-t-il de carrés et de rectangles dans cette figure ?



Défi
9

Un peu de calcul...
Ecrivez les résultats des opérations suivantes :

| | |
|--------------|-------------|
| $10 + 5$ | $9 - 3$ |
| $10 - 4$ | $16 + 5$ |
| $10 + 7$ | $4 + 3 + 2$ |
| $13 + 2$ | $7 + 4$ |
| $6 - 4$ | $8 - 4$ |
| $10 + 5 + 2$ | $6 + 4 + 1$ |



Défi
12

La maîtresse a 11 images, elle veut les partager entre Toma et Tibo.

Combien d'images chacun aura-t-il ?





| | | |
|---------------|--|--|
| <p>Défi 1</p> | | |
| <p>Défi 2</p> | | |
| <p>Défi 3</p> | <p>Il y a _____ carrés.</p> | |
| <p>Défi 4</p> | <p>Il y aura _____ équipes (de 5 enfants)</p> | |
| <p>Défi 5</p> | <p>La bande la plus courte est la _____ La bande la plus longue est la _____</p> | |
| <p>Défi 6</p> | <p>12 ○ ○ ○ ○ ○ ○</p> | |



Feuille réponses

Défi 7

| | | | |
|---|---|---|---|
| 2 | 1 | | |
| 3 | | 1 | |
| | 2 | | 4 |
| | | 2 | 1 |



Défi 8

Avant-hier, nous étions _____.



Défi 9

Réponses aux calculs :

| | |
|--|--|
| | |
| | |
| | |
| | |
| | |
| | |



Défi 10



Toma a maintenant _____ € dans sa tirelire.



Défi 11

Dans cette figure,

il y a _____ carrés.
il y a _____ rectangles.



Défi 12

Toma et Tibo auront chacun _____ images.



TOTAL :

VALI d'ees