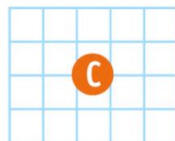


CE1

1 Écris l'opération qui correspond au quadrillage.



.....

.....

.....



.....

.....

2 Écris la multiplication qui correspond à chaque calcul.

a $5 + 5$ b $8 + 8 + 8 + 8 + 8$ c $6 + 6 + 6$ d $9 + 9$ e $4 + 4 + 4 + 4 + 4 + 4 + 4$ f $10 + 10 + 10$ g $2 + 2 + 2 + 2 + 2 + 2 + 2 + 2$ h $7 + 7 + 7 + 7$


3 Entoure les collections qui correspondent aux opérations.

a en bleu : 9×3 étoilesb en noir : 4×4 étoilesc en bleu : 10×2 cœursd en noir : 6×3 cœurs

CE1


4 Entoure toutes les étiquettes qui vont avec le quadrillage.

a



- $8 + 4$
- $8 + 8 + 8 + 8$
- $4 + 4 + 4 + 4 + 4 + 4 + 4 + 4$
- 4×8
- 8×4

b




- $5 + 6$
- 6×5
- $6 + 6 + 6 + 6 + 6$
- $5 + 5 + 5 + 5 + 5 + 5$

5 Dans le tableau, colorie de la même couleur les opérations et leur résultat.

20	5×4	$8 + 8 + 8$	10×2
2×6	6×2	24	$10 + 10$
2×9	4×3	9×2	18
4×5	12	2×10	$9 + 9$
$4 + 4 + 4$	6×3	3×6	6×4
4×6	3×8	3×4	8×3

6 Réponds à la question avec un schéma ou un calcul.

La marchande prépare 4 caquettes de 6 choux.
Combien a-t-elle de choux ?



.....

