


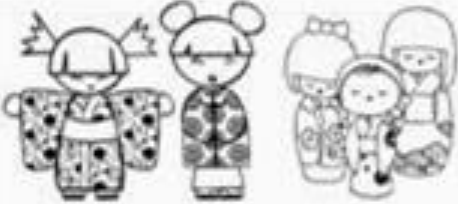





Activité mathématique : **Numération**

Compte les éléments de chaque collection et entoure le nombre qui convient :

	1 2 3 4 5 6 7 8 9
	1 2 3 4 5 6 7 8 9
	1 2 3 4 5 6 7 8 9
	1 2 3 4 5 6 7 8 9
	1 2 3 4 5 6 7 8 9
	1 2 3 4 5 6 7 8 9
	1 2 3 4 5 6 7 8 9

Je m'appelle : _____