

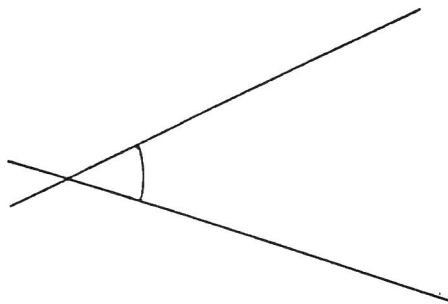
LES ANGLES

1. Les différentes sortes d'angle. Donne le nom de chaque type angle et leur/s valeur/s

Exemple :

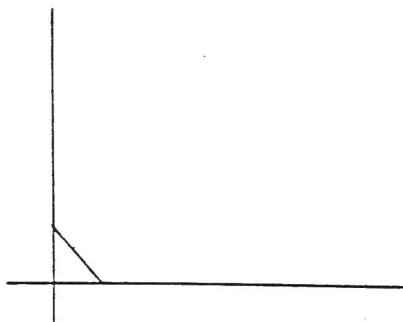
De 0° à 89°

Angle : aigu




De _____

Angle : _____



De _____ à _____

Angle : _____



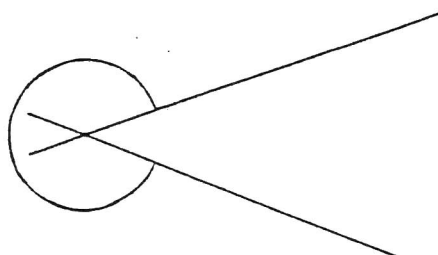
De _____

Angle : _____



De _____ à _____

Angle : _____



2. Mesure les angles et nomme-les, comme l'exemple donné.

