

Nom : \_\_\_\_\_

Prénom : \_\_\_\_\_

# Plan E

Travail 1	Travail 2	Travail 3	Travail 4	Travail 5	Travail 6	Travail 7	Travail 8	Travail 9	Travail 10
--------------	--------------	--------------	--------------	--------------	--------------	--------------	--------------	--------------	---------------

# SERIE N°E      TRAVAIL 1

## Poser des additions

### 1. Poser les additions suivantes en les plaçant proprement

$15 + 34$

$68 + 31$

$45 + 38$

$46 + 34$

$49 + 20$

$46 + 35$

$46 + 51$

$34 + 35$

$42 + 37$

$46 + 38$

		1	5																	
	+	3	4		+															
	<hr/>				<hr/>															

# SERIE N°E

# TRAVAIL 2

Colorie le mandala en utilisant **4 crayons de couleurs** différents.

- les crayons de couleurs doivent être bien taillés
- il ne doit **pas rester de blanc** dans le mandala
- tu ne dois **pas dépasser**

--	--	--	--

Colorie les cases avec les 4 couleurs de ton choix.



# SERIE N°1      TRAVAIL 3

## Calculs

### 1. Effectue les calculs suivants :

Additions jusqu'à 50
$38 + 11 = \underline{\quad}$
$27 + 16 = \underline{\quad}$
$10 + 23 = \underline{\quad}$
$0 + 7 = \underline{\quad}$
$20 + 24 = \underline{\quad}$
$13 + 29 = \underline{\quad}$
$17 + 3 = \underline{\quad}$
$28 + 5 = \underline{\quad}$
$27 + 3 = \underline{\quad}$
$27 + 6 = \underline{\quad}$

Additions de dizaines
$10 + 10 = \underline{\quad}$
$40 + 100 = \underline{\quad}$
$20 + 70 = \underline{\quad}$
$50 + 80 = \underline{\quad}$
$30 + 10 = \underline{\quad}$
$70 + 30 = \underline{\quad}$
$40 + 50 = \underline{\quad}$
$60 + 50 = \underline{\quad}$
$20 + 90 = \underline{\quad}$
$10 + 10 = \underline{\quad}$

Additions à trou
$5 + \underline{\quad} = 35$
$3 + \underline{\quad} = 10$
$1 + \underline{\quad} = 20$
$15 + \underline{\quad} = 25$
$23 + \underline{\quad} = 42$
$2 + \underline{\quad} = 20$
$13 + \underline{\quad} = 23$
$5 + \underline{\quad} = 15$
$24 + \underline{\quad} = 40$
$25 + \underline{\quad} = 50$

### 2. Pose les additions suivantes :

$55+58=\underline{\quad}$        $75+14=\underline{\quad}$        $46+36=\underline{\quad}$        $37+26=\underline{\quad}$

	5	5																		
+	5	8			+					+					+					
<hr/>					<hr/>					<hr/>					<hr/>					

# SERIE N°E      TRAVAIL 4

## Les noeuds : le dessin caché

	A	B	C	D	E	F	G	H	I	J
1										
2										
3										
4										
5										
6										
7										
8										
9										
10										
11										
12										

Place les points suivants et nomme-les :  $k : (A, 11)$      $l : (A, 4)$      $m : (E, 1)$      $n : (I, 4)$   
 $o : (I, 11)$      $p : (F, 11)$      $q : (F, 6)$      $r : (D, 6)$      $s : (D, 11)$

Maintenant que tu as placé tous ces points, tu vas devoir tracer des segments:

Accroche :  $k$  avec  $l$   
 $l$  avec  $m$   
 $m$  avec  $n$   
 $n$  avec  $o$   
 $o$  avec  $k$   
 $p$  avec  $q$   
 $q$  avec  $r$   
 $r$  avec  $s$

Alors, quel dessin as-tu obtenu ?      J'ai obtenu \_\_\_\_\_ .

Rappelle-toi :

Je place les points, en suivant bien les lignes. Je les accroche.

# SERIE N°E      TRAVAIL 5

## Passage de la dizaine

1. Calcule en passant par 10 (colorie les 2 qui font 10) :

$$\boxed{7} + 6 + \boxed{3} = \boxed{10} + 3 = 13$$

$$\boxed{8} + 8 + \boxed{2} = \boxed{10} + \underline{\quad} = \underline{\quad}$$

$$\boxed{5 + 5} + 7 = \underline{\quad} + \underline{\quad} = \underline{\quad}$$

$$\boxed{4} + 4 + \boxed{6} = \underline{\quad} + \underline{\quad} = \underline{\quad}$$

$$9 + 3 + 1 = \underline{\quad} + \underline{\quad} = \underline{\quad}$$

2. Calcule en passant par 10 (pour cela aide-toi des boîtes de Picbille :

$$7 + 6 = \boxed{7 + 3} + 3 = 13$$

$$7 + 8 = \boxed{7 + 3} + 5 = \underline{\quad}$$

$$4 + 9 = \boxed{4 + 6} + \underline{\quad} = \underline{\quad}$$

$$9 + 9 = \boxed{9 + \underline{\quad}} + \underline{\quad} = \underline{\quad}$$

$$8 + 8 = \boxed{8 + \underline{\quad}} + \underline{\quad} = \underline{\quad}$$

$$5 + 7 = \boxed{5 + \underline{\quad}} + \underline{\quad} = \underline{\quad}$$

$$6 + 8 = \boxed{6 + \underline{\quad}} + \underline{\quad} = \underline{\quad}$$

# SERIE N°E      TRAVAIL 6

## Les doubles de 0 à 20

### 1. Calcule :

$$\begin{array}{r} 5 \\ + 5 \\ \hline \end{array}$$

$$\begin{array}{r} 9 \\ + 9 \\ \hline \end{array}$$

$$\begin{array}{r} 1 \\ + 1 \\ \hline \end{array}$$

$$\begin{array}{r} 6 \\ + 6 \\ \hline \end{array}$$

$$\begin{array}{r} 8 \\ + 8 \\ \hline \end{array}$$

$$\begin{array}{r} 4 \\ + 4 \\ \hline \end{array}$$

$$\begin{array}{r} 3 \\ + 3 \\ \hline \end{array}$$

$$\begin{array}{r} 5 \\ + 5 \\ \hline \end{array}$$

$$\begin{array}{r} 7 \\ + 7 \\ \hline \end{array}$$

$$\begin{array}{r} 2 \\ + 2 \\ \hline \end{array}$$

$$\begin{array}{r} 0 \\ + 0 \\ \hline \end{array}$$

$$\begin{array}{r} 9 \\ + 9 \\ \hline \end{array}$$

$$\begin{array}{r} 6 \\ + 6 \\ \hline \end{array}$$

$$\begin{array}{r} 8 \\ + 8 \\ \hline \end{array}$$

$$\begin{array}{r} 4 \\ + 4 \\ \hline \end{array}$$

$$\begin{array}{r} 7 \\ + 7 \\ \hline \end{array}$$

$$\begin{array}{r} 1 \\ + 1 \\ \hline \end{array}$$

$$\begin{array}{r} 9 \\ + 9 \\ \hline \end{array}$$

$$\begin{array}{r} 3 \\ + 3 \\ \hline \end{array}$$

$$\begin{array}{r} 6 \\ + 6 \\ \hline \end{array}$$

$$\begin{array}{r} 8 \\ + 8 \\ \hline \end{array}$$

$$\begin{array}{r} 4 \\ + 4 \\ \hline \end{array}$$

$$\begin{array}{r} 7 \\ + 7 \\ \hline \end{array}$$

$$\begin{array}{r} 2 \\ + 2 \\ \hline \end{array}$$

$$\begin{array}{r} 0 \\ + 0 \\ \hline \end{array}$$

### 2. Colorie en utilisant 3 feutres différents :



# SERIE N°E TRAVAIL 7

## La table des nombres jusqu'à 100

**Colorie** les morceaux du puzzle, **découpe**-les et **recolle**-les dans la table des nombres :


---

**Demande à la maîtresse une copie de cette page afin de pouvoir découper !!!**

---

49	50	3	4	5	6	53	54	55	56	57	58				
59	60			15	16			65	66						
67	68	69	70	25	26										
		79	80	35	36	81	82								
61						91	92	93	94						
71	72	73	74	32											
		83	84	42						7	8	9	10		
				51	52							19	20		
				62	63	64						29	30		
43	44	45	46	47	48					37	38	39	40		
				1	2										
				12	13					14		17	18		
11				22	23					24		27	28		
21					33	34									
31	75	76	77	78											
41			87	88	89	90				85	86				
										95	96	97	98	99	100




# SERIE N°E


# TRAVAIL 8

Colorie le mandala en utilisant **4 crayons de couleurs** différents.

- les crayons de couleurs doivent être bien taillés
- il ne doit **pas rester de blanc** dans le mandala
- tu ne dois **pas dépasser**




Colorie les cases avec les 4 couleurs de ton choix.



# SERIE N°E TRAVAIL 9

## Coloriage magique

Combien de petits carrés dans les cases ?	de 0 à 24	noir	de 25 à 37	marron	de 38 à 52	vert	de 53 à 61	gris	de 62 à 69	bleu
										

# SERIE N°E

# TRAVAIL 10

## L'ordre des nombres jusqu'à 100

Juste avant		Juste après
<b>61</b>	<b>62</b>	<b>63</b>
	57	
	76	
	59	
	90	


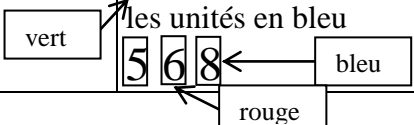
Juste avant		Juste après
<b>41</b>	<b>42</b>	<b>43</b>
26		
		37
64		
		67

## Range les nombres dans l'ordre croissant

12 – 56 – 49 – 82 – 22 : .....

29 – 73 – 45 – 63 – 31 : .....

## Représente les nombres à l'aide du code

Exemple : 243 	384	46
732	115	511
151	115	511
659	735	<u>Remarque</u> : tu peux d'abord colorier les centaines en vert  les dizaines en rouge les unités en bleu 

**Et pour finir, tu peux faire ici un dessin :**