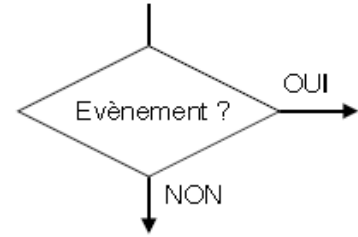
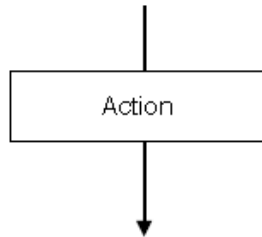
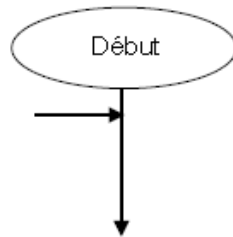


Niveau 0

ALGORITHME

A TOI DE RÉALISER LES ALGORITHMES PERMETTANT LES FONCTIONNEMENTS SUIVANTS



Un robot aspirateur recule dès qu'il touche un meuble ou s'il détecte un escalier.



| Meuble ? | Escalier ? | Reculer |
|----------|------------|---------|
| 0 | 0 | 0 |
| 0 | 1 | 1 |
| 1 | 0 | 1 |
| 1 | 1 | 1 |

| Evènements | Actions |
|--------------------|---|
| Meuble touché ? | Reculer (<i>et prendre une autre trajectoire</i>) |
| Escalier détecté ? | Avancer |

Il y aura donc une fonction **OU** dans le programme

